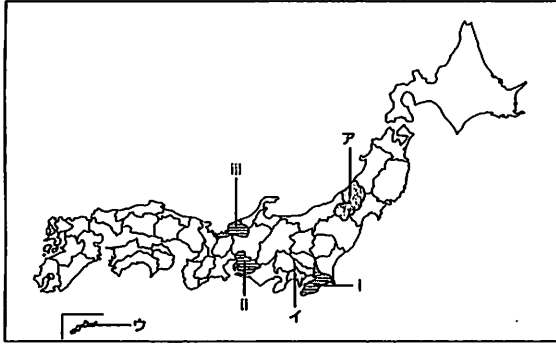


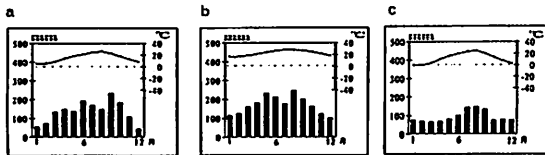
社 会

I 次のA・B・Cの略地図をみて、問1～問7に答えよ。

【略地図A】



問1 略地図AのA～ウの県庁所在地の雨温図a～cの組み合わせで正しいものを、下の①～⑥から1つ選べ。

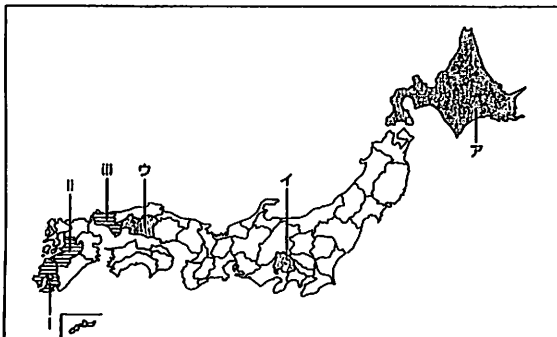


- ① A-a, I-b, U-c ② A-a, I-c, U-b
 ③ A-b, I-a, U-c ④ A-b, I-c, U-a
 ⑤ A-c, I-a, U-b ⑥ A-c, I-b, U-a

問2 略地図Aのi～iiiの県にある代表的な産業a～cの組み合わせで正しいものを、下の①～⑥から1つ選べ。

- a 高浜の原子力発電
 b 君津の石油化学工業
 c 豊田の自動車工業
- ① i-a, ii-b, iii-c ② i-a, ii-c, iii-b
 ③ i-b, ii-a, iii-c ④ i-b, ii-c, iii-a
 ⑤ i-c, ii-a, iii-b ⑥ i-c, ii-b, iii-a

【略地図B】



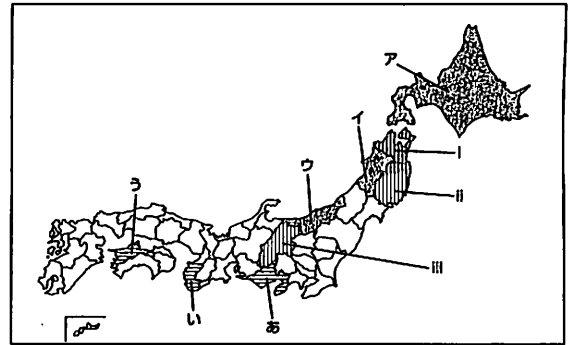
問3 略地図BのA～ウの県にある河川による浸食や堆積によってできた地形a～cの組み合わせで正しいものを、下の①～⑥から1つ選べ。

- a 太田川の三角州
 b 石狩川の三日月湖
 c 釜無川の扇状地
- ① A-a, I-b, U-c ② A-a, I-c, U-b
 ③ A-b, I-a, U-c ④ A-b, I-c, U-a
 ⑤ A-c, I-a, U-b ⑥ A-c, I-b, U-a

問4 略地図Bのi～iiiの県にある特徴的な地形a～cの組み合わせで正しいものを、下の①～⑥から1つ選べ。

- a 秋吉台のカルスト
 b 桜島によるシラス
 c 阿蘇山のカルデラ
- ① i-a, ii-b, iii-c ② i-a, ii-c, iii-b
 ③ i-b, ii-a, iii-c ④ i-b, ii-c, iii-a
 ⑤ i-c, ii-a, iii-b ⑥ i-c, ii-b, iii-a

【略地図C】



問5 略地図CのA～ウの県が国内生産量の上位3位をしめる農産物を、下の①～⑥から1つ選べ。

- ① みかん ② 大豆 ③ 米 ④ 茶
 ⑤ りんご ⑥ 梨

問6 略地図Cのi～iiiの県が国内生産量の上位3位をしめる農産物を、下の①～⑥から1つ選べ

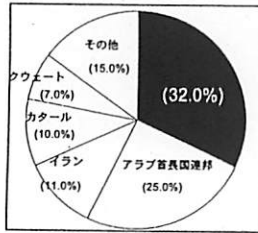
- ① みかん ② 大豆 ③ ブドウ ④ 茶
 ⑤ りんご ⑥ さつまいも

問7 略地図Cのあ～うの県が国内生産量の上位3位をしめる農産物を、下の①～⑥から1つ選べ


- ① みかん ② 大豆 ③ 米 ④ 茶
 ⑤ もも ⑥ ジャガイモ

Ⅱ 次の問1～問4で示した日本の輸入品のグラフをみて、輸入相手国1位の国を下の略地図の①～⑧からそれぞれ1つ選べ。

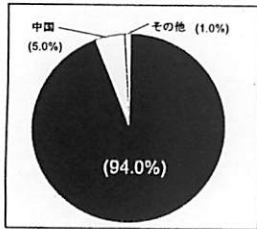
問1 石油



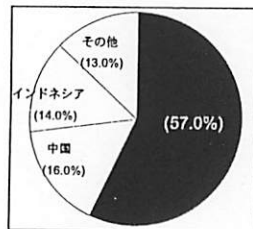
問2 コーヒー豆



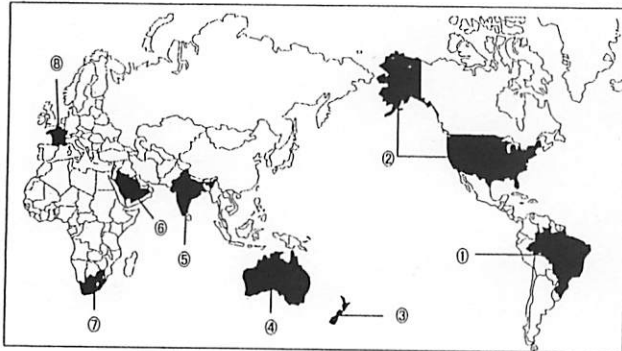
問3 トウモロコシ



問4 石炭



【略地図】



Ⅲ 次の文を読んで、問1～問8に答えよ。

奈良時代の中頃から、貴族や僧の間で勢力争いが激しくなり政治が混乱しはじめたので、**ア** 天皇は都を京都に移し、政治の改革に乗り出した。これ以降、**イ** 幕府が成立するまでの約400年を**㉑**平安時代という。

奈良時代の末から平安時代にかけて、天皇は朝廷の武力をもって支配地域を東北方面に広げようとしていたので、しばしば大軍を派遣していた。それに対し**ウ** 地方を支配していた蝦夷の指導者、阿弭流為が激しく抵抗したので、797年、**エ** を征夷大將軍に任じて、大軍を派遣し、降伏させた。しかし、その後も東北方面での蝦夷の抵抗は続き、政府の力が弱まった時期に、自立が進み豪族として力をのばすことになった。11世紀後半、豪族たちの勢力争いで二度の大きな戦乱が起こったが、そのよ

うな状況の中で、**㉒**奥州藤原氏は東北方面の豪族を統一し、独立国のような力をもつようになった。

問1 空欄 **ア** ・ **イ** に入る語句の組合せとして正しいものを、下の①～④から1つ選べ。

- ① アー聖武 イー室町
- ② アー聖武 イー鎌倉
- ③ アー桓武 イー室町
- ④ アー桓武 イー鎌倉

問2 空欄 **ウ** ・ **エ** に入る語句の組合せとして正しいものを、下の①～④から1つ選べ。

- ① ウー出羽 エー坂上田村麻呂
- ② ウー出羽 エー源義家
- ③ ウー胆沢 エー坂上田村麻呂
- ④ ウー胆沢 エー源義家

問3 下線部**㉑**の時代に朝廷が行ったことを、下の①～④から1つ選べ。

- ① 墾田永年私財法を発令し、土地の私有を認めた。
- ② 遣唐使を廃止し、中国との国交を中断した。
- ③ 「古事記」や「日本書紀」などの歴史書を編集させた。
- ④ 仏教を広げるため、国分寺や国分尼寺を地方につくった。

問4 下線部**㉑**の時代の文化について述べたものを、①～④から1つ選べ。


- ① 源氏物語絵巻などの大和絵が描かれるようになった。
- ② 観阿弥・世阿弥父子が猿楽能を完成させた。
- ③ 浮世絵の技術が進み、葛飾北斎は優れた風景画を描いた。
- ④ 運慶らが東大寺にある金剛力士像をつくった。

問5 下線部**㉑**の時代の作品ではないものを、下の①～④から1つ選べ。

- ① 紫式部の「源氏物語」
- ② 清少納言の「枕草子」
- ③ 紀貫之らの「古今和歌集」
- ④ 吉田兼好の「徒然草」

問6 下線部⑥に関係の深いものを、下の①～④から1つ選べ。

①



②



③



④



問7 下線部⑥に関して正しいものを、下の①～④から1つ選べ。

- ① 藤原清衡は北方との交易を行ったり、金や馬の売買で富を築いた。
- ② 朝鮮半島に出兵し、李舜臣が率いる水軍と戦った。
- ③ 京都の文化に影響され、多賀城をたてた。
- ④ 京都への往来のため、東海道の整備を行った。

問8 下線部⑥が滅びた時期に最も近い頃の政治について正しいものを、下の①～④から1つ選べ。

- ① 大宝律令にもとづいた政治が始まった。
- ② 建武の新政とよばれる政治が始まった。
- ③ 源頼朝は幕府を開き、武家政治が始まった。
- ④ 藤原道長は政治の主導権を握り、摂関政治を行った。

IV 次の問1～問6に答えよ。

問1 鎌倉時代の内容として正しいものを、下の①～④から1つ選べ。

- ① 源頼朝は御家人を「御成敗式目」と呼ばれる法律で統制した。
- ② 源氏の将軍が絶えたあと、幕府政治は老中が実権をにぎった。
- ③ 武士は武芸にはげみ、書院造りとよばれる簡素な住居に住んだ。

④ 貨幣は中国から輸入されていた宋銭が広く流通していた。

問2 室町時代の内容として正しいものを、下の①～④から1つ選べ。

- ① 足利尊氏は、吉野に移った後醍醐天皇と対立して戦った。
- ② 幕府は守護大名の反乱をおさえるため、参勤交代の制度を実施した。
- ③ 幕府は中国と貿易を行う商人たちに朱印状を発行した。
- ④ 8代将軍義教のあとつぎ問題をめぐり、細川氏と山名氏が対立した。

問3 安土桃山時代の内容として誤っているものを、下の①～④から1つ選べ。

- ① 千利休が茶の湯を大成させた。
- ② 豊臣秀吉が刀狩りをおこなった。
- ③ 杉田玄白らが「解体新書」を出版した。
- ④ 出雲の阿国の「かぶきおどり」が人気を集めた。

問4 江戸時代の内容として誤っているものを、下の①～④から1つ選べ。

- ① 貨幣経済が広がり、農民は商品作物を栽培するようになった。
- ② 農民に五人組をつくらせ、たがいに監視させた。
- ③ 有力農民や商人の中にも子弟に教育をうけさせるものがあらわれた。
- ④ 商人や手工業者は同業者ごとに座とよばれる団体をつくり、営業を独占した。

問5 寛政の改革の内容として誤っているものを、下の①～④から1つ選べ。

- ① 旗本たちに朱子学以外の学問を学ぶことを禁じた。
- ② 百姓の都市へのおかせぎを禁止し、凶作やききんに備えて米をたくわえさせた。
- ③ 商工業者が株仲間を結ぶことを奨励し、特権を与えるかわりに税金を取った。
- ④ 旗本や御家人の生活難を救うために借金を帳消しにした。

問6 江戸時代に貿易が許された国の組み合わせとして正しいものを、下の①～④から1つ選べ。

- ① オランダとイギリス
- ② オランダと中国
- ③ 中国とポルトガル
- ④ ポルトガルとイギリス

V 次のA～Fの文を読み、問1・問2に答えよ。

A 18世紀後半には産業革命を達成したイギリスは、19世紀中頃までに、インドシナのほぼ全域を植民地にした。同じころ、中国の明朝がイギリス産の商品を輸入しないことに対して、イギリスは、植民地で栽培したアヘンを密輸することで利益をあげるようになっていた。これを阻止しようとした中国とのあいだでついに戦争がおこった。

B 岩倉具視らを全権とする使節団以来、不平等条約を改正する努力がつかさねられたが、欧米諸国はなかなか応じなかった。そこで政府は、憲法の制定や普通選挙の実施、欧化政策のための鹿鳴館の建設など、日本が欧米と同様の文明国になったことを証明しようとした。その結果、陸奥宗光は、日露戦争の直前にイギリスとのあいだに関税自主権の完全回復を実現し条約改正に成功した。

C 1900年、中国民衆が西洋勢力を排斥しようとした義和団事件が失敗したあと、ロシアは満州に大軍をおくようになった。このため日本が、日英同盟をむすんでロシアをけん制したため戦争に発展した。ロシアでは革命の機運が高まったため、アメリカの仲介で戦争を終えることとなった。その結果、ロシアは日本に台湾などの租借権をゆずることとなった。

D ヨーロッパの東南を数百年にわたって支配してきたモンゴル帝国の力が衰えてきた。こうしたなか1914年、イタリア半島でおこったサラエボ事件をきっかけに、ドイツ・オーストリアとイギリス・フランス・アメリカとのあいだに戦争がはじまった。4年にわたる長い戦争ののち、アメリカ大統領が提案した14か条の平和の原則をもとに、ドイツの出席が許されないままパリで講和会議が開かれた。

E 第一次大戦後、対外的には侵略政策をとり、国内では民主主義を否定して暴力や宣伝を用いて政治体制を改革しようとする国家主義・全体主義的な運動があらわれた。これを といい、イタリアやドイツ・日本でさかんになった。とくに世界恐慌で深刻な打撃をうけたドイツでは、ヒトラーが率いるナチスの勢力がひろがった。ナチスはベルサイユ条約の破棄やワイマール憲法の破棄を主張して多くの国民を引きつけていった。

F 北京郊外で日本と中国の軍隊が衝突すると、全面戦争へと戦火はひろがっていった。戦争が拡大

すると、中国を助けようとしたアメリカ・イギリスと日本の関係が悪化し、1941年12月8日太平洋戦争がはじまった。戦争がはげしくなると、人も物資も戦争へ動員され、さらに兵力を確保するために、1943年から国家総動員法が決められた。アメリカは戦争の早期終結を名目に原子爆弾を投下した。さらにソ連も満州や朝鮮に侵攻してきたため、日本は降伏し、中国との全面戦争から6年たって戦争はようやく終わった。

問1 A～Fの文に3カ所引いてある下線部が、すべて正しければ①、1カ所誤っていれば②、2カ所誤っていれば③、3カ所とも誤っていれば④にマークせよ。

問2 Eの文の に入る語を答えよ。

VI 次の文を読んで、問1～問6に答えよ。

現代社会では、①家計の多くは企業などに②雇用されて得られる収入などの所得をもととして、③消費生活を営んでいる。これに対して、政府が行う経済活動を財政といい④主に税金を財源としている。これは、国の総合的な⑤公共サービスや活動を実施するためのものである。円滑な経済活動のためには、適切な金融政策と、企業と家計をつなぐ⑥金融機関の役割が大切である。

問1 下線部②の支出のうち、消費支出でないものを、下の①～④から1つ選べ。

- ① 教育費 ② 食料費
- ③ 医療費 ④ 社会保険料

問2 下線部⑥について、1日8時間の労働制を定めた法令の名称を漢字で答えよ。

問3 下線部③に関連する「食の安全」について、昨年の日本の出来事にあてはまらないものを、下の①～④から1つ選べ。

- ① 賞味期限をすぎた菓子が、期限を偽って販売された。
- ② 残留農薬に汚染された米が、食用として販売された。
- ③ BSEに汚染された野菜が、輸入されて販売された。
- ④ 有害物質の入った冷凍食品が、輸入されて販売された。

問4 下線部④に関する説明として、誤っているものを、下の①～④から1つ選べ。

- ① 法人税は直接税であり、国に納めるものである。

- ② 所得税は、すべての人に同じ税率が適用されている。
- ③ 消費税は消費者が負担し、事業者が納税する間接税である。
- ④ 国債も大きな収入源であるが、国債の残高が増えれば財政を圧迫する。

問5 下線部㊸について、公共料金でないものを、下の①～④から1つ選べ。

- ① ガソリン価格 ② 鉄道運賃
- ③ 郵便料金 ④ 公衆浴場入浴料

問6 下線部㊹について、日本銀行の金融政策として正しいものを、下の①～④から1つ選べ。

- ① インフレーションのおそれがあるときには、公共投資を増やす。
- ② デフレーションのおそれがあるときには、減税を行う。
- ③ 好況時には、一般の銀行がもつ国債を買い上げる。
- ④ 不況時には、公定歩合を引き下げて、一般の銀行に低金利でお金を貸し出す。

Ⅶ 次の問1～問8に答えよ。

問1 日本国憲法の条文に定められている権利を、下の①～④から1つ選べ。

- ① プライバシーの権利 ② 環境権
- ③ 知る権利 ④ 請願権

問2 通常国会の会期を、下の①～④から1つ選べ。

- ① 50日間 ② 100日間
- ③ 150日間 ④ 200日間

問3 内閣を構成する国務大臣を選ぶ時のきまりを、下の①～④から1つ選べ。

- ① 国務大臣の過半数は、民間人から選ぶ。
- ② 国務大臣の過半数は、国会議員から選ぶ。
- ③ 国務大臣は全員、民間人から選ぶ。
- ④ 国務大臣は全員、国会議員から選ぶ。

問4 最高裁判所の裁判官は全員で何人か、下の①～④から1つ選べ。

- ① 5人 ② 10人 ③ 15人
- ④ 20人

問5 地方税にあてはまらないものを、下の①～④から1つ選べ。

- ① 所得税 ② 事業税
- ③ 自動車税 ④ 固定資産税

問6 国際連合の安全保障理事会の常任理事国にあてはまらない国を、下の①～④から1つ選べ。

- ① アメリカ ② イギリス
- ③ ロシア ④ ドイツ

問7 昨年7月、サミット（主要国首脳会議）が開催された場所を、下の①～④から1つ選べ。

- ① 沖縄県 ② 愛知県
- ③ 東京都 ④ 北海道

問8 昨年11月、アメリカ大統領選挙で当選した人物を、下の①～④から1つ選べ。

- ① ブッシュ ② クリントン
- ③ オバマ ④ マケイン

