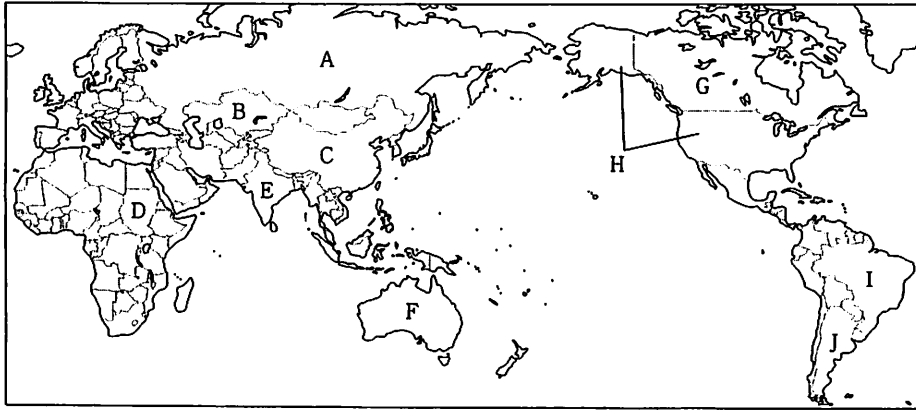


1 次の図中のA～Jは、世界の中で国土面積の上位10位までの国を表しています。この図を見て、下の各問いに答えなさい。



- 問1. 次の1～4の文にあてはまる国を、図中のA～Jから1つずつ選び、記号で答えなさい。
- この国は、人口密度が高く、バナナの生産世界第1位であり、米の生産は、世界第2位である。また、ジャガイモや大豆の生産が多い。牛の家畜頭数も多いが宗教上の理由から食用とはしない人が多い。また、鉱産資源にも恵まれている上、IT産業が盛んである。
 - この国は、国土のほとんどが冷帯気候である。森林資源が豊富で、日本にもたくさん輸出している。今年冬季オリンピックが開催される。
 - この国の国名の由来は、ポルトガル語で「紅の木」を意味している。日本からすると地球の裏側にあり、日本からたくさんの人が移住している。また、世界最大の流域面積をもつ大河が流れ、熱帯雨林が広がっている。
 - この国は、農業国であるとともに工業国でもある。広大な国土は、自然環境もさまざまであり、その土地にあった適地適作を行っている。また、地下資源にも恵まれ、これを活用した工業が発達している。国の西部には、世界最先端技術の多くを生み出している、シリコンバレーがある。

問2. Aの高緯度地域では、夏至のころになると、一日中太陽が沈まない日が続く。このような現象を何といいますか。次のア～エから1つ選び、記号で答えなさい。

- ア. 白夜 イ. 冷害 ウ. 日食 エ. 極夜

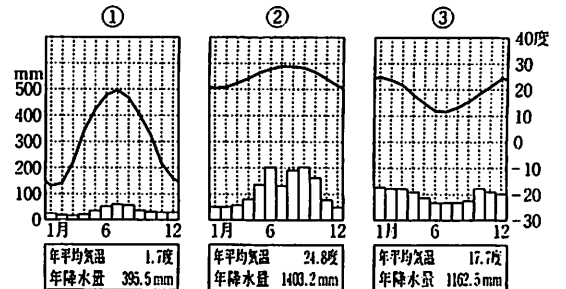
問3. Cでは、多くの漢民族と複数の少数民族が生活しています。この国の複数の少数民族にふくまれないものを、次のア～エから1つ選び、記号で答えなさい。

- ア. ウイグル族 イ. 朝鮮族 ウ. イヌイット エ. チベット族

問4. Fの中央部や北部に設けられている保護区に住む、この国の先住民を何といいますか。

問5. 右の①～③の気温と降水量のグラフは、A～Jの国にある都市のいずれかのもので、正しい組み合わせをア～エから1つ選び、記号で答えなさい。

- ア. ①-D ②-A ③-B イ. ①-A ②-H ③-J
 ウ. ①-H ②-G ③-F エ. ①-I ②-J ③-D



(理科年表 平成17年)

2 次の文を読んで、下の各問いに答えなさい。

日本は、南北に細長くて山地も多く、^①気候が多様なため各地で特色のある農業が発達してきました。なかでも、米作りは日本の農業の中心です。特に東北地方や新潟県、北海道は、米の生産量が大きく、日本の穀倉地帯になっています。日本は、^②単位面積あたりでは高い収穫量をあげていますが、農業において、国際競争力にとほしいのが問題です。日本では、食事が洋風化するにつれて米の消費量がしだいに減り、米があまるようになりました。そのため、政府は米以外の作物の栽培をすすめるなど米の生産量を減らす(1)政策を進めました。

食事の洋風化で肉類や乳製品の消費が増え、農業全体に占める畜産業の割合は、3割に達しています。北海道では乳牛や肉牛の飼育が、鹿児島県では(2)の飼育もさかんです。しかし、牛肉・乳製品の輸入が自由化され、安い輸入肉や乳製品が出まわるようになって、農家は大きな打撃を受けています。また、林業はかつてさかんな産業の一つでした。奈良県の吉野の(3)や長野県の本谷のひのきなどの人工林は、全国的に有名です。しかし、木材の生産費用が外国からの輸入材の価格を上回るようになったため、現在では国内での消費量は約8割が輸入材になりました。^③畜産業、林業ともに、経営が困難になっています。

最近日本の工業も変化してきました。外国から輸入されるせんい製品や電気製品などによって、日本国内の産業が打撃を受けることが増えてきました。日本の企業のなかにも、国内に研究開発や販売部門を残し、工場をアジアなどの外国に移す企業が増えてきました。そのため失業問題が深刻になったり、高度な工業製品をつくる技術力が受けつがれなくなったりすることが心配されています。このように、産業の(4)と呼ばれる製造部門が国内からなくなる状況が起こっています。

問1. (1)～(4)にあてはまる語句をそれぞれ答えなさい。

問2. 下線部①について、次のア～エのうち、各地の農業のようすをのべた文として正しくないものを1つ選び、記号で答えなさい。

- ア. 北上川流域の平地では、おもに水田による稲作が行われています。水田の東西に広がる畑作地域では、ほうれんそうやレタスといった野菜生産やりんどうなどの花きの栽培がさかんです。また、山間部には牧草地が広がっています。
- イ. 渥美半島では、温暖な気候を利用して、ビニールハウスで野菜や花きを作る施設園芸農業が盛んに行われています。
- ウ. 筑後地域は、古くから米作地帯として知られていましたが、近年では、いちごやなすなどが施設園芸で栽培され、航空機で東京や大阪などの大都市に出荷されるようになりました。また、これまでのみかんに加えてかき・ぶどう・キウイなどのくだもの栽培も進み、花きの栽培もさかんです。
- エ. ジャガイモ・だいこん・にんじん・たまねぎなどは北海道が全国第1位の生産量となっています。また、米の生産も道内各地で広くおこなわれており、全国有数の生産量をほこっています。

問3. 下線部②の理由として正しくないものを次のア～エから1つ選び、記号で答えなさい。

- ア. 機械化が進んでいるから。 イ. 多くの肥料を使っているから。 ウ. 小規模経営だから。 エ. 農業従事者数が多いから。

問4. 下線部③の理由として正しくないものを次のア～エから1つ選び、記号で答えなさい。

- ア. 経営の大規模化のため。 イ. 働く人の高齢化のため。 ウ. 後継者不足のため。 エ. 生産物の低価格化のため。

5 右のⅠ・Ⅱのグラフを見て、下の各問いに答えなさい。

問1. グラフⅠのAの時期を何といますか。次のア～エから1つ選び、記号で答えなさい。

- ア. 円高不況 イ. 高度経済成長期 ウ. バブル景気 エ. 平成不況

問2. グラフⅠのAの時期のようすにあてはまる文を次のア～エから1つ選び、記号で答えなさい。

- ア. 公害対策基本法が定められ、環境庁が設置された。これにより、企業も社会も環境保護に積極的に取り組むようになった。
 イ. 女性が生涯で産む子どもの数は1.5人を下まわり、一方で医療技術の発達などにより、65歳以上の人口に占める割合が急速に増加した。
 ウ. 家電品が普及し、洗濯機・冷蔵庫・テレビがどの家庭にも見られるようになった。
 エ. 男女共同参画社会基本法が施行され、性別に関係なく個性や能力を発揮できる社会がめざされるようになった。

問3. グラフⅠのAの時期には大量のエネルギーを消費し、製品を大量に生産し、大量に消費しました。これに対して、現在は省エネルギーや資源の再利用を考えた製品の開発・生産を進めるようになりました。このような社会を何といますか。次のア～エから1つ選び、記号で答えなさい。

- ア. 多文化社会 イ. 共生社会 ウ. 情報社会 エ. 循環型社会

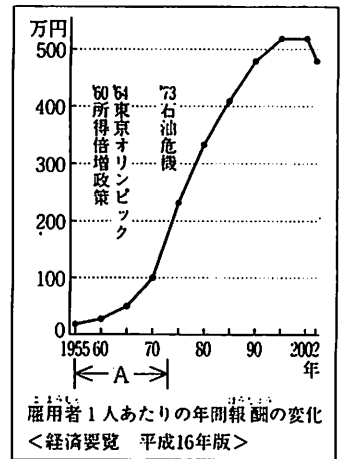
問4. グラフⅡのB・C・Dはそれぞれ第一次産業、第二次産業、第三次産業のいずれかです。次のア～エからBにあてはまるものを1つ選び、記号で答えなさい。

- ア. 農業 イ. 鉱工業 ウ. 運輸業 エ. 飲食業

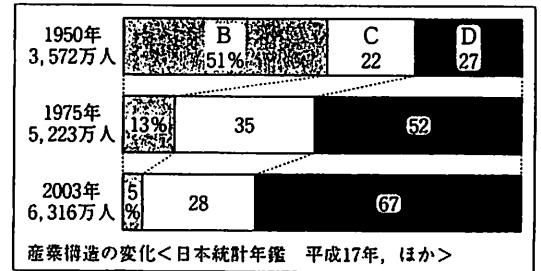
問5. グラフⅡの変化とともに変わってきた社会の様子についてのべた文として正しくないものを次のア～エから1つ選び、記号で答えなさい。

- ア. 情報産業や宅配便産業、リース産業などのように、「もの」を売ることから「サービス」を売るサービス産業が急速に発達した。
 イ. 国民の所得や余暇時間が増え、外食や旅行などをする人が多くなってきた。
 ウ. 社会に進出し、活躍する女性も増え、今まで男性だけの仕事と思われていた分野にも、女性が積極的に進出してきた。
 エ. 雇用、賃金、昇進などについての男女間の格差がなくなった。

グラフⅠ



グラフⅡ



6 次の文を読んで、下の各問いに答えなさい。

国会議員や地方議会の議員を選ぶ選挙は、国民が政治に参加する貴重な機会といえます。選挙権は憲法で保障されていて、国会議員の選挙などでは、投票できるのは満20歳以上とされています。それ以外の制限はないため、だれでも選挙権はあたえられています。これを(1)選挙といいます。さらに、現在の選挙は、一人一票の(2)選挙、議員を直接選出する(3)選挙、無記名で投票を行う(4)選挙という4つの原則のもとで行われています。

選挙制度には、一つの選挙区で一人の代表を選ぶ制度と、政党に投票して、政党の得票数に応じて議席を配分する制度とがあります。現在、衆議院議員選挙はそれらを組み合わせて行われています。

選挙は、国民が自分の考えを示すためのなくてはならない機会ですが、近年、選挙に行かない棄権が多くなっています。しかし、選挙を棄権すると、一部の人たちによって政治の大切なことが決められてしまうことにもなります。選挙で投票するときには、政党や候補者の意見を良く聞いて判断することが重要です。なぜならば、一般に衆議院議員選挙で第一党になった政党の党首が、国会で内閣総理大臣に指名され、内閣を組織するからです。

問1. (1)～(4)にあてはまる語句をそれぞれ答えなさい。

問2. 下線部①の制度を何といますか。

問3. 次のア～エのうち、下線部②の理由として正しくないものを1つ選び、記号で答えなさい。

- ア. 「選挙に行くより遊びに行ったほうがよい」と考える人が多くなったから。
 イ. 「選挙に行っても何も変わらない」と考える人が多くなったから。
 ウ. 「選挙に行かないほうが、自分の支持する政党や候補者が当選しやすい」と考える人が多くなったから。
 エ. 「政党や候補者の意見の違いがよく分からない」と考える人が多くなったから。

問4. 下線部③のような政党を何といますか。漢字2文字で答えなさい。

7 右の表を見て、下の各問いに答えなさい。

問1. 国や地方公共団体が価格を決めたり認可したりするものを表の中から1つ選びなさい。

問2. 次の文中(①)～(④)にあてはまる語句の組み合わせとして正しいものを下のア～エから1つ選び、記号で答えなさい。

リングのような農産物は日によって価格が違ふ可能性があります。たとえば、価格が高くなるときは、(①)が(②)するか、(③)が(④)するときです。

- ア. ①-需要 ②-減少 ③-供給 ④-増加 イ. ①-需要 ②-増加 ③-供給 ④-減少
 ウ. ①-需要 ②-減少 ③-供給 ④-減少 エ. ①-需要 ②-増加 ③-供給 ④-増加

問3. シャープペンシルのような「もの」がすぐにごわれてしまうような欠陥があった場合に、最も関係の深い法律または制度を次のア～エから1つ選び、記号で答えなさい。

- ア. 消費者契約法 イ. 製造物責任法 ウ. クーリング・オフ エ. オンブズマン

ある日のA君のお金の使いみち

電車賃	500円
ハンバーガー	150円
映画	1000円
シャープペンシル	200円
雑誌	350円
リング	100円

1	問	(1)	(2)	(3)	(4)
	1				
問		問		問	
2		3		4	
					問
					5

2	問	(1)	(2)	(3)	(4)
	1				
問		問		問	
2		3		4	

3	問		問		問		問		問	
	1		2		3		4		5	
問		問		問		問		問		
6		7		8		9		10		

4	問		問		問		問		
	1		2		3		4		
問				問		問		問	
5				6		7		8	

5	問		問		問		問	
	1		2		3		4	
問								
1								

6	問	(1)	(2)	(3)	(4)
	1				
問				問	
2				3	
					問
					4

7	問		問		問	
	1		2		3	

受験番号		氏名		得点	
------	--	----	--	----	--

社会

入学試験問題解答

1 16点	問1	(1) E	(2) G	(3) I	(4) H
	問2	ア	問3 ウ	問4 アボリジニ	問5 イ

2 14点	問1	(1) △ 減反	(2) ブタ (豚)	(3) すぎ (杉)	(4) △ 空洞化
	問2	エ	問3 エ	問4 ア	

3 20点	問1	⑦	問2 ア	問3 ア	問4 ア	問5 エ
	問6	ウ	問7 ウ	問8 ウ	問9 イ	問10 ⑥

4 20点	問1	ウ	問2 ア	問3 イ ↔ エ	問4 ア
	問5	共産党	問6 エ	問7 イ	問8 ア ↔ エ

5 10点	問1	イ	問2 ア	問3 エ	問4 ア	問5 エ
----------	----	---	---------	---------	---------	---------

6 14点	問1	(1) △ 普通	(2) △ 平等	(3) △ 直接	(4) △ 秘密
	問2	△ 小選挙区比例代表並立制	問3 ウ	問4 与党	

7 6点	問1	△ 電車賃	問2 イ	問3 イ
---------	----	-------	---------	---------

□の箇所は、漢字のみの完全解答2点
すべて各2点 (但し△印の箇所、カナ解答1点)

受験番号	氏名	得点
------	----	----