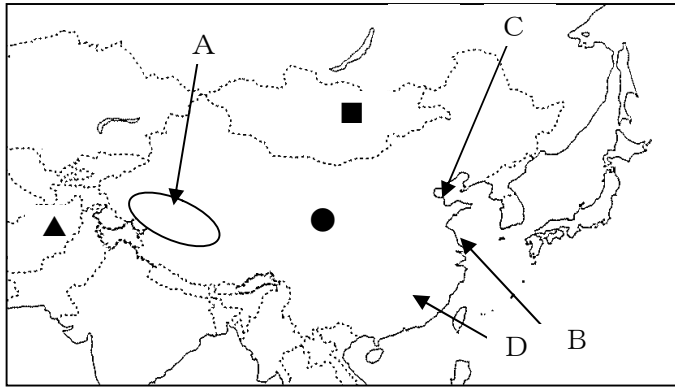


1. 下の地図を見て、次の問い (1) ~ (7) に答えなさい。



(1) 地図中の●国について、次の文中 (①) ~ (③) の答えとして正しい語句の組み合わせを (ア) ~ (オ) より 1 つ選び、記号で答えなさい。

●国の工業は、この 20 年あまりで飛躍的に発展してきた。かつては (①) とよばれる、政府が直接工場に対し生産計画を指示する仕組みを取っていたため、生産にむだやひずみが生じていた。その後、(②) 政策がとられるようになり、自由な経済活動が可能になり、(③) 部を中心に多くの外国企業の工場も進出している。

| | (①) | (②) | (③) |
|-----|--------|------|-------|
| (ア) | ブロック経済 | 経済開放 | 東部の海岸 |
| (イ) | 計画経済 | 保護主義 | 西部の内陸 |
| (ウ) | ブロック経済 | 計画経済 | 南部の海岸 |
| (エ) | 計画経済 | 経済開放 | 東部の海岸 |
| (オ) | 人民公社 | 計画経済 | 南部の海岸 |

(2) 地図中の A ~ C に該当する語句を (ア) ~ (オ) より 1 つ選び、記号で答えなさい。

| | A | B | C |
|-----|---------|----|------|
| (ア) | モンゴル高原 | 上海 | 黄河河口 |
| (イ) | チベット高原 | 北京 | 長江河口 |
| (ウ) | テンシヤン山脈 | 香港 | 長江河口 |
| (エ) | テンシヤン山脈 | 北京 | 黄河河口 |
| (オ) | チベット高原 | 上海 | 黄河河口 |

(3) 地図中の●国で、人口の抑制のために奨励されている政策を何というか答えなさい。

(4) 地図中の D の周辺の有名な農産物を (ア) ~ (オ) より 1 つ選び、記号で答えなさい。

- (ア) 小麦 (イ) とうもろこし (ウ) 茶
(エ) コーヒー豆 (オ) 大豆

(5) 日本の鳩山首相が、2009 年 9 月に地図中の●国との首脳会談で創設を提案した共同体の名称を答えなさい。

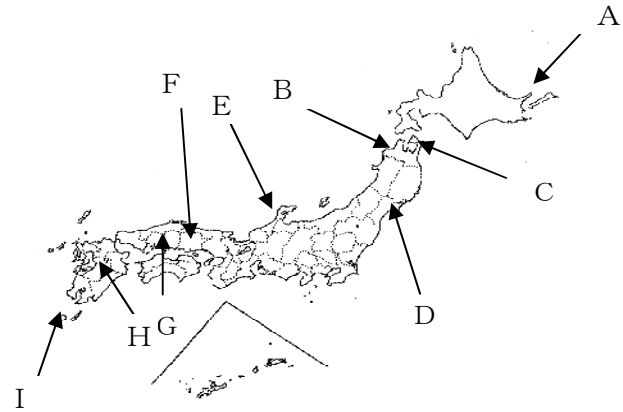
(6) 地図中の▲国の名称を、(ア) ~ (オ) より 1 つ選び、記号で答えなさい。

- (ア) トルコ (イ) パキスタン (ウ) イラン
(エ) アフガニスタン (オ) バングラデシュ

(7) 地図中の■国の首都であるウランバートルの気候を、(ア) ~ (オ) より 1 つ選び、記号で答えなさい。

- (ア) サバナ気候 (イ) 温暖湿潤気候 (ウ) ステップ気候
(エ) 冷帯気候 (オ) 温暖冬季少雨気候

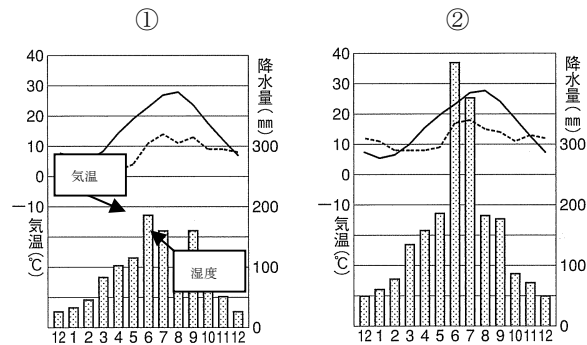
2. 下の地図を見て、次の問い (1) ~ (5) に答えなさい。



(1) 地図中の A・B・I の場所に共通する条約名を、(ア) ~ (オ) より 1 つ選び、記号で答えなさい。

- (ア) ラムサール条約 (イ) ウィーン条約
(ウ) ワシントン条約 (エ) 日米安全保障条約
(オ) 世界遺産条約

(2) 次の①・②の気候と降水量のグラフは、地図中の E・F・H のどの地域のものか、(ア) ~ (オ) より 1 つ選び、記号で答えなさい。



- (ア) ①=F・②=H (イ) ①=F・②=E (ウ) ①=H・②=E
(エ) ①=E・②=F (オ) ①=H・②=F

(2006/07 日本国勢図会より)

(3) 地図中の G の河口付近で川の流が遅くなり、運んできた土砂がたまってできている地形の名称を答えなさい。

(4) 地図中の D が河口となる河川の名称を、(ア) ~ (オ) より 1 つ選び、記号で答えなさい。

- (ア) 雄物川 (イ) 最上川 (ウ) 信濃川
(エ) 阿賀野川 (オ) 北上川

3. 下の年表を見て、次の問い(1)～(11)に答えなさい。

| 西暦年代など | 出来事 |
|--------|-----------------------|
| 603 | 冠位十二階を定める・・・(A) |
| 794 | 平安京に都を移す・・・(B) |
| 935 | 平将門の乱がおこる |
| 1297 | 徳政令がだされる |
| 1404 | 足利義満が(D)貿易を始める |
| 1543 | ポルトガル人が種子島に流れつく・・・(E) |
| 1573 | 織田信長が室町幕府をほろぼす |
| 1787 | 寛政の改革が始まる |
| 1789 | フランス革命がおこる・・・(G) |
| 1840 | 清でアヘン戦争が始まる |
| 1894 | 日清戦争が始まる |
| 1904 | 日露戦争が始まる・・・(I) |
| 1921 | ワシントン会議がひらかれる・・・(J) |
| 1933 | ドイツにヒトラー政権が成立する・・・(K) |

(1) 年表中(A)の前におこった出来事として誤っているものを(ア)～(オ)より1つ選び、記号で答えなさい。

- (ア) 大仙古墳がつくられる
- (イ) 小野妹子が遣隋使として送られる
- (ウ) 卑弥呼が邪馬台国の王となる
- (エ) 倭の奴国の王が漢に使いを送る
- (オ) 西日本を中心に稲作が始まる

(2) 年表中(B)を行った天皇に関係のある事柄を(ア)～(オ)より1つ選び、記号で答えなさい。

- (ア) 大化の改新がおこる
- (イ) 大宝律令を定める
- (ウ) 法隆寺ができる
- (エ) 古事記ができる
- (オ) 坂上田村麻呂が蝦夷を攻める

(3) 年表中(C)の期間の出来事でないものを(ア)～(オ)より1つ選び、記号で答えなさい。

- (ア) 建武の新政が始まる
- (イ) 院政が始まる
- (ウ) 保元の乱がおこる
- (エ) 元寇がおこる
- (オ) 承久の乱がおこる

(4) 年表中(D)にあてはまる語句を答えなさい。

(5) 年表中(E)の際に日本に伝えられ、まもなく堺などでさかんにつくられるようになったものは何か答えなさい。

(6) 年表中(F)の期間にあらわれた、次の①～⑤の人物と関係が深い事柄が、語群a～eと正しく組み合わせられているものを(ア)～(オ)より1つ選び、記号で答えなさい。

- ① 伊能忠敬 ② 豊臣秀吉 ③ 千利休
- ④ 徳川吉宗 ⑤ 松尾芭蕉

| 語群 | | |
|----------|-------------|---------|
| a 茶の湯の大成 | b 俳諧 | c 享保の改革 |
| d 太閤検地 | e 大日本沿海輿地全図 | |

| | ① | ② | ③ | ④ | ⑤ |
|-----|---|---|---|---|---|
| (ア) | e | d | c | a | b |
| (イ) | e | c | a | d | b |
| (ウ) | e | d | a | c | b |
| (エ) | b | c | e | d | a |
| (オ) | b | d | e | c | a |

(7) 年表中(G)の際に国民議会が発表した宣言を答えなさい。

(8) 年表中(H)の期間の出来事を(ア)～(オ)より1つ選び、記号で答えなさい。

- (ア) アメリカの独立宣言
- (イ) イギリスの名誉革命
- (ウ) マゼランの世界一周
- (エ) ルターの宗教改革
- (オ) アメリカの南北戦争

(9) 年表中(I)の10年後におこった事柄について、正しいものを(ア)～(オ)より1つ選び、記号で答えなさい。

- (ア) 産業革命が始まる
- (イ) 第一次世界大戦が始まる
- (ウ) ロシア革命がおこる
- (エ) 中華民国が成立する
- (オ) ドイツ帝国が成立する

(10) 年表中(J)の前年につくられた世界平和を守るための国際機構を漢字4文字で答えなさい。

(11) 年表中(K)のヒトラーと同じようにイタリアで独裁政治をおこなった人物を(ア)～(オ)より1つ選び、記号で答えなさい。

- (ア) ムッソリーニ
- (イ) レーニン
- (ウ) スターリン
- (エ) ルーズベルト
- (オ) ガンディー

4. 次の政治に関する問い(1)～(4)に答えなさい。

(1) 下の国会に関する表中の(A)にあてはまる語句を漢字6文字で答えなさい。

| 種類 | 会 期 |
|-----|--|
| 常会 | 毎年(①)中に召集され、会期は150日間である。 |
| 臨時会 | 内閣が必要と認めたとき、または、どちらかの議員の(②)以上の要求があったとき召集される。 |
| 特別会 | (③)解散後の総選挙の日から(④)日以内に召集され(A)が指名される。 |

(2) 上の表中の(①)～(④)に入る語句の組み合わせとして、正しいものを(ア)～(オ)より1つ選び、記号で答えなさい。

| | (①) | (②) | (③) | (④) |
|-----|-------|-------|-------|-------|
| (ア) | 1月 | 4分の1 | 衆議院 | 30 |
| (イ) | 2月 | 3分の1 | 衆議院 | 40 |
| (ウ) | 3月 | 3分の1 | 参議院 | 30 |
| (エ) | 2月 | 4分の1 | 衆議院 | 30 |
| (オ) | 1月 | 4分の1 | 参議院 | 40 |

(3) 国会の仕事について、誤っているものを(ア)～(オ)より1つ選び、記号で答えなさい。

- (ア) 法律の制定 (イ) 弾劾裁判所の設置
 (ウ) 予算の議決 (エ) 憲法改正の発議
 (オ) 条約の締結

(4) 日本国憲法は三権分立の考え方にに基づき、権力を別個の機関に分けた。この考え方を示した18世紀のフランスの政治思想家を(ア)～(オ)より1つ選び、記号で答えなさい。

- (ア) ジョン=ロック (イ) ルソー (ウ) リンカーン
 (エ) モンテスキュー (オ) ジェファソン

5. 次の経済活動に関する問い(1)～(3)に答えなさい。

(1) 下の文章が説明している法律の名称を答えなさい。

消費者が商品の欠陥によって被害を受けた場合に、生産者の過失を証明しなくとも救済が受けられるように定めたもので、1994年に成立し1995年から実施されている。

(2) 税金は徴収のしかたにより直接税と間接税に分けられる。間接税を(ア)～(オ)より1つ選び、記号で答えなさい。

- (ア) 消費税 (イ) 所得税 (ウ) 相続税
 (エ) 法人税 (オ) 自動車税

(3) 不況時に政府・日本銀行がとる政策として誤っているものを(ア)～(オ)より1つ選び、記号で答えなさい。

- (ア) 雇用保険の給付を増加させる
 (イ) 減税する
 (ウ) 公共事業をひかえる
 (エ) 銀行が持っている国債を買い上げる
 (オ) 公定歩合を引き下げる

6. 次の国際関係に関する問い(1)、(2)に答えなさい。

(1) 下の文章が説明している機関を漢字6文字で答えなさい。

すべての人に可能な限り高い水準の健康をもたらすことを目標として1948年に発足した。ユニセフとともにジフテリア・ポリオ・はしかなどの病気の犠牲者をなくすために、予防接種の普及に努め、多くの命が奪われるのをくいとめている。

(2) 核軍縮に関する条約について、下の3つの略称の組み合わせで正しいものを(ア)～(オ)より1つ選び、記号で答えなさい。

| | 核不拡散条約 | 包括的核実験禁止条約 | 戦略兵器削減条約 |
|-----|--------|------------|----------|
| (ア) | INF | SALT I | NPT |
| (イ) | NPT | CTBT | START |
| (ウ) | CTBT | NPT | INF |
| (エ) | START | INF | SALT I |
| (オ) | SALT I | START | CTBT |

7. 次の国民の権利に関する問い(1)、(2)に答えなさい。

(1) 基本的人権について、下の文中の(①)～(④)に入る語句の組み合わせとして正しいものを(ア)～(オ)より1つ選び、記号で答えなさい。

日本国憲法で保障する基本的人権には、(①)の尊重をもとにして、(②)などの自由権、(③)などの社会権、(④)などの人権の保障を実現するための権利などがある。

| | (①) | (②) | (③) | (④) |
|-----|-------|-------|-------|-------|
| (ア) | 天皇 | 精神の自由 | 生存権 | 労働基本権 |
| (イ) | 個人 | 精神の自由 | 生存権 | 参政権 |
| (ウ) | 天皇 | 経済の自由 | 請求権 | 労働基本権 |
| (エ) | 個人 | 経済の自由 | 請求権 | 参政権 |
| (オ) | 個人 | 精神の自由 | 生存権 | 労働基本権 |

(2) 下の新しい人権とそれに関する法令の組み合わせで、誤っているものを(ア)～(オ)より1つ選び、記号で答えなさい。

- (ア) 環境権 — 環境アセスメント法
 (イ) 知る権利 — 情報公開法
 (ウ) プライバシーの権利 — 個人情報保護法
 (エ) 環境権 — 環境基本法
 (オ) 自己決定権 — 労働基準法

解答用紙

社 会

| 問題番号 | 答の欄 | 採点欄 | 問題番号 | 答の欄 | 採点欄 |
|------|---------------|-----|----------------|---------------|-----|
| 1 | (1) ア イ ウ エ オ | | 3 | (7) 宣言 | |
| | (2) ア イ ウ エ オ | | | (8) ア イ ウ エ オ | |
| | (3) 政策 | | | (9) ア イ ウ エ オ | |
| | (4) ア イ ウ エ オ | | (10) | | |
| | (5) 共同体 | | (11) ア イ ウ エ オ | | |
| | (6) ア イ ウ エ オ | | 4 | (1) | |
| | (7) ア イ ウ エ オ | | | (2) ア イ ウ エ オ | |
| 2 | (1) ア イ ウ エ オ | | (3) ア イ ウ エ オ | | |
| | (2) ア イ ウ エ オ | | (4) ア イ ウ エ オ | | |
| | (3) | | 5 | (1) 法 | |
| | (4) ア イ ウ エ オ | | | (2) ア イ ウ エ オ | |
| 3 | (1) ア イ ウ エ オ | | (3) ア イ ウ エ オ | | |
| | (2) ア イ ウ エ オ | | 6 | (1) | |
| | (3) ア イ ウ エ オ | | | (2) ア イ ウ エ オ | |
| | (4) | | 7 | (1) ア イ ウ エ オ | |
| | (5) | | | (2) ア イ ウ エ オ | |
| | (6) ア イ ウ エ オ | | | | |

| | | | | | |
|------|--|----|--|----|--|
| 受験番号 | | 名前 | | 得点 | |
|------|--|----|--|----|--|

解答用紙

| 社 会 | | | | | |
|------|--|-----|---|--|-----|
| 問題番号 | 答の欄 | 採点欄 | 問題番号 | 答の欄 | 採点欄 |
| 1 | (1) ア イ ウ <input checked="" type="radio"/> エ オ | | 3 | (7) 人権宣言 | |
| | (2) ア イ ウ エ <input checked="" type="radio"/> オ | | | (8) ア イ ウ エ <input checked="" type="radio"/> オ | |
| | (3) ひとりっ子政策 | | | (9) ア <input checked="" type="radio"/> イ ウ エ オ | |
| | (4) ア イ <input checked="" type="radio"/> ウ エ オ | | (10) 国際連盟 | | |
| | (5) 東アジア共同体 | | (11) <input checked="" type="radio"/> ア イ ウ エ オ | | |
| | (6) ア イ ウ <input checked="" type="radio"/> エ オ | | 4 | (1) 内閣総理大臣 | |
| | (7) ア イ <input checked="" type="radio"/> ウ エ オ | | | (2) <input checked="" type="radio"/> ア イ ウ エ オ | |
| 2 | (1) ア イ ウ エ <input checked="" type="radio"/> オ | | | (3) ア イ ウ エ <input checked="" type="radio"/> オ | |
| | (2) <input checked="" type="radio"/> ア イ ウ エ オ | | | (4) ア イ ウ <input checked="" type="radio"/> エ オ | |
| | (3) 三角州 | | 5 | (1) PL(製造物責任)法 | |
| | (4) ア イ ウ エ <input checked="" type="radio"/> オ | | | (2) <input checked="" type="radio"/> ア イ ウ エ オ | |
| 3 | (1) ア <input checked="" type="radio"/> イ ウ エ オ | | | (3) ア イ <input checked="" type="radio"/> ウ エ オ | |
| | (2) ア イ ウ エ <input checked="" type="radio"/> オ | | 6 | (1) 世界保健機関 | |
| | (3) <input checked="" type="radio"/> ア イ ウ エ オ | | | (2) ア <input checked="" type="radio"/> イ ウ エ オ | |
| | (4) 勘合(日明) | | 7 | (1) ア <input checked="" type="radio"/> イ ウ エ オ | |
| | (5) 鉄砲 | | | (2) ア イ ウ エ <input checked="" type="radio"/> オ | |
| | (6) ア イ <input checked="" type="radio"/> ウ エ オ | | | | |

| | | | | | |
|------|--|----|--|----|--|
| 受験番号 | | 名前 | | 得点 | |
|------|--|----|--|----|--|