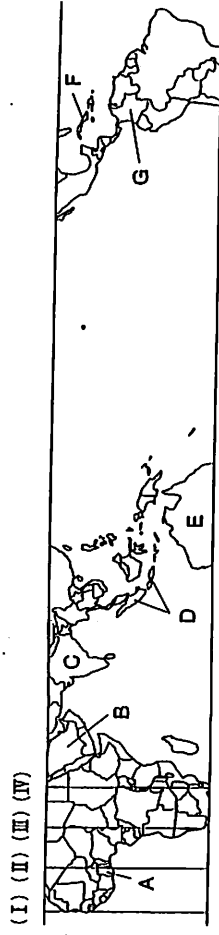


# 2010年度 入学試験問題 社会

- 1 下の地図は、赤道を中心に南北に30度までの範囲を示したものである。この地図にみられる地域について、次の各問いに答えよ。



問1 地図の経線 (I) ~ (IV) のうち、本初子午線はどれか、記号で答えよ。

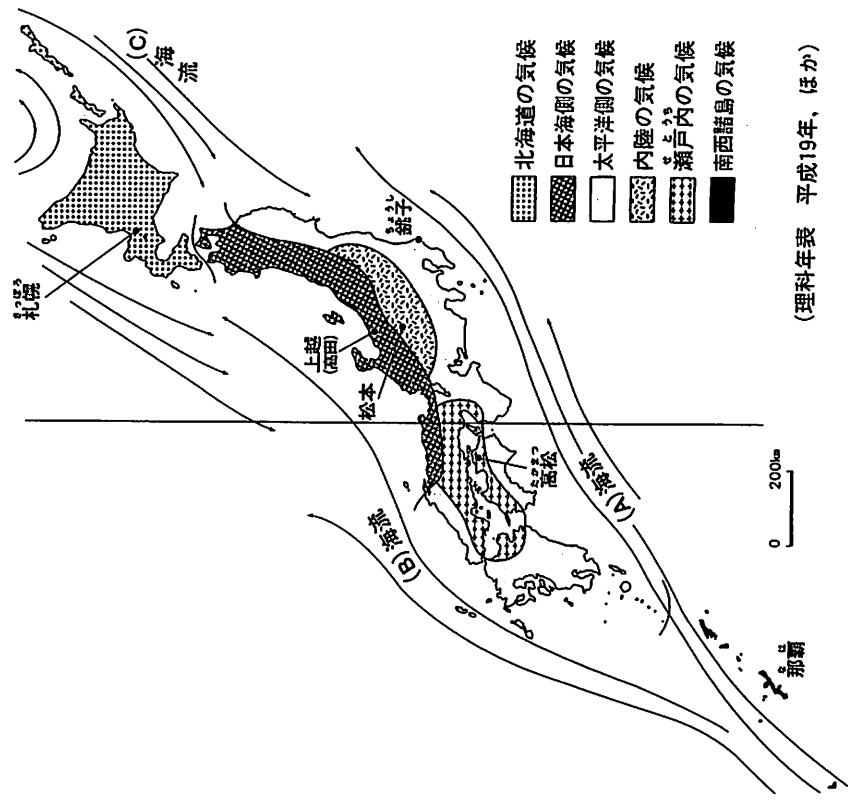
問2 次の (ア) ~ (オ) の文は、それぞれある国について説明したものである。この中で、地図にのっていない国についてのものを次の (ア) ~ (オ) から選び記号で答えよ。

- (ア) 面積は日本の約1.5倍。首都はナイロビ。農業が中心産業であり、主要農産物はコーヒー・茶などである。アンセボリ国立公園にはライオンやチーターなど野生動物が多く生息している。
- (イ) 日付変更線と交わる海域にある。キリバス諸島、フェニックス諸島、ライン諸島の3諸島からなる。ほとんどの島はサンゴ礁からなる。面積は726 $\text{km}^2$ 、人口は95,000人、首都はタワラである。
- (ウ) アジア、ヨーロッパ、アフリカをつなぐ位置にある。古代からさまざまな民族や文明が栄えた。国民のほとんどはイスラム教徒である。首都はアンカラ。EU加盟問題がこの国の課題のひとつである。
- (エ) 世界有数の鉱業国。銀の生産高は世界一。3世紀ごろからマヤ文明を創造した先住民は、14世紀アステカ文明を建設。16世紀スペインによって征服され植民地となった。
- (オ) 国民のほとんどが仏教徒である。農業は米を中心とした農産物と天然ゴムなどが主要産品である。1980年代後半から自動車産業が急成長した。他に、輸出向けの食品加工、繊維産業、電子産業も発達。国境をメコン川が流れる。

問8 地図に示された地域は、おもに熱帯気候と乾燥帯気候にぞくする地域である。A国、B国、C国、D国のうち、その国の大半が乾燥帯気候にぞくする国が一つある。その国と関係のあるものを次の(ア)～(エ)から一つ選らび、記号で答えよ。

- (ア) バグダッド (イ) メッカ (ウ) ジャカルタ (エ) デリー

2 気候区分を示した日本地図をみて、各問いに答えよ。



問1 地図の経線は日本の標準時子午線である。この経線上を北にすすみ、そのまま北極を通ると、西経何度の経線上を南にすすむことになるか、次から選び記号で答えよ。

(ア) 西経145度 (イ) 西経135度 (ウ) 西経45度 (エ) 西経35度

問3 次の表は、日本のおもな輸入品の、輸入相手国と輸入金額による割合を示したものである。表中の空欄(①)(②)のうち、(①)にあてはまる国を地図のA～Gから選び、記号で答えよ。

輸入品目	輸入相手国および輸入金額による割合(%)
銅	チリ(①) (②) カナダ ベルギー
パルプ	カナダ アメリカ ブラジル(①) ニュージーランド
石油	(②) (①) 中国 カナダ ロシア
液化天然ガス	(①) (②) マレーシア カタール プルネイ
(貿易データベース2006年)	25.6 17.8 17.7 12.9 8.6

問4 地図上のA国周辺はアフリカでも農業が盛んな地域である。A国の隣国・コートジボワールがその生産高で世界第一位、A国が第二位の農産物を次から選び、記号で答えよ。

(ア) コーヒー (イ) 砂糖 (ウ) カカオ (エ) 茶

問5 地図上のCの国についての次の説明文で、正しいものを選び記号で答えよ。

- (ア) 面積は世界第7位、人口が世界第3位の世界の大国である。  
 (イ) 国民の約80%がヒンドゥー教徒である。  
 (ウ) 経済発展の著しいブラジル、ロシア、カナダとともに「BRICS」(ブ릭クス)といわれている。  
 (エ) 18世紀のヨーロッパでは、産業革命をいち早く達成したフランスがインドで手に入れたうすくて軽い綿織物が、毛織物に変わり人気を集めた。

問6 地図上のF国は周りを海に囲まれた国である。F国と関係のあるものを選び、記号で答えよ。

- (ア) カリブ海 (イ) オホーツク海 (ウ) アラル海 (エ) カスピ海

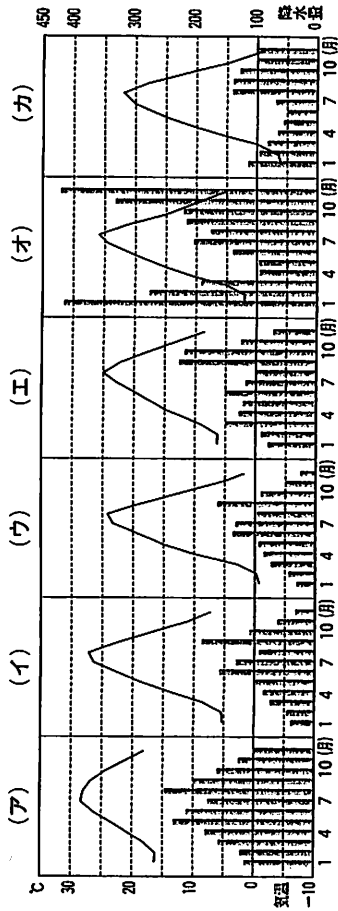
問7 日本の最南端は沖ノ鳥島である。この地図上に沖ノ鳥島の位置を示すことができるか、また、沖ノ鳥島は何県にぞくする島か、その組み合わせとして正しいものを次から選び記号で答えよ。

- (ア) 示すことができる—沖縄県 (イ) 示すことができる—東京都  
 (ウ) 示すことができる—沖縄県 (エ) 示すことができる—東京都

問2 海流の(A)～(C)にはいる用語の組み合わせとして正しいものを(A)～(カ)から選び、記号で答えよ。

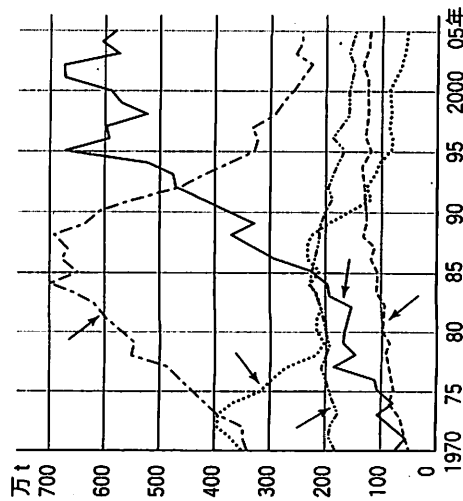
- (ア) A-日本 B-千島 C-対馬 (イ) A-千島 B-対馬 C-日本  
 (ウ) A-対馬 B-日本 C-千島 (エ) A-日本 B-対馬 C-千島  
 (オ) A-千島 B-日本 C-対馬 (カ) A-対馬 B-千島 C-日本

問3 雨温図(A)～(カ)は地図上の6つの都市のものである。松本の雨温図はどれか、記号で答えよ。



問4 地図中の航子は、魚の水あげ量の多い漁港である。しかし、日本全体で見ると、魚の水あげ量は年々減少している。次のグラフは「日本の漁業形態の変化」を示したものである。このグラフをみて、日本の漁業について説明した次の各文で、適切なものを一つ選び、記号で答えよ。

日本の漁業形態の変化  
 平成18年漁業・養殖業生産統計年報 ほか



(ア) 国民の食生活の欧米化がすすみ、魚介類を食べることが少なくなり、魚介類の輸入が減ってきた。

(イ) 日本の漁業は、とる漁業から育てる漁業へと移りつつあり、各地でさまざまな養殖や栽培漁業がおこなわれている。

(ウ) 日本の近海は、暖流と寒流がぶつかる好漁場であるので、沖合漁業が年々活発化している。

(エ) 日本は領土の12倍の広さの排他的経済水域をもっているのので、遠洋漁業が活発化している。

問5 次の表は、地図中の6つの都市が含まれる都道府県の、県別工業総産出額、米収穫量、豚飼育頭数、レタス収穫量をあらわしたものである。この表の(A)～(カ)のうち、高松が含まれる都道府県はどれか、記号で答えよ。

都道府県	工業総産出額 (十億円)	米収穫量 (千t)	豚飼育頭数 (千頭)	レタス収穫量 (千t)
(ア)	4,638	652	211	1
(イ)	2,160	77	40	30
(ウ)	515	3	236	5
(エ)	5,464	683	522	15
(オ)	12,113	339	558	11
(カ)	6,260	237	95	176

(第81次農林水産省統計表ほか)

問6 地図にみられるように、日本の気候は大きく6つに分けられる。気候が違うことで、産物や生活・文化にもちがいがあらわれてくる。気候、産物、生活について次の各問いに答えよ。

(1) 東北地方の太平洋岸に夏期、北東から吹く冷たい風で、冷害の要因ともなる風を何というか。

(2) 日本海側の気候地域にぞくする都市で、次の説明文にのべた都市名を答えよ。

北陸地方の中心都市である。江戸時代には全国有数の城下町であった。いまでも、町家や武家屋敷・寺院などのある、歴史的な町なみが見られる。また、九谷焼、友禅などの伝統工芸がさかんで、多くの観光客が訪れる観光都市でもある。

(3) 次の文は、県南部が瀬戸内の気候にぞくする県について述べたものである。この県名を答えよ。

この県は、年間雨量が非常に少なく、「晴れの国」を標語としている。農業のさかんな県であったが、高度経済成長期以降、工業がさかんととなり、水島コンビナート（倉敷市）などでは海岸を埋め立てて工業用地がつくられている。

(4) 沖縄の生活・文化についての次の文の（ ）に適語を答えよ。（ ）には同じ語句が入る。

沖縄の郷土料理では、沖縄ではとれない（ ）が多く使われている。これは、江戸時代に、北海道の（ ）が沖縄を通じて中国に輸出されていたという歴史によるものである。

3 次の<A>～<F>は日本の各時代の交易や対外関係について述べたものである。各文について下の各問いに答えよ。

<A>  
今から約（ 1 ）年前、気温が温暖化し海面が上昇して、日本列島は大陸からはなれ、現在のよような自然環境になった。1992年から始まった発掘調査で発見された三内丸山遺跡では、500軒をこえる竪穴住居、長さ30メートルの大型住居跡、多量の土器や土偶が発見された。また、ヒスイや北海道・山形・佐渡・長野各地の黒曜石なども発見されていて、三内丸山遺跡にあったムラが広範な地域と交流・交易していたことがわかる。

<B>  
中国で漢民族の明がおこると、元を北方に追いやった。しかし、明は北方の遊牧民族の侵入や、沿岸をおそう倭寇に苦しんだため、万里の長城を整えるときにも、日本に倭寇の取りしまりを求めてきた。また、朝鮮半島では（ 2 ）をたおして、朝鮮国が建国され、日本との貿易もさかんにおこなわれた。このころの日本では十三濤という港町が発達して、朝鮮から沿海州にかけての地域と日本を結ぶ国際的貿易港としてにぎわった。その跡からは中国の焼き物や銅銭が多数出土している。

<C>

コロンブスに率いられたスペインの船隊は、インドをめざして船出したが、到着したのはアメリカ大陸であった。ついで、ポルトガルの（ 3 ）がアフリカの南端をまわってインドに到着した。さらに、マゼランに率いられたスペインの船隊が世界一周に成功し、地球は丸いことが確かめられた。

こうして、ヨーロッパ・アジア・アメリカが結びつけられると、種子島に漂着したポルトガル人によって鉄砲が伝えられ、1549年にはフランシスコ＝ザビエルが日本に來航して、その後日本でキリスト教の布教をはじめた。また、ポルトガルやスペインをあいだにした南蛮貿易もおこなわれるようになった。

<D>

江戸幕府が貿易を統制し、日本人の出入国を禁止した政策は「鎖国」とよばれた。しかし、国が開ざされたわけではなく、四つの窓口が開かれていた。

その一つが長崎で、1641年、幕府はオランダ商館を長崎の（ 4 ）に移し、キリスト教の布教をおこなわないオランダと中国の商船のみに貿易を許可した。

四つの窓口のあと三つは、対馬、薩摩、松前であり、それぞれの藩には外交や貿易をまかせるようにしていた。

<E>

明治新政府は、欧米諸国から学んだ外交のやり方を、アジアに対しておこなおうとした。朝鮮に対しては、西郷隆盛らは武力に訴えてでも朝鮮に要求を通そうとする（ 5 ）を主張し、士族の不満の解消をめざそうとした。しかし、政府内の国内の整備が先だとする考え方におさえられた。

明治新政府はその後、江華島事件を口実にして、朝鮮に日朝修好条規を結ばせた。

<F>

1951年、サンフランシスコで講和会議が開かれ、日本は48か国との間にサンフランシスコ平和条約を結んだ。さらに、この会議とあわせて日本とアメリカとの間に日米安全保障条約が結ばれ、日本はアメリカ軍が国内に軍事基地をおくことを認めた。

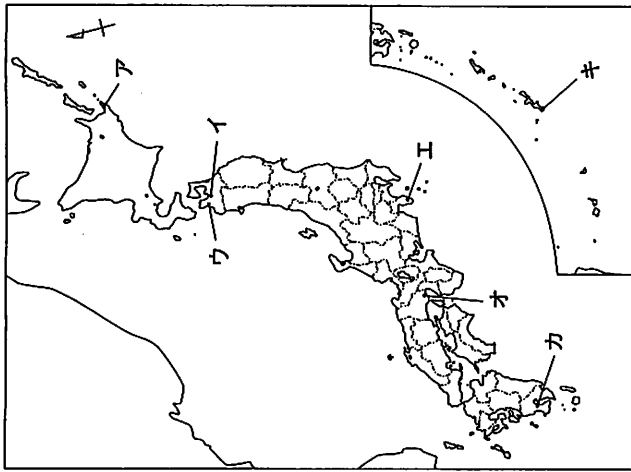
このうち、1956年には現在の鳩山由紀夫総理大臣の祖父にあたる鳩山一郎総理大臣のもとで、ソ連との間に（ 6 ）が調印され、国交を回復した。この結果、日本は国際連合への加入が認められ、国際社会に復帰することになった。

問1 文中の空欄( 1 ) ~ ( 6 ) に  
入る語句を答えよ。

問2 文中の下線(a)・(b)・(c)の位置を右  
の地図中の記号で答えよ。

問3 文中の下線①の産地としてふさわし  
い現在の県名を次の中から選び、記号  
で答えよ。

- (ア) 福島県 (イ) 秋田県
- (ウ) 群馬県 (エ) 新潟県



問4 文中の下線②の時の将軍を説明した文として正しいものを次の中から選び、記号で答え  
よ。

- (ア) 後醍醐天皇朝について鎌倉幕府をほろぼした。しかし、武家政治の復活を望む声が高まるなかで、反後醍醐天皇の兵をおこし、南北朝の争乱中に京都で幕府を開いた。
- (イ) 南北朝の対立を統一し、細川氏・畠山氏などの有力守護大名とともに幕府の政治をすすめた。この時代には京都の北山に鹿苑寺の金閣が建てられた。
- (ウ) 15世紀の後半、京都の東山に山荘を建てた。そのなかの銀閣などは禅宗の寺の建築方法が使われ、この時代には書院造という新しい様式も生まれた。
- (エ) 戦国時代が続くなかで、織田信長によって幕府の将軍になったが、信長と意見が対立して、将軍を追放された。

問5 文中の下線③で、日本が朝鮮から輸入したものを次の中から選び、記号で答えよ。

- (ア) 硫黄 (イ) 銅 (ウ) 木綿 (エ) 刀剣

問6 文中の下線④で、航海した航路と関係あるものを次の中から選び、記号で答えよ。

- (ア) 太平洋 (イ) 大西洋 (ウ) インド洋 (エ) 地中海

問7 文中の下線⑤について、外交関係の組合せとして正しいものを次の中から選び、記号で  
答えよ。

- (ア) 対馬-台湾 薩摩-琉球 松前-朝鮮
- (イ) 対馬-朝鮮 薩摩-琉球 松前-蝦夷地
- (ウ) 対馬-台湾 薩摩-朝鮮 松前-蝦夷地
- (エ) 対馬-琉球 薩摩-台湾 松前-朝鮮

問8 文中の下線⑥の考え方にあてはまらない人物を説明した文を次の中から選び、記号で答  
えよ。

- (ア) 1874年、少数の有力政治家による政治をやめて早く国会を開くように、民権議院設  
立建白書を政府に提出した。また、1881年には自由党を結成し、党首となった。
- (イ) 1871年、不平等条約の改正と欧米諸国の政治・経済のしくみや文化の視察のために  
派遣された政府使節団の大使をつとめた。
- (ウ) 薩摩藩出身で、西郷隆盛とともに倒幕運動に活躍した。また、明治になってからは  
政府使節団の副使をつとめ、国内政治では廃藩置県をすすめる中心になった。
- (エ) 先進諸国の憲法や議会政治の実情をくわしく調査し、1885年には内閣制度を確立さ  
せて、初代の内閣総理大臣になった。

問9 文中の下線⑦の出来事は、次の(ア)~(エ)のどの時期にあたるか、記号で答えよ。

- ↑ (ア) アメリカで独立宣言が出される
- ↓ (イ) 中国でアヘン戦争が起こる
- ↑ (ウ) アメリカで南北戦争が起こる
- ↓ (エ) ドイツ・オーストリア・イタリアの三国同盟ができる
- ↑ (イ) 朝鮮で甲午農民戦争が起こる
- ↓ (エ)

問10 文中の下線③の内容として誤っているものを次の中から選び、記号で答えよ。

- (ア) 日本は朝鮮の独立を認める。
- (イ) 台湾・千島列島・南樺太の権利を放棄する。
- (ウ) 日本は満州国の独立を認める。
- (エ) アメリカが沖縄や小笠原諸島をひきつつき管理下におく。

4 A君は2009年の気になるできごとについて、新聞記事の切り抜きを集めた。その5つの記事を読み、各問いに答えよ。

記事1

民主308 政権奪取 「鳩山首相」誕生へ  
第45回総選挙は30日、投票開票され、民主党が単独過半数(241議席)を大幅に上回る308議席を獲得し、政権交代を確実にした。…民主党の鳩山代表は9月中旬にも召集される特別国会で第93代首相に選ばれる。政権交代可能な二大政党制を目指して衆院に( )が導入されてから15年。…「政治主導」を掲げる民主党政権の誕生で、「政と官」の関係など日本の政策決定の仕組みが大きく変わる可能性がある。(2009年8月31日 朝日新聞)

問1 下線①に関連して、「日本の選挙」について説明した次の文の中から適切なものを選び、記号で答えよ。

- (ア) 国が政党に助成金を交付しているため、選挙資金の多少が当選・落選に影響をおよぼすことはまったくない。
- (イ) 選挙区によって有権者数は異なるが、議員を1人当選させるのに必要な票数はどの選挙区においても同じでないとならない。
- (ウ) 選挙は民主政治を実現するための唯一の政治参加の方法であるため、一定の年齢に達したすべての国民に選挙権が認められている。
- (エ) 選挙区・選挙運動・投票など、選挙の方法については、公職選挙法で定められている。

問2 下線②に関連して、「国会の種類と会期」について説明した次の文の中から適切なものを選び、記号で答えよ。

- (ア) 通常国会は毎年4月中旬に召集され、会期は150日間である。延長は一回だけできる。
- (イ) 参議院の緊急集会は、内閣または、いずれかの議員の4分の1以上の要求がある場合に召集される。

(ウ) 特別国会は、衆議院解散後の総選挙の日から30日以内に召集され、内閣総理大臣が指名される。

(エ) 臨時国会は、衆議院の解散中に緊急の必要がある場合、内閣が召集を決めることができる。

問3 下線③の( )に入る選挙制度として、適切なものを次の中から選び、記号で答えよ。

(ア) 小選挙区制 (イ) 大選挙区制 (ウ) 比例代表制 (エ) 小選挙区比例代表並立制

問4 下線④について、内閣が国会の信任に基づいてつづられ、国会に対して連帯して責任を負う制度を何というか。

記事2

ノーベル平和賞 オバマ氏 「核なき世界」主導  
ノルウェーのノーベル賞委員会は9日、2009年のノーベル平和賞を「国際協働外交を推進した功績」で、米国のバラク・オバマ大統領に授与すると発表した。特に、オバマ氏が核兵器の全廃に向け外交交渉を開始したことを評価した。…  
オバマ氏は今年4月、チェコの首都プラハでの外交演説で、広島、長崎に原爆を投下した米国には、核兵器を使用した唯一の国として行動する道義的責任があると語り「核兵器のない世界」に向け、交渉開始を宣言。9月に国連安全保障理事会で、議長として「核兵器全廃に向けた」決議採択を主導。…(2009年10月10日 読売新聞)

問5 下線⑤について、次の日本国憲法条文のA・Bにあてはまる語を答えよ。

第9条 ①日本国民は、正義と秩序を基調とするAを誠実に希求し、国権の発動たる戦争と、武力による威嚇又は武力の行使は、国際紛争を解決する手段としては、永久にこれを放棄する。  
②前項の目的を達するため、陸海空軍その他のBは、これを保持しない。国の交戦権は、これを認めない。

問6 下線⑥について、「核」に関する2つの条約名と略称の組み合わせとして正しいものの中から選び、記号で答えよ。

- (ア) 核不拡散条約 - START 包括的核実験禁止条約 - NPT
- (イ) 核不拡散条約 - START 包括的核実験禁止条約 - CTBT

問10 下線⑩について、市民の人権保障を示す次の文は (ア) ~ (エ) のどれにあたるか、記号で答えよ。

われわれは、自明の真理として、すべての人は平等につくられ、造物主によって、一定の奪いがたい天賦の権利を付与され、そのなかに生命・自由および幸福追求のふくまれることを信ずる。

- (ア) アメリカ独立宣言 (イ) フランス人権宣言
- (ウ) 世界人権宣言 (エ) イギリス権利章典

記事 4

G8財務相会合 不安抑える「安定の兆し」

世界経済が最悪期を脱しつつあるとの認識で一致した主要8カ国 (G8) 財務相会合⑪だが、声明案取りまとめの段階では、明るさを協調したい日米に対し、欧州側は慎重姿勢を崩さず、世界経済の「底打ち宣言」は盛り込まれなかった。財政赤字からの「出口戦略」についても、積極的な欧州に対し、日米は「時期尚早」と反発。具体策は明示されず、両者の溝が際立つ結果になった。景気回復と出口戦略とをどう両立させるのか。「安定化」後もG8の苦悩は続く。

(2009年6月14日 毎日新聞)

問11 下線⑪に関連して、「為替相場の変動とその影響」について説明した次の文の中から適切なもの一つを選び、記号で答えよ。

- (ア) 1ドル110円が1ドル90円になった場合、外国では日本製の自動車の価格が高くなるので売れにくくなる。
- (イ) 1ドル110円が1ドル90円になった場合、外国では日本製のカメラの価格が安くなるので売れやすくなる。
- (ウ) 1ドル90円が1ドル110円になった場合、日本では外国製のバッグが安く買えるので、消費者は得をする。
- (エ) 1ドル90円が1ドル110円になった場合、日本から海外への旅行に行きやすくなる。

- (ウ) 核不拡散条約 - NPT 包括的核実験禁止条約 - START
- (エ) 核不拡散条約 - NPT 包括的核実験禁止条約 - CTBT

問7 下線⑦について説明した文として誤っているものを次の中から一つ選び、記号で答えよ。

- (ア) 第二次世界大戦が終結した年、国際平和や安全の維持などをめざして発足した。
- (イ) 安全保障理事会を構成する15の理事国には拒否権が認められている。
- (ウ) 総会では、加盟国に対して平等に1国1票の投票権を認めている。
- (エ) 経済社会理事会は、UNESCOやWHOなどの専門機関と協力し合っている。

記事 3

裁判員裁判始まる 法廷に市民の目

市民が裁判官とともに刑事事件の審理に参加する裁判員裁判の手続きが3日、全国で始めて東京地裁で始まった。…日本で刑事裁判に市民が参加するのは、陪審制が戦前の1943年に停止されて以来、66年ぶり。今年5月21日の制度施行から2カ月余り、戦後最大の司法制度改革が公判初日を迎えた。

(2009年8月3日 日本経済新聞夕刊)

問8 下線⑧に関して説明した文として誤っているものを次の中から一つ選び、記号で答えよ。

- (ア) うその証言などによって有罪が確定した場合、裁判のやり直しを求めて、再審の請求をすることができる。
  - (イ) 最高裁判所裁判官の国民審査は、国民が直接投票で審査する。
  - (ウ) 裁判官は、仕事に専念できるように身分が保証されていて、特別な理由がない限り、やめさせられることはない。
  - (エ) 裁判所は法律が憲法に違反していないかを判断する権限をもっていて、これを弾効裁判という。
- 問9 下線⑨は私たちの生命や身体に直接かかわるため、人権に対する配慮が特に必要とされる。それが定められている次の日本国憲法条文の ( ) にあてはまる語を (ア) ~ (エ) から選び、記号で答えよ。

第33条

何人も、現行犯として逮捕される場合を除いては、権限を有する司法官憲が発し、且つ理由となつてゐる犯罪を明示する ( ) によらなければ、逮捕されない。

- (ア) 刑罰 (イ) 法廷 (ウ) 令状 (エ) 自由

問12 下線⑩に関連して、「日本の税と財政」について説明した次の文の中から、誤っているものを一つ選び、記号で答えよ。

- (ア) 税金は所得税や法人税などの直接税と、消費税や酒税などの間接税とに分けられる。
- (イ) 所得税や相続税について、所得や遺産が多い人ほど、高い税率が適用される累進課税制がとられている。
- (ウ) 税収だけで必要な財政支出をまかなうことができないうち、政府は国債を発行して資金を調達することができる。
- (エ) 日本の財政支出のうち、最も大きな割合を占めるのが、文教・科学振興費で、それに続くのが社会保障関係費である。

問13 下線⑪について、次の文の  X  Y  Z にあてはまる語の組み合わせとして最も適切なものを (ア) ~ (エ) から一つ選び、記号で答えよ。

景気が良くなる時期は、企業の売り上げが増加し、労働者の賃金が上昇するため消費が  X し、物価が  Y する。また、景気が悪い時期は、景気を調整するために  Z などの財政政策が取られる。

- (ア) X - 拡大 Y - 上昇 Z - 減税
- (イ) X - 拡大 Y - 下落 Z - 減税
- (ウ) X - 低迷 Y - 上昇 Z - 増税
- (エ) X - 低迷 Y - 下落 Z - 増税

記事 5

ガザ死者1000人超 半数は住民 子供300人

A 自治区ガザに対する  B 軍の大規模攻撃で、 A 人の死者が千人を超えた。国連などによると、子供が三百人以上を占め、半数は戦闘にかかわっていない一般住民。「戦争で民間人の犠牲は不可避」(政府報道官) と開き直る  B と、住民を「人間の盾」にして徹底抗戦するイスラム原理主義組織ハマスのはざまで、住民が犠牲を払う権限となっている。

(2009年1月16日 京都新聞)

問14 記事 5 の  A にあてはまる語を次のの中から選び、記号で答えよ。  A には同じ語が入る。

- (ア) コソボ (イ) 北アイルランド (ウ) グルジア (エ) パレスチナ

問15 記事 5 の  B には、1948年にユダヤ教を信仰する人々が移住し、建国した国名が入る。あてはまる語を次のの中から選び、記号で答えよ。  B には同じ語が入る。

- (ア) イラク (イ) イスラエル (ウ) アフガニスタン (エ) パキスタン





## 社会

- 1 問1=(Ⅱ) 問2=ウ 問3=D 問4=ウ  
問5=イ 問6=ア 問7=イ 問8=イ  
(配点) 各2点 (小計16点)
- 2 問1=ウ 問2 エ 問3=ウ 問4=イ 問5=イ  
問6 (1)=やませ (2)=金沢 (3)=岡山県 (4)=昆布  
(配点) 各2点 (小計18点)
- 3 問1 (1)=1万 (2)=高麗 (3)=バスコ・ダ・ガマ  
(4)=出島 (5)=征韓論 (6)=日ソ共同宣言  
問2 (a)=イ (b)=ウ (c)=カ  
問3=エ 問4=イ 問5=ウ 問6=イ  
問7=イ 問8=ア 問9=ウ 問10=ウ  
(配点) 各2点 (小計34点)
- 4 問1=エ 問2=ウ 問3=エ 問4=議院内閣制  
問5 A=国際平和 B=戦力 問6=エ 問7=イ  
問8=エ 問9=ウ 問10=ア 問11=ア  
問12=エ 問13=ア 問14=エ 問15=イ  
(配点) 各2点 (小計32点)