

受験番号

平成22年度 早稲田摂陵高等学校入学試験問題 (2月10日実施)

社 会

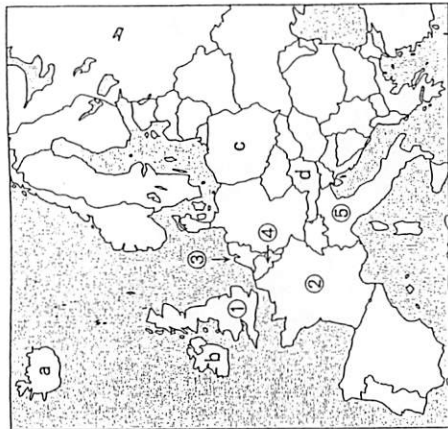
注 意 事 項

1. 試験開始の合図があるまで、問題冊子を開いてはいけません。
2. この問題冊子は14ページまであります。
3. 解答はすべて所定の解答案紙に記入してください。
4. 解答案紙は問題冊子の中にはさんであります。
5. 質問があるときは、静かに手をあげてください。
6. 問題冊子にも受験番号を記入し、試験が終わったら提出しなさい。

1 右図を参照して、下の各問いに答えなさい。

問(1) 図のb国の首都と同じ気候の都市を、下の(ア)～(イ)の中から1つ選び、記号で答えなさい。


- (ア) シカゴ (イ) バンコク
(ウ) テヘラン (エ) メルボルン



問(2) 図のa～d国の中にEUに加盟していない国が1つあります。また、図の①～⑤の国の中に、EU共通の通貨であるユーロを導入していないEU加盟国が1つあります。その組み合わせとして正しいものを下の(ア)～(イ)の中から1つ選び、記号で答えなさい。

- (ア) aと① (イ) aと③
(ウ) dと① (エ) cと④
(オ) bと④ (カ) cと②

問(3) 下のグラフはEU・アメリカ合衆国・中国・日本について比較したものです。EUにあてはまるものをグラフの(ア)～(イ)の中から1つ選び、記号で答えなさい。(EUについては、加盟国の総計を示しています。また、グラフの(ア)～(イ)はそれぞれ同じ国・地域を示しています。)



(『日本国勢図会』2008/09 より作成)

問(4) 大阪から図のd国の首都に住む人に、現地の時間で1月20日の午後6時に電話をかけようと思います。日本の日時で1月何日の何時に電話をかければよいですか。その日時を午前・午後との区別をつけて答えなさい。ただし、d国は東経15度の経線を標準時としてしています。

問(5) 次のA～Cの文は図の①～⑤のいずれかの国について説明したものです。この文と下の《資料1～3》を参照して、A～Cに該当する国を図の番号で答えなさい。(下記の文と資料中のA～Cは同じ国を示しています。)

- A この国は他の国に比べて地震が多く、北部には険しい山脈が続く地域がある。
 B この国と対岸の国とはユーロトンネルによって結ばれ、短時間で移動が可能となった。
 C この国には「世界は神によって創造されたが、は人によってつくられた」という言葉がある。()にはこの国の名が入ります。

【資料1】各国の基本データ (2006)

国名	A	B	C
面積 (千km ²)	301	552	42
人口 (万人)	5,861	6,135	1,634
人口密度 (人/km ²)	195	111	393
国内総生産 (億ドル)	18,510	22,481	6,623

【資料2】農産物の生産 (2006)

順位	国名	割合 (%)	オリーブ			チーズ		
			順位	割合 (%)	国名	割合 (%)	国名	割合 (%)
1	中華人民共和国	17.2	1	29.7	1	アメリカ合衆国	24.3	
2	インド	11.4	2	20.2	2	ドイツ	11.1	
3	アメリカ合衆国	9.5	3	15.7	3	B	9.9	
4	ロシア	7.4	4	9.5	4	A	7.4	
5	B	5.8	5	5.9	5	C	3.6	

【資料3】日本と各国との貿易 (2007)

国名	輸出入	輸出入額 (百万円)	品目と輸出・輸入に占める割合 (%)
A	日本の輸出	780,152	機械類39.9 自動車23.7 二輪自動車7.2 有機化合物3.5 医薬品3.1
	日本の輸入	853,656	衣類15.3 機械類13.9 バッグ類11.9 医薬品7.4 はき物4.7
B	日本の輸出	983,944	機械類43.0 自動車18.9 二輪自動車4.5 自動車部品3.6 精密機械2.0
	日本の輸入	1,180,054	機械類19.1 ワイン8.2 医薬品7.6 有機化合物6.1 バッグ類6.0
C	日本の輸出	2,180,933	機械類62.5 自動車4.6 自動車部品3.9 二輪自動車3.1 記録媒体2.8
	日本の輸入	329,342	機械類33.0 石油製品8.7 自動車部品6.8 有機化合物5.6 球根3.2

【日本国勢図会】『世界国勢図会』2008/09 より作成

問(6) 問(5)のA国説明文の下線部は造山帯の一部です。この造山帯に属する山脈を下の㍿～㍿の中から1つ選び、記号で答えなさい。

(㍿) アンデス山脈

(㍿) アパラチア山脈

(㍿) ウラル山脈

問(7) 問(5)のB国では、穀物栽培と飼料作物の栽培、家畜の飼育を組み合わせ、土地を有効に利用する農業が盛んです。このような農業を何といますか。

2 次のI～IVの文章を読み、下の各問に答えなさい。

I この県の西部には奥羽山脈が、東部には北上高地があり、その間に北上川が流れている。この川の流域は稲作や果樹栽培が盛んである。また、この県の南部の海岸は①リアス式海岸で、良港が多く、宮古や大船渡などの漁港がある。近年、卵から稚魚まで育て、その後放流する(㉠)漁業などが増えている。南部鉄器は伝統的工芸品として有名である。

II この県の西部には、木曾川などが流れ、その流域には(㉡)平野が広がり、水田が多い。福美半島には(㉢)用水が整備され、キャベツや電照菊の栽培が盛んである。この県は(㉣)工業地帯の中心をなす県で、自動車工業のほか、瀬戸市では陶磁器、一宮市では毛織物工業が盛んである。

III この県の中央部をはしる筑紫山地から流れる筑後川は(㉤)海に注ぎ、その流域に広がる筑紫平野は稲作地帯で、クリークとよばれる水路がめぐらされている。北東部の(㉥)工業地帯は、20世紀初めに採炭を開始した官営の製鉄所を中心に栄えたが、エネルギー革命以降は、炭鉱が閉山し、(㉦)鉄鉱石の輸入先が変わったことから、鉄鋼業はおとろえ、ICや自動車などの工場が進出している。この県には紙圍山笠などの伝統的な祭りが残っている。

IV この県の南部には、「坂東太郎」とよばれる流域面積が日本一の(㉧)川が流れ、下流で水郷をつくり隣県の航子で海へ注いでいる。この県は大消費地に近いため近郊農業が盛んで、工業においては瓶込式の港灣をもつ(㉨)市の石油化学コンビナートや、大型電気機械を生産する日立市がよく知られている。

問(1) (㉢)に入る語として、正しいものを、下の㍿～㍿の中から1つ選び、記号で答えなさい。
(㍿) 愛知 (㍿) 明治 (㍿) 昭和 (㍿) 豊川

問(2) (㉤)に入る語として、正しいものを、下の㍿～㍿の中から1つ選び、記号で答えなさい。
(㍿) 酒田 (㍿) 津 (㍿) 鹿嶋 (㍿) 清水

問(3) (㉠)～(㉣)に適切な語句を答えなさい。

問(4) 下線部(a)はどのようなようにしてきたのですか。25字以内(句読点を含む)で説明しなさい。

問(5) 下線部(a)・(c)に該当するものを、下の表の(ア)～(イ)の中から1つずつ選び、記号で答えなさい。

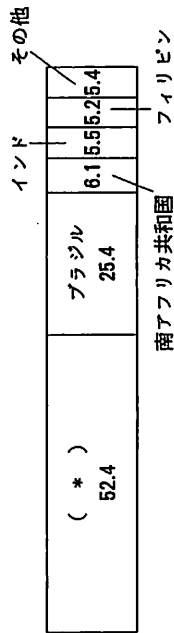
4大工業地帯の工業製品出荷額の変化 (十億円、%) は全国比

	(ア)	(イ)	(ウ)	(エ)
1980	37,613 (17.5)	25,120 (11.7)	5,884 (2.7)	30,263 (14.1)
1990	51,591 (15.8)	44,503 (13.6)	7,779 (2.4)	40,573 (12.4)
2005	30,600 (10.3)	49,219 (16.5)	7,799 (2.6)	30,125 (10.1)

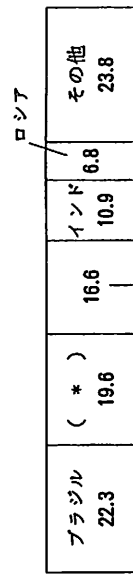
(『日本国勢協会』2008/09 より作成)

問(6) 下線部(d)について、下のグラフの(*) には同じ国名が入ります。該当する国名を答えなさい。

日本の鉄鉱石輸入先 (2007、%)



世界の鉄鉱石生産高 (2005、%)



中華人民共和国

(『日本国勢協会』2008/09 より作成)

問(7) 下の表は、わが国の主要な空港の入国外国人の国籍別割合についてまとめたものです。Ⅲの文章の県にある空港のものを(ア)～(イ)の中から1つ選び、記号で答えなさい。

(ア)		(イ)	
地域 (国)	割合 (%)	地域 (国)	割合 (%)
アジア	93.9	韓国	47.5
		中国	11.7
		台湾	20.0
		香港	4.9
アメリカ合衆国	1.9	アメリカ合衆国	5.4
ヨーロッパ	2.5	ヨーロッパ	8.8
その他	1.7	その他	5.6

(ウ)		(エ)	
地域 (国)	割合 (%)	地域 (国)	割合 (%)
アジア	80.0	韓国	21.8
		中国	16.1
		台湾	23.4
		香港	4.1
アメリカ合衆国	5.7	アメリカ合衆国	14.3
ヨーロッパ	7.1	ヨーロッパ	15.6
その他	7.2	その他	10.3

(法務省出入国管理統計2007より作成)

問(8) I～IVの文章のいずれかに、以下の文章をつけ加えたとすれば、どれがよいか、I～IVで答えなさい。

東海村には原子力研究所が設置され、日本最初の原子力発電所が建設された。また、南西部には国立・民間の各種の研究機関を集めた研究学園都市が建設されている。

問(9) I～IVの中で、県名と県庁所在地の都市名が異なる県はいくつあるか、数字で答えなさい。

4 次の年表を見て、下の各問いに答えなさい。

年代	できごと
1868	五箇条の御誓文・五榜の掲示をだす ↑ ↓ 【 ① 】
1874	民権院設立の題白書を提出する ↑ ↓ 【 ② 】
1880	国会期成同盟が結成される … 【 C 】
1881	政府が10年後の国会開設を約束する ↑ ↓ 【 ③ 】
1885	内閣制度が創設される … 【 E 】
1889	大日本帝国憲法が公布される … 【 F 】
1890	第1回衆議院議員総選挙が実施される … 【 G 】

問(1) 年表中の【 A 】についての説明文Ⅰ・Ⅱを読んで、その正誤の組み合わせとして正しいものを、下の(ア)～(イ)の中から1つ選び、記号で答えなさい。

- Ⅰ 五箇条の御誓文は、新政府の政治の方針を示すもので明治天皇が神々に誓うという形で発表された。その内容は、広く意見を聞いて政治を行い、外国から新しい知識を取り入れて国を発展させていこうというものであった。
- Ⅱ 五榜の掲示は、新政府が国民の守るべきことを立て札に書いて示したものである。それは君臣・父子・夫婦間の儒教道徳を説き、一揆やキリスト教をあらためて厳禁するなど、旧幕府とほとんど変わらない内容であった。

- (ア) Ⅰ 正 Ⅱ 正 (イ) Ⅰ 正 Ⅱ 誤
(ウ) Ⅰ 誤 Ⅱ 正 (エ) Ⅰ 誤 Ⅱ 誤

問(2) 年表中の【 B 】について、このうち高知県で政治結社の立志社をつくり、自由民権運動の中心人物として活躍したのはだれか、人物名を答えなさい。

問(3) 年表中の【 C 】について、このとき運動の代表者が集まった都市はどこか、答えなさい。

問(4) 年表中の【 D 】に関連して、このとき憲法の即時制定と国会の早期開設を主張して政府から追放されたのはだれか、人物名を答えなさい。

問(5) 年表中の【 E 】について、このとき初代の内閣総理大臣に就任したのはだれか、人物名を答えなさい。

問(6) 年表中の【 F 】について、次の資料はこの憲法の一部である。() に共通してあてはまる語句を漢字2文字で答えなさい。

第20条	日本臣民ハ () ノ定ムル所ニ從イ兵役ノ義務ヲ有ス
第29条	日本臣民ハ () ノ範圍内ニ於テ言論著作印行集會及結社ノ自由ヲ有ス

問(7) 年表中の【 G 】について、このときの有権者の資格を30字以内(句読点を含む)で答えなさい。

問(8) 年表中の【 ① 】の時期のできごとについて述べたⅠ～Ⅲの文章を読んで、年代順に正しく配列したものを、下の(ア)～(イ)の中から1つ選び、記号で答えなさい。

- Ⅰ 政府は、学制を公布し、6歳以上の子どもに教育を受けさせることを国民の義務とした。
- Ⅱ 政府は、徴兵令を出し、満20歳に達した男子は身分に関係なく兵役の義務を負うことになった。
- Ⅲ 政府は、すべての藩を廃止して県を置き、府や県に中央政府の役人を新たに府知事や県令として派遣した。

- (ア) Ⅰ→Ⅱ→Ⅲ (イ) Ⅰ→Ⅲ→Ⅱ (ウ) Ⅱ→Ⅰ→Ⅲ (エ) Ⅱ→Ⅲ→Ⅰ
(オ) Ⅲ→Ⅰ→Ⅱ (カ) Ⅲ→Ⅱ→Ⅰ

問(9) 年表中の【 ② 】の時期のできごととして誤っているものを、下の(ア)～(イ)の中から1つ選び、記号で答えなさい。

- (ア) 日清修好条約を結んだ。 (イ) 樺太・千島交換条約を結んだ。
(ウ) 沖縄県を設置した。 (エ) 日朝修好条約を結んだ。

問(10) 年表中の【 ③ 】の時期のできごとについて述べた次のⅠ・Ⅱの文章を読んで、その正誤の組み合わせとして正しいものを、下の(ア)～(イ)の中から1つ選び、記号で答えなさい。

- Ⅰ 民権運動は政党の結成へと進み、自由党や立憲政進党などがつくられた。自由党はイギリスのよきな議院政治を主張した。一方、立憲政進党はフランス流の人権思想に立ち、主権が国民にあることを主張した。

Ⅱ 政府の緊縮財政と増税の結果、全国的に不景気が広がり、まゆ価や米価が上がった。借金を重ねた生活に困った埼玉県秩父の農民たちは、困民党という組織をつくって借金返済の滞りを求めて高利貸しや役所を襲った。

- (ア) Ⅰ 正 Ⅱ 正 (イ) Ⅰ 正 Ⅱ 誤
(ウ) Ⅰ 誤 Ⅱ 正 (エ) Ⅰ 誤 Ⅱ 誤

6 次の文章を読み、下の各問いに答えなさい。

資本主義経済のもとでは、企業は自由競争にもとづく経済活動を原則としている。(a)自由競争が行われている市場においては(b)商品価格や取り引き量は需要と供給の変化により決定される。企業はよりよい商品をより安く販売して利潤を大きくしようと競争し、拡大再生産を繰り返している。このため、大規模な生産施設が必要となり、多くの資金を集めるためのしくみとして(c)株式会社が考え出された。

自由競争のもとでは、少数の大企業に(d)生産が集中し、競争が行われなくなることもある。このような弊害をなくし、公正で自由な競争を確保し、消費者の利益を守るために(e)独占禁止法が制定されている。また、国民の日常生活に大きな影響を及ぼすものに関しては、国や地方公共団体の決定や認可などを必要とする(f)公共料金(認可価格)が設定される。

財やサービスの価格を平均したものが物価であり、これは(g)経済状態をはかる指標となる。

問(1) 下線部(a)について、自由競争が行われている市場において商品価格が上昇するときの原因とはならないものを、下の(ア)～(イ)の中から1つ選び、記号で答えなさい。

- (ア) 原料不足により、価格が値上げされた。
- (イ) 法人税率と消費税率が大幅に上がった。
- (ウ) 法律の改正による規制緩和で外国のメーカーが多数参入した。
- (エ) 生産段階で生じる廃棄物処理などのリサイクル費負担が増えた。

問(2) 下線部(b)について、右の表は自由競争が行われている市場における、あるメーカーのTシャツの価格・需要・供給の変化を示したものである。このTシャツ40枚が売れ残った時の価格を答えなさい。

価格	需要量	供給量
1000円	120枚	80枚
1500円	100枚	100枚
2000円	80枚	120枚
2500円	40枚	160枚

問(3) 下線部(c)について、株式会社の説明として誤っているものを、下の(ア)～(イ)の中から1つ選び、記号で答えなさい。

- (ア) 株式会社は、必要な資金を多数の株式に分けて、出資者(株主)を募り、多額の資本金を集める。
- (イ) 株主は出資額に応じて配当金を受け取ることができ、いつでも自由に株式を売ることができきる。
- (ウ) 会社の経営方針を決定する株主総会では、株主は1人あたり1票の議決権を持つ。
- (エ) 会社が倒産した場合、出資金は株主に戻らないが、出資額以上の負担を負わない。

問(4) 下線部(d)について、複数の同業者が利潤を確保するために商品価格や販売量などについて結ぶ協定を何と呼ぶか、カタカナで答えなさい。

問(5) 下線部(e)について、この法律を運用し、市場における独占の有無を監視する政府機関を何と呼ぶか、答えなさい。

問(7) 下線部(f)について、障害者や高齢者が、一般社会の中で安全・快適に暮らせるよう、生活する上の障害を取り除くことを何と呼ぶか、カタカナで答えなさい。

問(8) 下線部(g)について、定住外国人の人権に関する記述として正しいものを、下の(ア)～(イ)の中から1つ選び、記号で答えなさい。

- (ア) 国家公務員採用試験の受験資格はないが、地域・職種を問わずに地方公務員の採用試験は受験できる。
- (イ) 国家公務員と都道府県公務員採用試験の受験資格はないが、市町村の公務員採用試験は受験できる。
- (ウ) 国会議員に立候補することはできないが、国会議員の選挙権を持つ。
- (エ) 公務員採用試験の受験資格については各地方自治体の判断による。

問(6) 下線部(イ)について、公共料金(認可価格)とは呼べないものを、下の(ア)~(カ)の中から2つ選び、記号で答えなさい。

- (ア) 電気料金
- (イ) 動物園入場料
- (ウ) J R 乗車賃
- (ロ) 郵便料金
- (エ) 電話料金
- (カ) 米の価格

問(7) 下線部(ロ)について、物価と景気に関する記述として誤っているものを、下の(ア)~(カ)の中から1つ選び、記号で答えなさい。

- (ア) 物価が継続的に上昇するインフレーションが起こると、年金で生活している人々の生活を圧迫する。
- (イ) 物価が下がりがり続けるデフレーションが進むと、住宅ローンをかかえている人は返済しにくくなる。
- (ウ) 物価が下がっても需要は拡大せず、さらに物価が下がるデフレスパイラルに陥ると、失業者が増加する。
- (ロ) 景気の停滞にもかかわらず物価が上がるスタグフレーションの時、預貯金の実質的価値は上がる。

⑩ 平成22年度 早稲田摂陵高等学校入学試験解答用紙(2/10) 社会 受験番号

(注 ※印には記入しないこと)

1 問 (1) エ 問 (2) ア 問 (3) ア 問 (4) 21日 午前 2時

問 (5) A ⑤ B ② C ③ 問 (6) ウ 問 (7) 混合農業

2 問 (1) エ 問 (2) ウ

問 (3) ① 栽培 ② 漁尾 ③ 有明 ④ 利根

問 (4) 山地が海に沈み込み、谷の部分に海水が入ってきた。

問 (5) b イ c ウ 問 (6) オーストラリア 問 (7) ア 問 (8) IV

問 (9) 3

問4・問5は各2点、他は1点、1×5+2×4=13点 ※ 13

問3・問4は各2点、他は1点、問5は完答、1×7+2×5=17点 ※ 17

3	①	高床倉庫	②	銅鑼	③	親鸞聖王	④	前方後円墳
	⑤	姓	⑥	因達	⑦	冠位十二階	⑧	法隆寺
	⑨	大嘗楽令	⑩	延暦寺	⑪	延暦寺	⑫	真言宗
	⑬	額通	⑭	平将門	⑮	白河	⑯	保元の乱
	⑰	後白河	⑱	榎ノ階	⑲	後鳥羽	⑳	大板隠岐院

4 問 (1) ア 問 (2) 板垣退助 問 (3) 大阪

問 (4) 大隈重信 問 (5) 伊藤博文 問 (6) 法律

問 (7) 満25歳以上の男子で、直接国税15円以上を納めているもの

問 (8) オ 問 (9) ア 問 (10) エ

1×20=20 ※ 20

2×10=20 ※ 20

5 問 (1) ① 14 ② 教育 ③ 女子(婦人)差別撤廃

問 (2) ウ 問 (3) イ 問 (4) エ 問 (5) ア 問 (6) 316

問 (7) バリアフリー 問 (8) エ

問1は各1点、他は2点、1×4+2×7=18 ※ 18

6 問 (1) ウ 問 (2) 2000円 問 (3) ウ 問 (4) カルテル

問 (5) 公正取引委員会 問 (6) イ・カ 問 (7) エ

問1・問2は各1点、他は2点、問6は完答、1×2+2×5=12 ※ 12

※ 100