

2011 年度 平安女学院高等学校

# 入学試験問題

1 次

社 会

- 注意・「はじめ」の合図があるまで、問題を開いてはいけません。
- ・受験番号と氏名を解答用紙の決められたところに書きなさい。
  - ・答えはすべて解答用紙の決められた  の中に書きなさい。
  - ・記号で答えられるものは、すべて記号で答えなさい。
  - ・漢字で書けるところは、すべて漢字で答えなさい。
  - ・資料は、一部省略したり、書き改めたりしたところもあります。

1 日本と世界の河川について述べた次の文章を読んで、あとの問いに答えなさい。

古来より河川は人々に水の恵をもたらし、生活にかけがえのない役割を果たしてきました。日本列島は①環太平洋造山帯に属し、山がちな地形です。②列島の中央部にそびえる高く険しい山脈を源とする河川は、山地に深い谷をきざみ、大量の土砂を下流地域に運んできました。河川が山間部から平地に出た付近では、あらい土砂が積もった地形が形成され、③河口付近には細かい土砂が積もって形成される地形が見られます。

河川の水は、古くから農業用水として使用され、④四大文明はいずれも大きな川の流域で発生しました。今日でも、川のもたらす恩恵によって世界各地で農業生産がさかんに行われています。例えば、アメリカの中央平原を流れるミシシッピ川の両側には、（ 1 ）とよばれる大平原が広がり、この国最大の穀倉地帯となっています。

河川は古くから船舶による交通路として用いられてきました。例えば中国では古来より「⑤南船北馬」といわれて、華中・華南では河川や運河が水運に利用されてきました。とくに第一の大河である長江はその代表で、河口付近には、2010年に万国博覧会が開かれた（ 2 ）があり、流域の経済活動は活発です。

日本でも、水運は主要な交通手段の一つでした。天下統一を果たした豊臣秀吉が政治の中心地に大阪を選んだのは、その水運に着目したからでした。江戸時代には、各藩が年貢米を大阪に集め、（ 3 ）を設けていましたが、その多くは水運に恵まれた堂島、中之島付近に集中し、大阪は「水の都」とよばれていました。

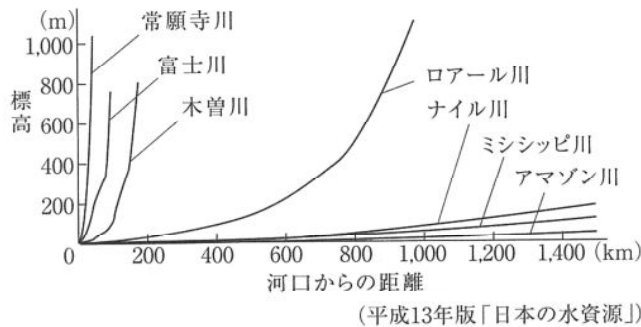
19世紀に産業革命に突入した日本では、河川が産業活動に大きな役割を果たしました。河川は工業用水の取得や、工場排水の処理のために利用されました。その結果、水質汚染による深刻な被害が問題になりました。日本の公害の原点とされる（ 4 ）銅山鉱毒事件では、鉱山から出る鉱毒が渡良瀬川を汚染し、農作物だけでなく、人々の健康にも大きな影響を及ぼしました。戦後の高度経済成長期にも工場排水が河川を汚染し、周辺地域に深刻な被害を引き起こしました。1970年に水質汚濁防止法が制定され、河川浄化への対策がとられるようになりました。⑥1980年以降になると、河川・湖沼の生態系が重要だと考えられるようになり、行政だけでなく、⑦市民の間でも川の浄化に取り組む団体が増えてきました。そのため、河川開発をめぐっては、河川の環境保全の問題が大きな関心の的になっています。一方、プラスチックなどのごみの不完全燃焼によって生じる（ 5 ）は河川や港湾の底に蓄積され、その解決が急がれています。

問1 文中の空欄（ 1 ）～（ 5 ）にあてはまる語を答えなさい。

問2 下線部①に含まれるものを次のア～エから1つ選びなさい。

ア ヒマラヤ山脈    イ アトラス山脈    ウ アパラチア山脈    エ ロッキー山脈

問3 下線部②に関して、次の図は日本の河川や外国の河川を比較したものです。この図から読み取れる日本の河川の特徴を説明した文の空欄（ a ）（ b ）にあてはまる語を答えなさい。



「日本の河川は、外国の河川に比べて河口からの距離が（ a ）、勾配が（ b ）である。」

問4 下線部③について、このような地形の名前を答えなさい。

問5 下線部④について、「2つの川にはさまれた地域」という意味の古代文明発祥地の名前を答えなさい。

問6 下線部⑤に関して、中国では南北の地域で農業の特色が異なります。稲作区と小麦区の境界線といわれる河川名を、次のア～エから1つ選びなさい。

ア ホワイ川    イ チュー川    ウ メコン川    エ ウスリー川

問7 下線部⑥の日本経済の動きについて述べた文として誤っているものを、次のア～エから1つ選びなさい。

- ア 企業や銀行は株式や土地の購入に資金をまわし、バブル経済という事態が生じた。
- イ 銀行は多額の不良債権をかかえこむようになり、倒産する銀行もでてきた。
- ウ 石油危機によって日本経済は大きな打撃を受け、高度経済成長の時代が終わった。
- エ 企業の生産・投資だけでなく、消費もふるわないデフレ・スパイラルという現象が見られるようになった。

問8 下線部⑦について、環境保護などのボランティア活動を行う民間の非営利組織を何といいますか。アルファベット3字で答えなさい。

2 地方公共団体のホームページ（HP）は市民の生活に必要なさまざまな情報を提供しています。次の資料は京都市のHPをもとに作成したものです。資料をみて、あとの問いに答えなさい。

<資料1> 姉妹提携・パートナー提携都市の一部（ ）内は国名

a ケルン（ドイツ）	b プラハ（チェコ）	c パリ（フランス）
d フィレンツェ（イタリア）	e ボストン（アメリカ合衆国）	
f グアダハラ（メキシコ）	g 晋州（韓国） <small>ちんじゅ</small>	h 西安（中国）

問1 次の説明にあてはまる都市を、<資料1> a～hから1つ選びなさい。

「レオナルド・ダ・ビンチやミケランジェロが活躍したルネサンス発祥の地であり、市内には寺院や宮殿など歴史的遺産が豊富にあります。産業は、古くから毛織物工業が盛んであるほか、工芸品・ファッション産業も盛んです。」

問2 京都からグアダハラ（メキシコ）の現地時間1月1日の午前0時に電話で新年のあいさつをするためには、日本時間でいつ電話すればよいですか。正しいものを次のア～エから1つ選びなさい。ただしグアダハラ（メキシコ）の時間は、西経90度を基準に設定されているものとします。

- ア 12月31日の午前3時                      イ 1月1日の午前3時  
ウ 12月31日の午後3時                      エ 1月1日の午後3時

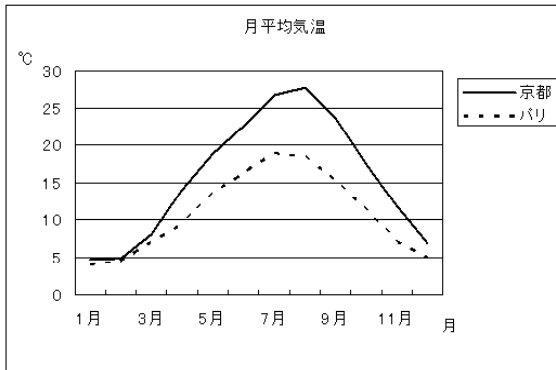
問3 次の表は、日本、中国、メキシコの輸出相手国・地域を示したものです。表中のA～Cは、韓国、ドイツ、アメリカ合衆国のいずれかです。A～Cにあてはまる国の正しい組合せを、下のア～カから1つ選びなさい。

国名	1位	2位	3位	4位	5位～8位
日本	A	中国	B	台湾	C
中国	A	香港	日本	B	C
メキシコ	A	カナダ	C	スペイン	ブラジル

（総務省統計局HP 2008年データ）

- ア A－アメリカ      B－韓国      C－ドイツ  
イ A－アメリカ      B－ドイツ      C－韓国  
ウ A－韓国          B－アメリカ      C－ドイツ  
エ A－韓国          B－ドイツ      C－アメリカ  
オ A－ドイツ        B－アメリカ      C－韓国  
カ A－ドイツ        B－韓国          C－アメリカ

問4 次のグラフはパリと京都の気温を比較しています。これについて述べた文として正しいものを、下のア～エから1つ選びなさい。



(理科年表 2009 年より作成)

- ア パリは京都より高い緯度に位置しているが、偏西風の影響で冬の気温は京都とほとんど変わらない。
- イ パリは京都より低い緯度に位置しているが、偏西風の影響で夏の気温が京都より低い。
- ウ 京都はパリより高い緯度に位置しているが、季節風の影響で夏の気温がパリより高い。
- エ 京都はパリより低い緯度に位置しているが、季節風の影響で冬の気温がパリとほとんど変わらない。

問5 ケルンのあるドイツはEUに加盟しています。EUの加盟国間で行われている内容として誤っているものを、次のア～エから1つ選びなさい。

- ア 資本・労働力の移動の自由
- イ 経済特区への外国企業誘致
- ウ 共通通貨の導入
- エ 関税の廃止

問6 晋州の観光名所として知られる晋州城は、16世紀には豊臣秀吉による朝鮮侵略の戦場となった所です。このことについて述べた文として誤っているものを、次のア～エから1つ選びなさい。

- ア 豊臣秀吉は、明の征服をくわだて、その道すじにあたる朝鮮に軍隊をさしむけた。
- イ 朝鮮の民衆の中には自主的に武器を持って戦う義兵とよばれる人々がいた。
- ウ 朝鮮側では、李成桂が水軍を率いて秀吉の軍を苦しめた。
- エ 朝鮮侵略のとき、日本に連れてこられた朝鮮の陶工によって、有田焼がはじまった。

<資料2> 京都市の歴史（一部の事項省略）

西暦(年)	記 事
1889	市制施行により京都市が誕生。第1回市議会開催
1890	琵琶湖疏水竣工
1922	全国水平社創立大会（岡崎公会堂） -----①
1929	普通選挙による最初の市議会議員選挙実施 -----②
1933	京都市立美術館開館
1957	平和都市宣言 -----③
1981	地下鉄烏丸線開通
1982	空き缶の再資源化を促進する条例を施行
1997	地球 <input type="checkbox"/> X 防止京都会議開催
2003	世界水フォーラムが京都で開催

問7 <資料2>①の頃、社会運動が盛んになり、民主主義的な傾向がみられるようになりました。このような社会全体の動きを何といいますか。

問8 <資料2>②と同じ年に起こったできごとを、次のア～エから1つ選びなさい。

ア 満州事変      イ 日中戦争      ウ 五・一五事件      エ 世界恐慌

問9 <資料2>③の宣言が出された背景について述べた文として最も適切なものを、次のア～エから1つ選びなさい。

- ア ビキニ環礁で行われたアメリカの水爆実験で第五福竜丸が被爆した。
- イ アメリカによる北ベトナム爆撃が開始され、ベトナム戦争が長期化した。
- ウ ソ連がアフガニスタンに侵攻し、反政府ゲリラとの間で激しい戦闘が繰り返された。
- エ イスラエルとアラブ諸国との間で第4次中東戦争が開始され、石油危機が起こった。

問10 <資料2>の空欄  X にあてはまる語を答えなさい。

<資料3> 京都市会（市議会）のしくみ （一部省略）

市では、福祉、教育や都市基盤整備など、市民の生活に深く関わる様々な仕事をしています。  
このため、市政には、市民の意見が十分反映されていなければなりません。そこで、市民は、その代表者として、④市会議員や市長を直接選挙し、市政の運営をゆだねています。⑤市会は、条例案など市政に関する様々な審議を行い、市としての意思や基本的な方針を決める議決機関としての役割を持っています。一方、市長は、市会の決定に基づいて、市民のための仕事を実際に進めていく執行機関としての役割があります。また、市会は、⑥市政が適正に行われているかどうかを監視する役目も持っています。

問11 <資料3>下線部④の解職請求について述べた次の文中の（ A ）（ B ）にあてはまる語の組合せとして正しいものを、下のア～エから1つ選びなさい。

「解職の請求にあたっては、原則として有権者の総数の（ A ）の署名があれば、有権者による住民投票を実施し、（ B ）の賛成があれば解職する。」

- ア A - 50分の1以上      B - 過半数
- イ A - 50分の1以上      B - 3分の2以上
- ウ A - 3分の1以上      B - 過半数
- エ A - 3分の1以上      B - 3分の2以上

問12 <資料3>下線部⑤の権限にあてはまらないものを、次のア～エから1つ選びなさい。

- ア 市長の解職（リコール）      イ 予算の決定
- ウ 市政に対する調査      エ 条例の改廃

問13 <資料3>下線部⑥のような役割を住民が自主的に果たす制度を何といいますか。

3 「土地制度の移り変わり」に関する次の文章を読んで、あとの問いに答えなさい。

自給自足の採集経済を主体としていた原始社会の人びとは、土地に定着することはなかった。

①農耕が広まった時代になって、はじめて土地を財産として私有するようになった。

大和政権の成立期には、大王家や豪族が土地と民衆の私有を行ったが、この体制は②大化改新によって公地公民制にきり換えられた。律令国家では、6歳以上の男女に口分田が支給され、死亡すれば、その口分田は返すことになっていた。これを班田収授法といった。しかし、③税負担にたえかねた民衆の逃亡が増え、人口増加にともなって口分田が不足し、班田制はぐらつきはじめた。

④奈良時代になると朝廷は、期限付きの土地私有を認め、さらに開墾地の無期限私有を認めた。このような私有地は、のちに荘園とよばれるようになった。

平安時代に入ると、律令制にもとづく政治はおとろえ、しだいに班田収授も行われなくなった。地方の豪族は、による税の取り立てに抵抗したり、開発した土地をめぐって争ったりした。やがて荘園の重い税を逃れるため、中央で大きな力をもっている藤原氏や大きな寺社に寄進して、の力を取りのぞこうとした。

鎌倉時代になると、幕府は年貢の取り立てにあたるを荘園などにおいた。一方、朝廷は諸国のを任命するなどの力を持ち、農民は二重の支配をうけた。承久の乱で朝廷の権威がおとろえ、幕府の勢力は西国にもおよぶようになった。そのため、⑤武士と荘園領主の争いごとが多くなった。

室町時代になると、幕府に荘園の年貢の半分をとることを認められたが、大きな勢力をもった。このころ、⑥産業の発達にともなって農民の生活も向上した。こうした中、将軍の後継争いにの対立がからんで、⑦京都を戦場に11年間も戦ったので、京都の大半は焼け野原となった。この争いがおさまったのちも、各地で争いが続き、幕府の権威は失われていった。

戦乱の時代になり、⑧ヨーロッパ人が来航したあと、豊臣秀吉が全国を統一した。年貢を確実に取るために、⑨田畑の面積・収穫高・耕作者を調べて、土地を石高であらわす新しい方法を行った。これにより荘園制は崩壊した。

江戸時代になると、幕府は有力農民を⑩村役人にし、代官の指図のもとで、年貢の徴収や防犯につとめさせた。農民は生活を高めるために、工夫をこらして増産に励んだが、さまざまな税をかけられるなど、農民の負担は大きかった。そこで⑪農民は、こぞって代官所などに押しかけたり、村々の代表が訴えるなどして、年貢の軽減などを要求した。また、年貢を納めるために借金をし、借金がかさんで返せずに土地を失う農民が多く生まれた。

明治になると、⑫土地の面積と収穫量を調べて、これにもとづいて地価を決め、その100分の3を税として国に納めさせる方法がとられた。これによって、政府の収入は安定することになったが、小作人が増え寄生地主が農村を支配する基礎が築かれた。

戦後、GHQは民主化と非軍事化をおしすすめた。憲法改正を⑬国会で審議し、1946年11月3日に⑭日本国憲法が公布された。また、自作農の没落が侵略戦争の一因であるとみて、⑮二度にわたり地主の土地を強制的に買い上げ、小作農に安く譲りわたした。GHQのうちだした非軍事化については、1950年に朝鮮戦争がはじまり転換され、翌年に⑯サンフランシスコ平和条約を結んで、日本はようやく独立を回復した。



問1 下線部①について、この時代に関する説明として誤っているものを、次のア～エから1つ選びなさい。

- ア 稲穂をつむ石包丁や、収穫物をたくわえた高床倉庫が利用された。
- イ 鉄製の農具や、祭りの道具として銅鏡・銅鐸が使用された。
- ウ 卑弥呼は中国に使いを送り、「漢委奴国王」の称号を授けられた。
- エ 吉野ヶ里遺跡から、かめ棺の墓や濠に囲まれた集落跡が発見された。

問2 下線部②に関して、この改革の中心でのちに天皇となった人物を、この当時の名前で答えなさい。

問3 下線部③について、口分田の面積に応じて収穫した稲を納めた税を、漢字1字で答えなさい。

問4 下線部④の時代につくられた『万葉集』に記された次の歌がよまれた場所は、現在の何県ですか。あてはまる県を下の表中ア～エから1つ選びなさい。

「田子の浦ゆ うち出でて見れば 真白にそ 富士の高嶺に 雪は降りける」

次の表は、米・みかん・リンゴ・豚の生産量や飼育頭数の都道府県別上位3位までを表しています。

	米の生産量	みかん生産量	リンゴ生産量	豚の飼育頭数
1位	(ア)県	和歌山県	青森県	鹿児島県
2位	北海道	愛媛県	(ウ)県	(エ)県
3位	秋田県	(イ)県	岩手県	茨城県

(総務省統計局HP  
2008年データ)

問5 空欄  ～  にあてはまる語の組合せとして正しいものを、次のア～エから1つ選びなさい。

- ア 1 国造      2 守護      3 守護大名
- イ 1 国司      2 守護      3 戦国大名
- ウ 1 国司      2 地頭      3 守護大名
- エ 1 国造      2 地頭      3 戦国大名

問6 下線部⑤に関して、領地争いを公平に裁くために1232年に定められた武家法の名称を答えなさい。

問7 下線部⑥に関して述べた文として室町時代にあてはまらないものを、次のア～エから1つ選びなさい。

- ア 各地で二毛作が可能になり、一部では三毛作も行われた。
- イ 株仲間とよばれる同業者の団体ができ、営業を独占した。
- ウ 馬や荷車で荷物を運ぶ馬借・車借とよばれた運送業者が現れた。
- エ 土倉・酒屋・寺院が高い利息で金を貸し、大きな富をたくわえた。

問8 下線部⑦に関して、この戦いのあと町衆によって再興されたものを、次のア～エから1つ選びなさい。

- ア 葵祭      イ 祇園祭      ウ 五山送り火      エ 時代祭

問9 下線部⑧に関して、その要因として誤っているものを、次のア～エから1つ選びなさい。

- ア 宗教改革の動きが広がり、カトリック教会がこれまでのやり方を改めようとした。
- イ 地中海での東方貿易で、アジアの産物、とりわけ香辛料を手に入れようとした。
- ウ スペイン・ポルトガルは、アフリカ西海岸や大西洋の新しい航路を開拓した。
- エ イギリスにはじまった産業革命で資本家は、安い原料と商品の市場を求めた。

問10 下線部⑨について、このことを何といいますか。漢字4字で答えなさい。

問11 下線部⑩について、誤っているものを次のア～エから1つ選びなさい。

- ア 名主      イ 組頭      ウ 百姓代      エ 水呑百姓

問12 下線部⑪について、正しいものを次のア～エから1つ選びなさい。

- ア 百姓一揆      イ 国一揆      ウ 土一揆      エ 一向一揆

問13 下線部⑫について、このことを何といいますか。漢字4字で答えなさい。

問14 下線部⑬に関する以下の文を読んで、問いに答えなさい。

昨年7月に行われた国政選挙の結果、政権を担っている与党が衆議院では多数を占めているものの、参議院では野党の方が多くなりました。こうなると、政府の議案が衆議院で可決されても参議院で否決されたりして、成立しにくくなります。このような状態を「4国会」といいます。

憲法では⑭衆議院の優越を認めています。両院の議決が異なる場合は、両院の代表による協議会が開かれますが、そこでも合意できないときは衆議院の議決が優先します。5案では、衆議院が可決し参議院が否決や修正した場合には、衆議院で3分の2の多数で再可決すると成立します。

(1) 空欄 4 にあてはまる語を3字で答えなさい。

(2) 下線部⑮に関して、その理由を述べた次の文の空欄 ( a ) ( b ) にあてはまる語として正しい組合せを、下のア～エから1つ選びなさい。

「衆議院議員の任期は参議院議員と比べて ( a )、衆議院には ( b ) もあり、より近い国民の意見を反映しやすいから衆議院の優越が認められている。」

ア a 長く b 解散      イ a 長く b 総辞職  
ウ a 短く b 解散      エ a 短く b 総辞職

(3) 空欄 5 にあてはまる語を、次のア～エから1つ選びなさい。

ア 内閣不信任      イ 法律      ウ 条約承認      エ 予算

問15 下線部⑯に関して、条文に明記されていない権利を、次のア～エから1つ選びなさい。

ア 両性の平等      イ 生存権      ウ 精神の自由      エ 環境権

問16 下線部⑰について、このことを何といいますか。漢字4字で答えなさい。

問17 下線部⑱に関して述べた文として正しいものを、次のア～エから1つ選びなさい。

ア 同時に日米安全保障条約を結んで、アメリカ軍は引き続き日本にとどまった。  
イ 同時に国際連合への加盟が実現し、日本は国際社会に復帰した。  
ウ 中国やソ連など、戦争に関わったすべての国との講和が実現した。  
エ 同時に沖縄や小笠原諸島などが返還され、日本の領土を回復した。

4 次の新聞記事の一部を読んで、あとの問いに答えなさい。

「人間五十年、<sup>げてん</sup>下天の内をくらぶれば、<sup>ゆめまぼろし</sup>夢幻<sup>ごと</sup>の如くなり」(注)

①織田信長の生涯を記した『信長公記』にあることばです。もとは舞曲「敦盛」の一節で、天界の住民が保つという大変な長寿に比べれば人間の一生なんてあっけないもの、といった意味。

日本人は長らく「人生50年」を寿命と考えてきました。実際、戦後間もない1947年の平均寿命は男性が50.06歳、女性が53.96歳。明治時代までさかのぼると何と40歳代前半でした。

しかし、②高度経済成長と歩みを合わせるように平均寿命は延び、日本は世界有数の長寿国に。平成に入ってからもしろろ延びており、③厚生労働省が発表したデータによると男性・女性とも、いずれも過去最高になりました。

でも平均寿命が短かった戦前だって、長生きの人は多くいました。

実は1947年でも、40歳男性の平均余命は26.88年、女性は30.39年ありました。昔の人が50歳くらいで一斉にバタバタ死んだわけではありません。

生後1歳未満の乳児死亡率をみると、1947年には出生千人あたり76.7人もありました。それが2008年には医療や衛生、栄養状態の改善で2.6人と激減。現代でも平均寿命が目立って低い国があるのは、子どもの死亡率の高さが背景にあります。

自然災害も平均寿命を押し下げます。日本では1995年に阪神淡路大震災によって、また2005年にはインフルエンザ流行の影響で、前年の発表値よりわずかに下がりました。

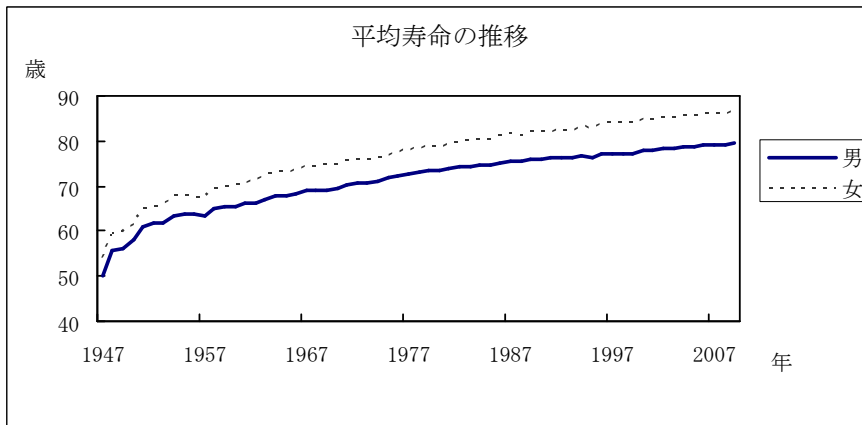
平均寿命の延びには④高齢者の死亡率低下も寄与しています。先進国の中でも日本は急速に高齢社会へ進んでいます。

平均寿命は厚生労働省が毎年発表する「生命表」に掲載されています。生命表とはある年齢の人が次の誕生日までにどのくらい死ぬか、余命は平均してどれくらいかを統計に基づいて示したもの。その昔は「死亡表」と呼ばれていました。

ある年齢X歳から1年ごとの生存者数を足したその和を、X歳の時の生存数で割って得られる数が、X歳の人々の平均余命です。そして平均寿命とは、0歳児の平均余命を指します。

(注) 桑田忠親校注『改訂 信長公記』(新人物往来社)から引用  
2010年5月15日朝日新聞より

主な年齢の平均余命



(厚生労働省HPより作成)

年齢	男	女
0歳	79.59年	86.44年
10歳	69.90年	76.73年
15歳	64.93年	71.75年
20歳	60.04年	66.81年
30歳	50.37年	57.00年
40歳	40.78年	47.25年
50歳	31.51年	37.70年
60歳	22.87年	28.46年
70歳	15.10年	19.61年
80歳	8.66年	11.68年
90歳	4.48年	5.86年

(2010年厚生労働省発表)

問1 下線部①に関して述べた文として正しいものを、次のア～エから1つ選びなさい。

- ア 今川義元の大軍を、鉄砲隊による集団戦法を用いて、桶狭間で破った。
- イ 家臣を城下に住まわせ、関所を廃止し、楽市楽座の制をしいた。
- ウ 一向一揆を攻め、その中心であった本願寺を降伏させ、そこに安土城を建てた。
- エ 全国統一の半ばに、本能寺で家臣の石田三成に攻められて自害した。

問2 下線部②に関して、この時期に発生したた四大公害病とその発生地との組合せとして誤っているものを、次のア～エから1つ選びなさい。

- ア 水俣病－熊本県
- イ 第二水俣病－新潟県
- ウ イタイイタイ病－神奈川県
- エ 四日市ぜんそく－三重県

問3 下線部③と最も関係の深い施策を、次のア～エから1つ選びなさい。

- ア 子ども手当
- イ 高等学校無償化
- ウ 高速道路無料化
- エ 裁判員制度

問4 下線部④に関して、障害のある人や高齢者などが安全で快適に暮らせるように、一般社会のさまざまな障壁（妨げや隔て）を取り除こうとする考えを何といいますか。

問5 2010年厚生労働省が発表した男性の平均寿命は何歳ですか。小数第2位まで答えなさい。

問6 記事とグラフ・表からわかる内容として誤っているものを、次のア～エから1つ選びなさい。

- ア 女性の平均寿命は、戦後間もない頃と比べて30歳以上延びている。
- イ 最新の平均余命は、どの年齢をみても男性より女性の方が長い。
- ウ 子どもの死亡率が高いことや高齢者の死亡率低下で、平均寿命が延びている。
- エ 平均寿命の推移はだいたい右上がりだが、自然災害の翌年は右下がりになる。

2011年度 平安女学院高等学校 入学試験 (社会) 1次  
 解 答 用 紙

受験番号		氏 名		得点	
------	--	-----	--	----	--

1  
 問 1 (1)  (2)  (3)   
 (4)  (5)  問 2

問 3 (a)  (b)  問 4

問 5  問 6  問 7  問 8

2  
 問 1  問 2  問 3  問 4  問 5  問 6   
 問 7  問 8  問 9  問10

問11  問12  問13  制度

3  
 問 1  問 2  問 3  問 4  問 5   
 問 6  問 7  問 8  問 9

問10  問11  問12  問13

問14(1)  (2)  (3)  問15

問16  問17

4  
 問 1  問 2  問 3  問 4

問 5  . 歳 問 6

2011年度 平安女学院高等学校 入学試験 (社会) 1次  
 解 答 用 紙

受験番号		氏 名		得点	
------	--	-----	--	----	--

1  
 問 1 (1) プレーリー (2) 上海 (シャンハイ) (3) 蔵屋敷

(4) 足尾 (5) ダイオキシソ 問 2 エ

問 3 (a) 短く (b) 急 問 4 三角州 (デルタ)

問 5 メソポタミア 問 6 ア 問 7 ウ 問 8 N P O

2  
 問 1 d 問 2 エ 問 3 ア 問 4 ア 問 5 イ 問 6 ウ

問 7 大正デモクラシー 問 8 エ 問 9 ア 問 10 温暖化

問 11 ウ 問 12 ア 問 13 オンブズマン 制度

3  
 問 1 ウ 問 2 中大兄皇子 問 3 租 問 4 イ 問 5 ウ

問 6 御成敗式目 (貞永式目) 問 7 イ 問 8 イ 問 9 エ

問 10 太 閣 検 地 問 11 エ 問 12 ア 問 13 地 租 改 正

問 14 (1) ね じ れ (2) ウ (3) イ 問 15 エ

問 16 農 地 改 革 問 17 ア

4  
 問 1 イ 問 2 ウ 問 3 ア 問 4 ノーマライゼーション

問 5 79.59 歳 問 6 ウ