

平成 23 年 度
高等学校 入学選考試験問題 (A日程)

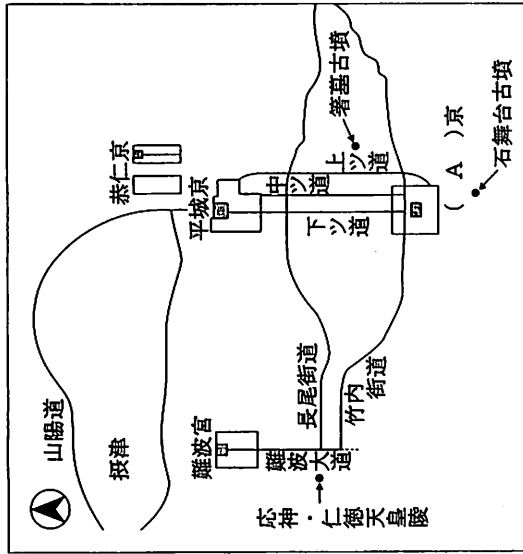
社 会

- 注意
1. 問題用紙および解答用紙にそれぞれ受験番号、氏名を記入しなさい。
 2. 各問題の答えは解答用紙に記入しなさい。
 3. 試験場を退出する際には、問題用紙は表紙を上、解答用紙は裏がえしにして、机の上に置きなさい。
 4. 問題用紙をとりじてあるホッチキスの針をはずさないようにしなさい。

受験番号	氏名
------	----

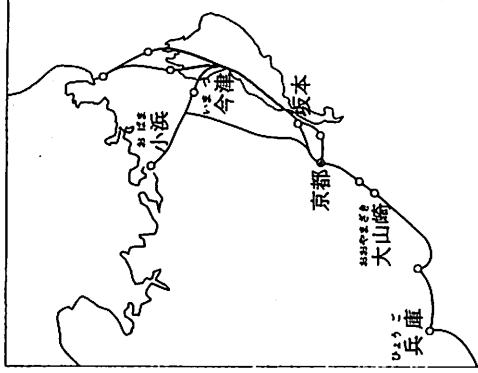
① 次のA～Dは日本史上の交通網(陸上・海上・鉄道など)を示したものである。この図を見て、各問いに答えなさい。

A (飛鳥時代) 古代の道について



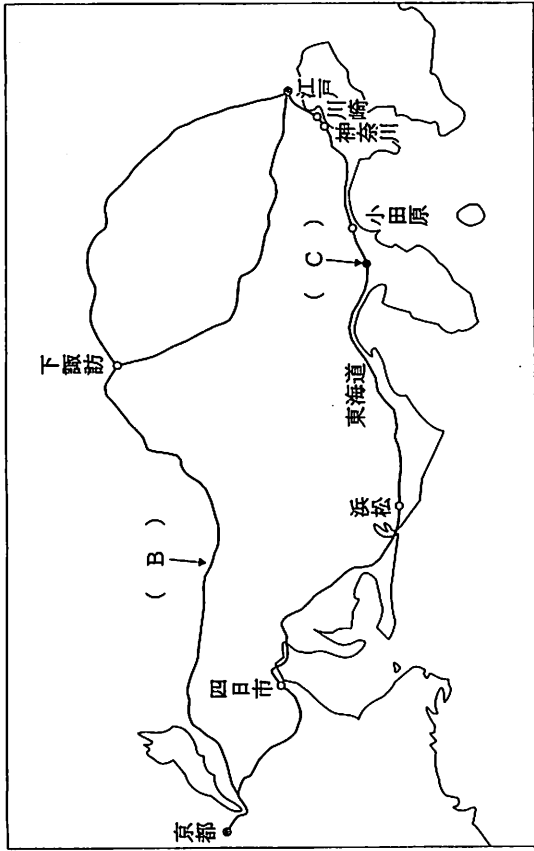
- 問1. 図中の空欄(A)にあてはまる、平城京遷都直前の都はどこですか。
- 問2. 図中の志神・仁徳天皇陵の特徴として正しいものを次のア～エより一つ選び、記号で答えなさい。
- ア. 前方後円墳・横穴式石室・鏡や玉などの呪術的副葬品
 イ. 前方後円墳・縦穴式石室・馬具や甲冑などの実用的副葬品
 ウ. 円墳・横穴式石室・土器などの日常的副葬品
 エ. 円墳・縦穴式石室・馬具や甲冑などの実用的副葬品
- 問3. 図中の磐石古墳と最近確認された近くの墓向遺跡は、3世紀の女性の権力者の墓と大型建物跡といわれています。その権力者を答えなさい。
- 問4. 図中の石舞台古墳は聖徳太子を支えた政治家の墓といわれています。その人物として正しいものを次のア～エより一つ選び、記号で答えなさい。
- ア. 物部守屋 イ. 蘇我馬子 ウ. 大伴金村 エ. 中臣鎌足
- 問5. 図中の竹内街道より明日香地方に入った使節で、仏教を日本に伝えた朝鮮の国として正しいものを次のア～エより一つ選び、記号で答えなさい。
- ア. 百濟 イ. 新羅 ウ. 高句麗 エ. 高麗

B (室町時代・15世紀) 京都を中心とする流通路について



- 問6. 図中の坂本が門前町として栄えた寺院として正しいものを次のア～エより一つ選び、記号で答えなさい。
- ア. 延暦寺 イ. 教王護国寺 ウ. 知恩院 エ. 西本願寺
- 問7. 図中の坂本の鳥借がききかけをつくった、1428年の土一揆を答えなさい。
- 問8. この交通網を通じて浄土真宗が北陸に伝わっていきましました。1471年、越前の吉崎に御坊(道場)を開いた浄土真宗第8代法主は誰ですか。正しいものを次のア～エより一つ選び、記号で答えなさい。
- ア. 栄西 イ. 道元 ウ. 一遍 エ. 蓮如
- 問9. この交通網を通じて多くの物資が北陸に運ばれました。図中の大山崎の八幡宮は室町時代に油を独占的に支配していたが、このような同業者組合を何といいますか。正しいものを次のア～エより一つ選び、記号で答えなさい。
- ア. 株仲間 イ. 土倉 ウ. 座 エ. 問丸
- 問10. この時代の村の状況の説明として正しいものを次のア～エより一つ選び、記号で答えなさい。
- ア. 惣とよばれる自治的・地縁的な村が成立した。
 イ. 名主が支配する名田が村組織の中心になっていた。
 ウ. 寄進地系荘園が形成されて荘官が管理にあたっていた。
 エ. 村方三役とよばれる名主・組頭・百姓代が村の民政をつかさどっていた。

C (江戸時代) 街道について



問11. 図中の空欄 (B) の街道名として正しいものを次のア～エより一つ選び、記号で答えなさい。

- ア. 奥州街道 イ. 日光街道 ウ. 甲州街道 エ. 中山道

問12. 図中の空欄 (C) の関所名として正しいものを次のア～エより一つ選び、記号で答えなさい。

- ア. 福島 イ. 新居 ウ. 碓井 エ. 箱根

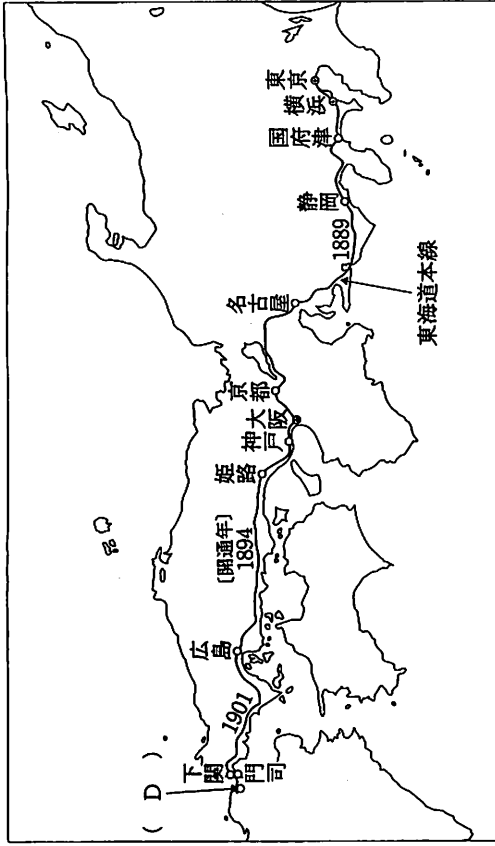
問13. 図中の空欄 (C) のような関所を設置した目的を簡単に説明しなさい。

問14. 図中の東海道を江戸に向かった長崎 (出島) の商館長とは、ヨーロッパの何という国の使節ですか。

問15. 図中の東海道に関する説明として誤っているものを次のア～エより一つ選び、記号で答えなさい。

- ア. 1802年、十返舎一九が伊勢への旅物語を著した。
 イ. 1833年、歌川 (安藤) 広重が日本の風景画である街道絵図を描いた。
 ウ. 1862年の皇女和宮の将軍家茂への降嫁を、島崎藤村が『夜明け前』に描いた。
 エ. 1862年、イギリス人が薩摩藩士に殺傷されるといふ生麦事件が起こった。

D (明治時代) 鉄道網について



問16. 1870年、鉄道建設などの殖産興業をめざして設置された官庁を何といいますか。正しいものを次のア～エより一つ選び、記号で答えなさい。

- ア. 内務省 イ. 兵部省 ウ. 大蔵省 エ. 工部省

問17. 初期の鉄道は外債を發行して建設費を調達しました。その外債を最も購入してくれた国はどこですか。正しいものを次のア～エより一つ選び、記号で答えなさい。

- ア. イギリス イ. フランス ウ. ロシア エ. アメリカ

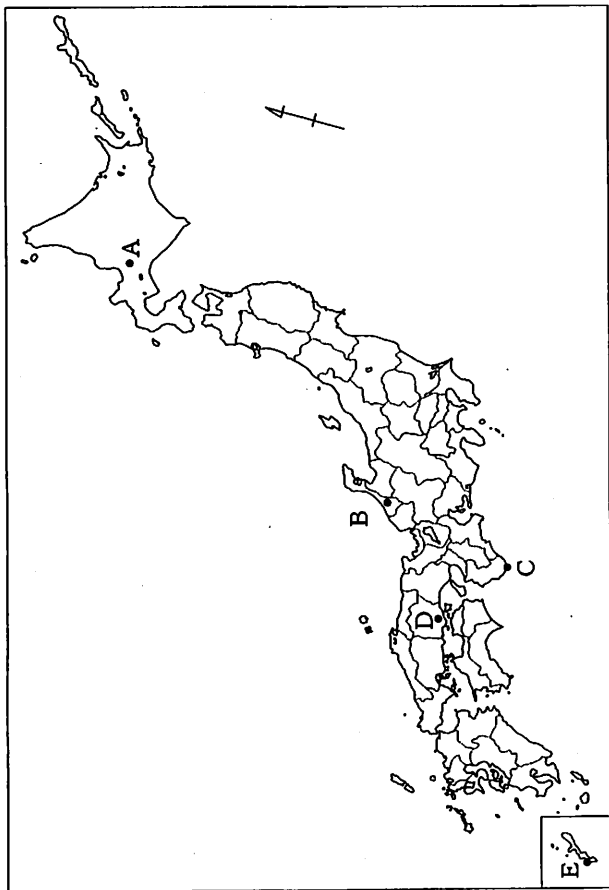
問18. 図中の東海道本線は1889年に東京～神戸間が全線開通しました。当時の首相は誰ですか。正しいものを次のア～エより一つ選び、記号で答えなさい。

- ア. 伊藤博文 イ. 黒田清隆 ウ. 大隈重信 エ. 犬養毅

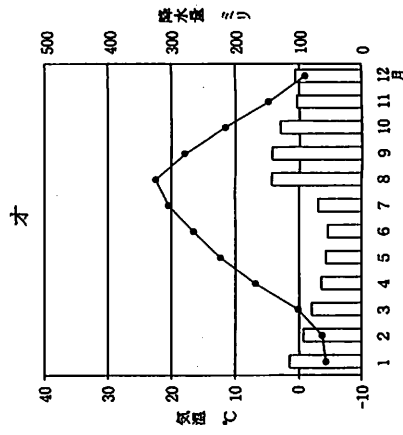
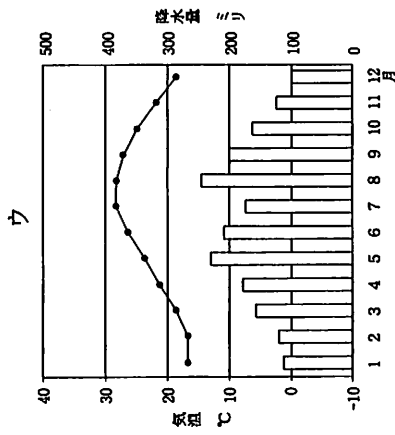
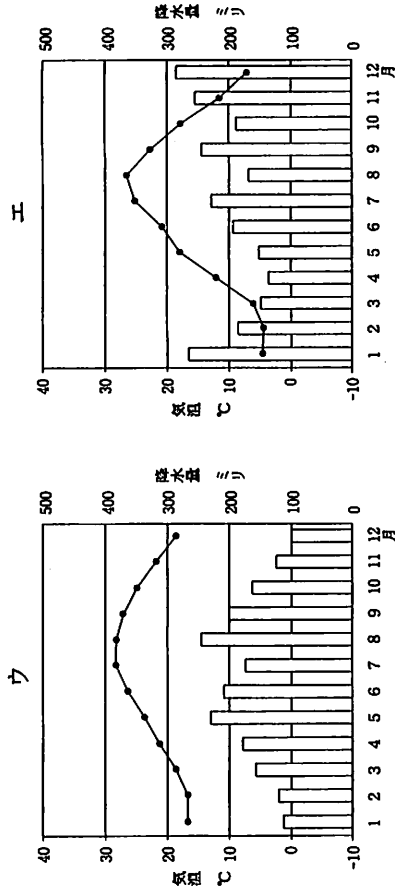
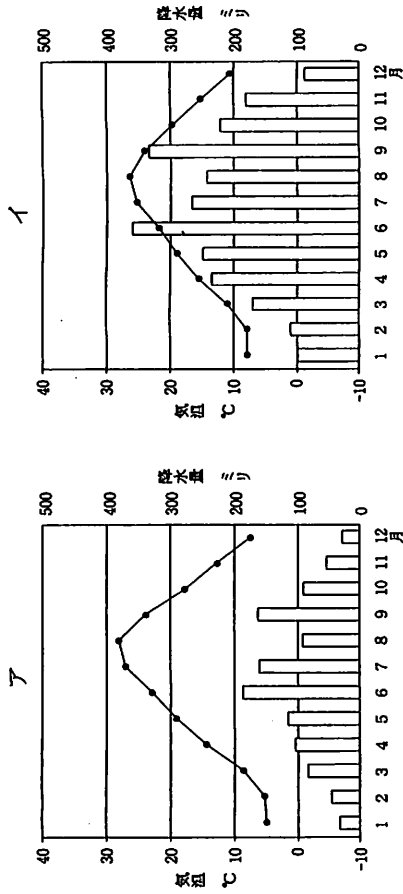
問19. 1901年に図中の (D) に東京からの鉄道が開通しましたが、その年に (D) で操業を開始した製鉄所を答えなさい。

問20. 明治政府は1906年に鉄道を国有化しました。その目的の一つに戦争による軍事輸送の一元化がありました。1890年以降日本の脅威となっていた国で、1895年の三国干渉の中心国を答えなさい。

② 次の日本地図を見て、各問いに答えなさい。



問1. 次の雨温図ア～オは図中のA～Eの都市で測定したものである。都市BとDの雨温図として正しいものを次のア～オより一つずつ選び、記号で答えなさい。




問2. 地図中Aの都市の気候の説明として正しいものを次のア～エより一つ選び、記号で答えなさい。

- ア. 日本を代表する豪雪地帯であり、1月や12月には多くの降水量が確認される。
 イ. 月平均気温が10℃を下回る事がなく、穏やかな天候が続く。
 ウ. 梅雨前線の影響を受けにくいため、6月に降雨がそれほど多くない。
 エ. 台風の影響を強く受けるために9月を中心に300ミリ以上の降雨がある。
- 問3. 地図中Bの都市がある都道府県は伝統工業として正しいものを次のア～エより一つ選び、記号で答えなさい。

- ア. 輪島塗 イ. 有田焼 ウ. 大島紬 エ. 福山琴
 問4. 地図中Cの都市は近海を流れる海流の影響によって冬でも温暖である。この海流の名称として正しいものを次のア～エより一つ選び、記号で答えなさい。

- ア. 日本海流 イ. 対馬海流 ウ. 千島海流 エ. リマン海流
 問5. 地図中Dの都市周辺に位置する牛窓はその気候の特徴から「日本のエーゲ海」と例えられています。街並みには写真のような建築物やリゾートホテル、ギリシャを連想させるようなモニュメントもあります。次のア～エの絵は、カカオ・ココヤシ・バナナ・オリーブのいずれかを示しています。牛窓の特産物とエーゲ海周辺で栽培される農産物に共通するものをこの中から一つ選び、記号で答えなさい。



〔データーブック オブ・ザ・ワールド2009年版より〕

問6. 次の表は、東京・大阪・高知・地図中のEが位置する都道府県の人口増加率を示しています。地図中のEの都道府県の人口増加率として正しいものを次のア～エより一つ選び、記号で答えなさい。

都道府県別の人口増加率 (2008年10月～2009年9月)

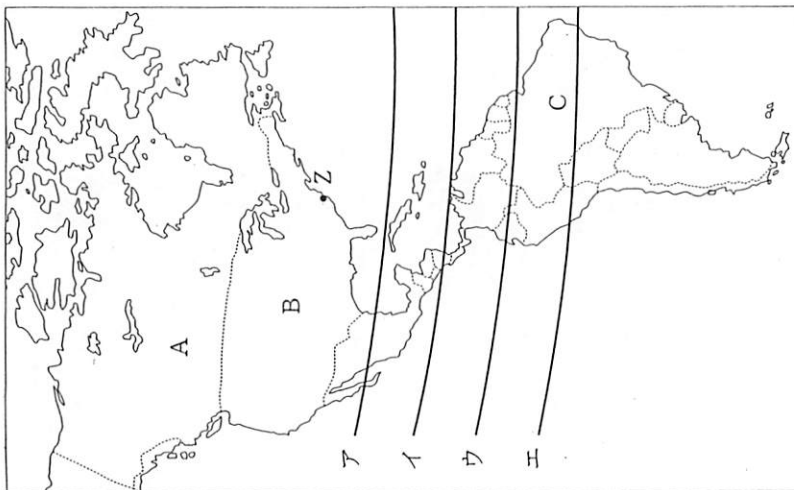
	自然増加率	社会増加率	人口増加率
ア	0.08	0.15	0.23
イ	0.50	-0.05	0.45
ウ	0.02	-0.08	-0.06
エ	-0.51	-0.39	-0.90

〔2010/11 日本国勢協会より、表示は%〕

問7. 地図中のEの都道府県には、中国や台湾と領有権をめぐって問題となっている無人島があります。この島の周辺の大陸棚には豊富な石油資源が眠っているため、資源の発見以降はそれぞれが自国の領土であると主張しています。この島々の名称として正しいものを次のア～エより一つ選び、記号で答えなさい。

- ア. 北方領土 イ. 南沙群島 ウ. 小笠原諸島 エ. 尖閣諸島

③ 次の地図を見て、各問いに答えなさい。

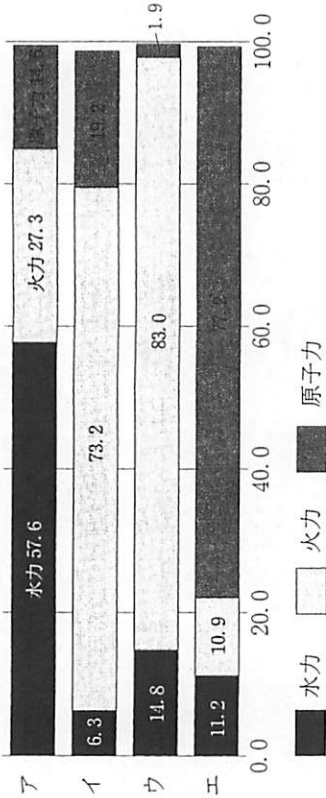


問1. 赤道として正しいものを地図中のア～エより一つ選び、記号で答えなさい。

問2. 図中のA・B・Cの国のエネルギー事情について次の問いに答えなさい。

(1) 次のグラフはA・B・C・中国・フランスの総発電量の割合を示しています。このうち、Aの国の総発電量の割合として正しいものを次のア～エより一つ選び、記号で答えなさい。

各国の総発電量の割合



[2010/11 日本国勢図会より、表示は億kWh]

(2) 図中のCの国は、石油の代替エネルギーとしてバイオエタノールが活用されています。この国で使用されているバイオエタノールの主要な原料として正しいものを次のア～エより一つ選び、記号で答えなさい。

- ア. ジャガイモ イ. サトウキビ ウ. 米 エ. 小麦

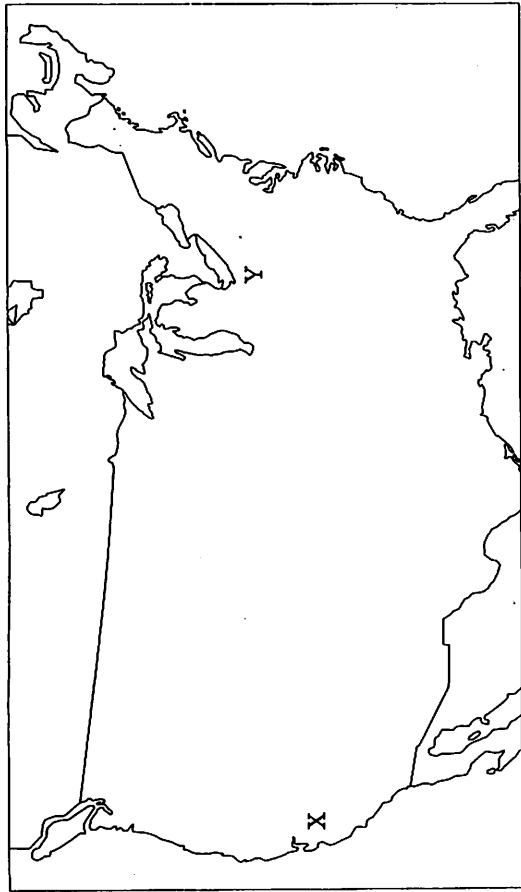
問3. 日本が2月15日午前9時の時、西経75度のB国の都市Zは何月何日ですか。日時として正しいものを次のア～エより一つ選び、記号で答えなさい。なおサマータイムは考慮しないものとする。

- ア. 2月14日 午前5時 イ. 2月14日 午後7時
ウ. 2月15日 午後2時 エ. 2月15日 午後11時

問4. A・B・Cの国のいずれかに生活する先住民の名称として誤っているものを次のア～エより一つ選び、記号で答えなさい。

- ア. アボリジニー イ. インディオ
ウ. イヌイット エ. インディアン

問5. 次の図を見て、B国の産業についての問いに答えなさい。



(1) Xの地域にはサンノゼを中心に世界的な電子工業地域が発展しています。

ICをはじめとするハイテク産業で知られる、この電子工業地域の名称を答えなさい。

(2) Yの五大湖周辺は、石炭や鉄鉱石などの資源や水運に恵まれていることから古くから大きな工業都市が成立してきました。五大湖周辺の工業都市と主な工業業種の組み合わせとして正しいものを次のア～エより一つ選び、記号で答えなさい。

- ア. ロサンゼルス - パルプ イ. デトロイト - 自動車
- ウ. ワシントン - 製鉄業 エ. ヒューストン - 食品産業

(4) 次の文章を読んで、各問いに答えなさい。

やはり、選挙戦で消費税率の引き上げを持ち出すのはタブーだったのだろうか。いや、それだけでなく、昨年の①総選挙であれだけ多くの支持を集めて誕生した民主党がその期待通りの政治を実現していないことに、有権者が不満を募らせている表れではないだろうか。11日投開票された参院選で、有権者は民主党政権に極めて厳しい審判を下した。民主党は50議席を下回って、自民党に改選第1党を譲り渡し、戦後初の本格的な政権交代から約10ヶ月、経済・財政政策や米軍(②)の移設問題など内外の課題が山積する中、首相は難しい政権運営を迫られる。この政権は今後、③連立の組み替えや政策ごとに野党との連携を図る「部分連合」を模索するとみられる。

しかし、現状では野党側がこれに応じる機運はなく、国会は再び衆参がねじれて、政府提出法案が容易に通らない状態となる可能性が大きい。この影響は深刻だ。今回の参院選で菅首相が消費税率の増税に言及した。財政再建や④社会保険の再構築は待たないからだ。だが、菅首相は12日未明の会見で「議論そのものが否定されたとは思っていない」「改めてスタートラインに立った」などと強気に語ったが、あまりに楽観的ではないか。選挙中、首相は低所得者層への還付策などをあわてて打ち出したもの

の穴埋めなのか、社会保険のためなのか、はつきりせず、増税と経済成長は両立するとも語った。大敗の理由は消費税率だけではいらない。今回躍進したみんなの党の主張が「増税の前にやるべきことがある」だったのが象徴的だ。昨年の総選挙で民主党は同じ主張をしていたのではなかったか。ところが予算の無駄遣いの根絶や公務員改革、政治主導など掲げた改革は有権者の期待と裏腹に後退も目立つ。菅政権発足直後は支持率が回復したが、まだ何もしていないに等しい。選挙結果はこれらを含めた総合評価であることを、民主党は重く受け止める必要がある。民主党内では消費税を持ち出した菅首相の責任論が出ており、9月の党代表選に向け「反小沢対親小沢」の対立が再燃しそうだ。だが、⑤次々と首相が交代する政治がよいとは考えない。選挙中から菅首相を批判していた小沢一郎前幹事長に世論の支持が集まっているようにもみえないし、首相が交代すればねじれ解消の展望が開けるわけでもない。党内対立をしている場合ではない。まず、党を挙げて、選挙戦を総括し、ねじれ国会に対処するのが先だろう。

一方、自民党は1人区などを中心に議席を奪還し、復讐へのきっかけをつかんだ。ただ、比例代表では大きく回復しておらず、信頼が戻ったとはいえない。今度の選挙で、いち早く消費税率引き上げを打ち出し、「責任野党」として議論をリードした点は評価するが、選挙戦ではどんな国づくりをするかより、「菅政権批判に終始した印象が強い。民主、自民双方を厳しく批判して得票を伸ばしたみんなの党は今後、参院の法案成否でキャスティングボートを握る場面も増えそう。責任が重くなった」ということだ。

【毎日新聞2010年07月12日付 社説より一部抜粋】

問1. 下線部①について、この総選挙の結果内閣総理大臣に指名されたのは誰ですか。正しいものを次のア～エより一つ選び、記号で答えなさい。

ア. 菅 直人 イ. 麻生太郎 ウ. 小沢一郎 エ. 鳩山由紀夫

問2. 空欄 (②) について、ここにあてはまるものを次のア～エより一つ選び、記号で答えなさい。

ア. 嘉手納基地 イ. 横田基地 ウ. 普天間基地 エ. 佐世保基地

問3. 下線部③について、2009年総選挙直後の連立政権に加わっていない政党を次のア～エより一つ選び、記号で答えなさい。

ア. 民主党 イ. 国民新党 ウ. 社民党 エ. 共産党

問4. 下線部④について、社会保障ではないものを次のア～エより一つ選び、記号で答えなさい。

ア. 国民は老後のために国民年金を納め、65歳になるとその給付を受ける。
イ. 国民は業務外でけがをしたたりや病気になるた時のために保険料を納め、万一の時はその一部を負担すればよい。
ウ. 国民は生活に困窮した時、公費より生活の保護を受ける。
エ. 国民は将来自分が死亡したときのために生命保険にはいり、万一の時は受取人にお金を支払われる。

問5. 下線部⑤について、小泉純一郎元首相から小泉氏を含めて、現在の首相は何人目になりますか。数字で答えなさい。

⑤ 次の文章を読んで、各問いに答えなさい。

栃木県足利市で女兒が殺害された「足利事件」(1990年)で①無期懲役が確定していた菅家利和さんの再審で、宇都宮地裁は2010年3月26日、「菅家さんが犯人でないことは誰の目にも明らか」と無罪判決を言い渡した。逮捕から18年余りを経て、菅家さんの②無罪が確定した。

この事件では、捜査段階のDNA型鑑定で、犯人のものとみられるDNA型が菅家さんの型と一致したとされ、自白とともに有罪判決の大きな根拠になった。だが再審請求の段階で実施された最新の再鑑定で2009年、「一致しない」という結果が出て、再審開始が決まった。再審の判決で、佐藤正信裁判長は次のように指摘した。

A. 精度の高いDNA型再鑑定は、菅家さんが犯人ではないことを示している。

B. 捜査段階のDNA型鑑定は判定過程に疑問が残り、③証拠としての資格がない。

C. 自白は、当時のDNA型鑑定の結果を捜査官から告げられて、相手が気に入るように想像を交えて述べたものだ。虚偽で、信用性は全くない。

判決言い渡し後、佐藤裁判長は陪席裁判官2人と立ち「実の声に十分に耳を傾けられず、17年半の長きにわたり自由を奪うことになりました。誠に申し訳なく思います」と菅家さんに謝罪した。事件は既に公訴時効が成立しており、真犯人を捕まえることはできない。約半年にわたる再審公判で、弁護側は誤判の理由を法廷で明らかにしよう求めてきた。宇都宮地裁は、弁護側の主張通り、「当初のDNA鑑定は未熟」とする鑑定人を尋問し、検事の取り調べテープも法廷で再生した。誤判の原因解明に裁判所が踏み込んだのは、菅家さんへの配慮に加え、④裁判員制度で国民の司法への関心が高まる中、司法の信頼回復を目指した面もありそうだ。

問1. 下線部①について、この事件のように実際には無罪であったのに有罪とされてしまうことを何といいますか。

問2. 下線部②について、菅家さんは無罪が確定したことにより国にお金を請求することができません。この権利を何といいますか。次のア～エより一つ選び、記号で答えなさい。

ア. 国家賠償請求権 イ. 損害賠償請求権
ウ. 生活補償請求権 エ. 刑事補償請求権

問3. 下線部③について、証拠がないと逮捕されないと権利は次のどれですか。正しいものを次のア～エより一つ選び、記号で答えなさい。

ア. 平等権 イ. 自由権 ウ. プライバシーの権利 エ. 知る権利

問4. 下線部④について、次の裁判員制度についての説明として誤りを含むものを次のア～エより一つ選び、記号で答えなさい。

- ア. 裁判員制度は20歳以上の民間人を無作為に選び、刑事裁判に参加させる制度である。
- イ. 裁判員は有罪か無罪かの事実認定と量刑の決定の両方をおこなう。
- ウ. 裁判員制度は2000年5月に日本全国でスタートした。
- エ. 裁判員制度を適用する裁判には裁判員6名と裁判官3名の計9人で臨む。

⑥ 次の文章を読んで、各問いに答えなさい。

天然資源の少ない日本は①石油や鉄鉱石などの原材料を輸入して、製品を生産し輸出する貿易を経済の柱としてきた。したがって為替の変動は日本経済全体に大きな影響を与えている。

2008年の(②)以来日本のGDPは落ち込み、主要先進国の中で最大の落ち込みを記録した。不況の震源地である(③)や関係の深かった欧州に比べ、日本への影響は小さいであろうと考えられたことから、ドルや(④)を売って円を買う動きが広がり、急激な⑤円高となった。その結果、日本経済への打撃が大きなものとなり、日本国内では、派遣切りといった問題が発生した。このような状況を考えて政府は「内需拡大」と円高に叫んではいないが、GDPの約55%にあたる(⑥)がなかなか増えない状況が続いている。

問1. 下線部①について、このような貿易を何といいますか。正しいものを次のア～エより一つ選び、記号で答えなさい。

- ア. 加工貿易
- イ. 直接貿易
- ウ. 間接貿易
- エ. サービス貿易

問2. 空欄(②)にあてはまる語句を次のア～エより一つ選び、記号で答えなさい。

- ア. 政権交代
- イ. 事業仕分け
- ウ. 洞爺湖サミット
- エ. リーマンショック

問3. 空欄(③)にあてはまる語句を次のア～エより一つ選び、記号で答えなさい。

- ア. ギリシャ
- イ. ドバイ
- ウ. アメリカ
- エ. 南アフリカ

問4. 空欄(④)には欧州連合における経済通貨同盟で用いられている通貨名が入ります。その通貨名を答えなさい。

問5. 下線部⑤について、円高についての説明として正しいものを次のア～エより一つ選び、記号で答えなさい。

- ア. 円高は消費者にとっては、ドルだてで計算される輸入品が安く購入できるとため、円高のほがが得といえる。
- イ. 円高は輸出業者にとっては円の価値が上がっているため、ドルで安く売ることができるとため、円高のほがが得といえる。
- ウ. 円高といっても、製品の価格は全く同じなので、企業に大きな影響を与えるものではない。
- エ. 円高は円がたくさん売られることによって発生するので、日本政府は円を買い戻して適当な値段になるようにしている。

問6. 空欄(⑥)にあてはまる語句を次のア～エより一つ選び、記号で答えなさい。

- ア. 設備投資
- イ. 公共投資
- ウ. 住宅投資
- エ. 個人消費

解 答 用 紙 (H・23・高A・社)

①	問 1		問 2	問 3		問 4
	問 5	問 6	問 7		問 8	問 9
	問 11	問 12				
	問 13					
	問 14		問 15	問 16	問 17	問 18
問 19		問 20				

小 計

②	問 1		問 2	問 3	問 4	問 5	問 6	問 7
	B	D						

③	問 1	問 2		問 3	問 4	問 5	
		(1)	(2)			(1)	(2)

小 計

④	問 1	問 2	問 3	問 4	問 5
					人 目

⑤	問 1		問 2	問 3	問 4

⑥	問 1	問 2	問 3	問 4		問 5	問 6

小 計

受験番号		氏 名	
------	--	-----	--

合 計	
-----	--

解答用紙 (H・23・高A・社)

問1		問2	問3		問4
藤原京		イ	卑弥呼		イ
問5	問6	問7		問8	問9
ア	ア	(しょうちょう) 正長の土一揆		エ	ウ
問11	問12				
エ	エ				
①					
問13					
江戸に鉄砲が入ってくることと, 大名の妻子が江戸を出ることを取りしめるため。					
問14		問15	問16	問17	問18
オランダ		ウ	エ	ア	イ
問19		問20			
八幡製鉄所		ロシア			

小計
40

問1		問2	問3	問4	問5	問6	問7
B	D	ウ	ア	ア	ア	イ	エ
エ	ア						

問1	問2		問3	問4	問5	
ウ	(1)	(2)	イ	ア	(1)	(2)
	ア	イ			シリコンバレー	

小計
30

問1	問2	問3	問4	問5
エ	ウ	エ	エ	6 人目

問1	問2	問3	問4
冤罪(えんざい)	エ	イ	ウ

問1	問2	問3	問4	問5	問6
ア	エ	ウ	ユーロ	ア	エ

小計
30

受験番号		氏名	
------	--	----	--

合計	100
----	-----

