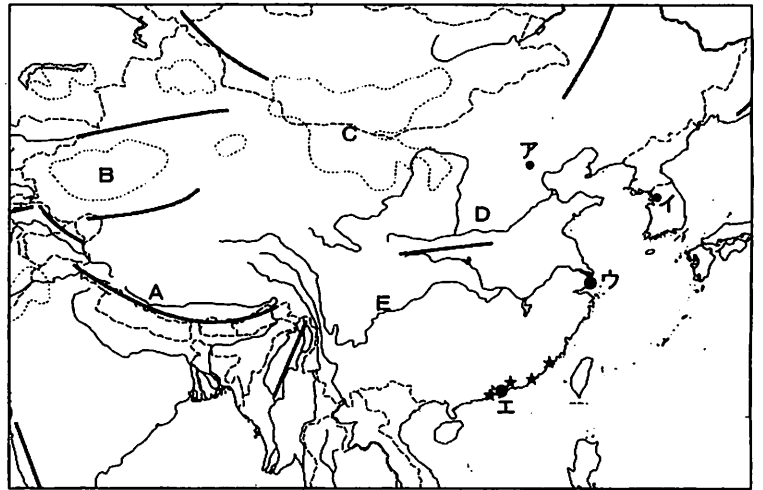


受験番号

1 右の地図について、あとの問いに答えなさい。

- 1 Aの山脈名、B・Cの砂漠名、D・Eの河川名をそれぞれ答えなさい。
- 2 ア～エの都市をあ～おから選び、記号で答えなさい。
あ シャンハイ い ソウル う ホンコン
え ピョンヤン お ペキン
- 3 ①～③の文にあてはまる都市を地図のア～エから選び、記号で答えなさい。
① 長い間イギリスの植民地であったが、1997年に中国に返還された。
② 人口約1600万人のこの国最大の都市で、2010年には国際博覧会が開催された。
③ この国の首都で、2008年にはオリンピックが開催された。
- 4 ★の地区は、外国の資本や技術の導入を目的に、税金を安くするなどの特別なあつかいをあたえられている。この地区を何というか、漢字で答えなさい。



2 日本の工業について、あとの問いに答えなさい。

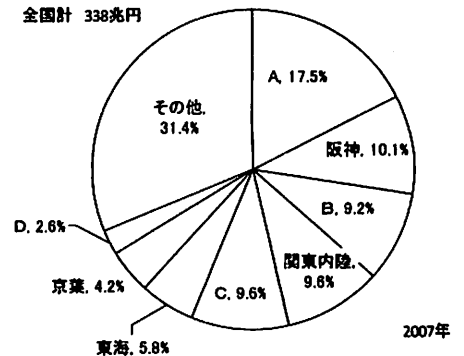
- 1 右のグラフのA～Dにあてはまる工業地帯や地域をア～エから選び、記号で答えなさい。

ア 京浜工業地帯 イ 瀬戸内工業地域
ウ 中京工業地帯 エ 北九州工業地帯

- 2 1960年代には、東京湾から瀬戸内海にかけての沿岸一帯に製鉄・造船・石油化学などの重化学工業の大工場が建設されました。A～Dを含む一帯の地域を何というか、答えなさい。
- 3 Aでは、機械類の生産額が60%以上を占めています。その主な工業製品を答えなさい。
- 4 Cでは、コンビナートがつくれ、石油化学工業が盛んですが、日本が石油をもっとも多く輸入している国をア～エから選び、記号で答えなさい。

日本の工業地帯・工業地域の工業生産額の割合

全国計 338兆円

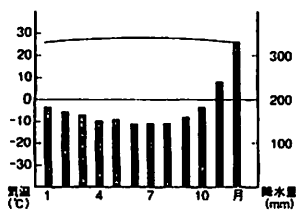


- 5 1980年代後半以降、国内に研究開発や販売部門を残し、工場をアジアなどの外国に移す企業が増えています。このように、主に製造部門が国内からなくなる状況を何というか、答えなさい。

ア アメリカ イ オーストラリア ウ サウジアラビア エ イラク

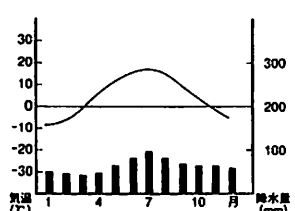
3 次のグラフにあてはまる都市をア～オから選び、記号で答えなさい。

①



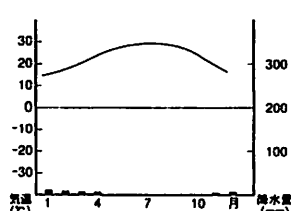
ア カイロ

②



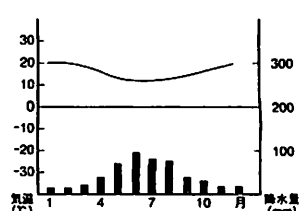
イ ケープタウン

③



ウ シンガポール

④



エ 東京 オ モスクワ

受験番号

4 右の年表を見て、あとの問いに答えなさい。

1 A より前、15 世紀末の 1492 年に (あ) が大西洋をこえてアメリカに到達した。また、16 世紀はじめにマゼランの艦隊が世界一周に成功するなど新航路の開拓がすすみ、ヨーロッパ人が世界にのり出すようになった。A ののち、① ポルトガルやスペインの商船が九州の平戸や長崎に来て、貿易をするようになった。おなじ頃、② ヨーロッパでドイツのルターやスイスのカルバンがキリスト教を改革する運動をおこした。こ

1543年	ポルトガル人が鉄砲を伝える……	A
1637年	島原・天草一揆がおこる……	B
1716年	吉宗が8代将軍となる……	C
1837年	大塩の乱がおこる……	D
1854年	日米和親条約をむすぶ……	E

れらプロテスタントの勢力に対して、当時のスペインはカトリック勢力の中心であり、キリスト教を広めようとの熱意に燃え、多くの宣教師がアジアにのり出していった。③ イエズス会のザビエルが日本にキリスト教を伝えたのもその一つである。

2 3 代将軍 (い) の時代、島原半島や天草諸島で、大名が重い年貢を取り、キリスト教徒をきびしく取りしまったので、約 4 万の農民が一揆をおこした。この B の事件の直後、幕府はキリスト教を広めるおそれがあるとして、ポルトガル船の来航を禁じた。ついで、オランダの商館を平戸から長崎の出島に移した。④ こうして鎖国の状態となった。

3 C と D の間の時期、北アメリカ大陸では、植民地の人びとがイギリスからの独立戦争をおこし、1783 年に独立を達成した。独立後、合衆国憲法を制定し、初代大統領に (う) を選び、アメリカ合衆国が誕生した。一方、ヨーロッパでは 1789 年、パリ市民の暴動をきっかけにフランス革命がはじまった。18 世紀の半ばすぎ、イギリスでは、大量生産をおこなうため技術の改良や機械の発明からはじまり、産業革命がおこった。

4 日本は E の条約で開国への第一歩をふみだしたが、下田に来たアメリカの総領事 (え) は正式の国交や貿易を日本に求めた。1858 年、幕府の老中井伊直弼は日米修好通商条約を結んだ。しかし、これらの条約は日本にとって不平等な条約であった。たとえば、⑤ 貿易において、日本が輸出入品に自由に税金をかける権利が認められなかった。

(1) 1～4 の (あ) ～ (え) にあてはまる人名を答えなさい。

(2) 1～4 の ①—から ⑤—について、あとの問いに答えなさい。

① この貿易を何貿易といいますか。

② これを何といいますか。

③ ザビエルが日本にキリスト教を伝えたのは西暦何年ですか。

④ 鎖国のもとで日本と貿易をおこなった国を A～E から 1 つ選び、記号で答えなさい。

A 中国 I アメリカ U スペイン E イギリス

⑤ この権利を何というか、漢字 5 文字で答えなさい。また、この権利を回復して、日本が欧米と対等な立場に立ったのが今からちょうど百年前である。これにもっとも関係の深い人物を A～E から選び、記号で答えなさい。

A 岩倉具視 I 小村寿太郎 U 伊藤博文 E 陸奥宗光

(3) 年表中 C、D の時期に関係の深いものを A～E からそれぞれ 2 つずつ選び、記号で答えなさい。

A 松平定信 I 水野忠邦 U 田沼意次 E 目安箱

O 天保の大ききん K 公事方御定書

5 新しい世の中をつくろうとする動きについてのべた 1～4 の文を読んで、あとの問いに答えなさい。

1 593 年、聖徳太子 が摂政となり、蘇我氏と協力して天皇中心の国家をつくろうとした。太子は、① 中国 と対等の関係をむすぼうと、小野妹子らを派遣した。聖徳太子の死後、蘇我氏が政治を支配するようになると、645 年、中大兄皇子らが蘇我氏を倒し、天皇一族や豪族の土地と人民を国家のものとする【 A 】制など新しい政治のしくみを考えはじめた。中大兄皇子はのちに (あ) 天皇として即位した。

受験番号	
------	--

- 2 平清盛 は、武士としてはじめて太政大臣の地位につき、娘を天皇のきさきにして権力をふるった。しかし、しだいに(い)上皇らと対立し、1180年、伊豆に流されていた源頼朝が立ち上がると、各地の武士も平氏に反対する戦いをはじめた。1185年、平氏は②壇ノ浦の戦いでほろんだ。この間、源頼朝は多くの東国武士と主従関係を結んで関東での支配をかためた。源頼朝の家来となった武士を【B】とよぶ。また、守護・地頭をおくことを朝廷に認めさせた。
- 3 ③本能寺の変で織田信長を倒した家臣の(う)は、豊臣秀吉に倒された。豊臣秀吉は信長の後継者となって、国内の統一をすすめた。彼は、全国の田畑の面積をはかり、土地の良し悪しや生産高、耕作している農民の名前を調べ、記録させた。これを【C】といい、これによって平安時代からつづいた荘園制度はくずれ、新しい土地制度が生まれた。
- 4 1866年、④薩摩藩と長州藩は、坂本竜馬らの仲立ちによって薩長同盟を結び、協力しあうことを約束した。1867年、薩長両藩は武力による倒幕を計画したが、15代将軍(え)は朝廷に政権の返上を申し出た。これを【D】という。しかし、倒幕派は、先手を打って王政復古の号令を出して新しい天皇中心の政府をつくることを宣言した。

(1) 【A】～【D】にあてはまる語句を漢字で答えなさい。

(2) (あ)～(え)にあてはまる人物をア～キから選び、記号で答えなさい。

ア 聖武 イ 天智 ウ 後白河 エ 藤原道長 オ 徳川慶喜 カ 武田信玄 キ 明智光秀

(3) 1～4の の人物について、それぞれの説明文のうち、正しくないものを1つずつ選び、ア～エの記号で答えなさい。

- | | | | |
|---------------|-------------|--------------|--------------|
| 1 ア 東大寺を建てた | イ 推古天皇をたすけた | ウ 十七条の憲法を定めた | エ 冠位十二階を定めた |
| 2 ア 兵庫の港を整備した | イ 平治の乱で勝利した | ウ 保元の乱で勝利した | エ 平等院鳳凰堂を建てた |
| 3 ア 刀狩令を出した | イ 安土城をきずいた | ウ 朝鮮に2度出兵した | エ 大阪城をきずいた |
| 4 ア 海援隊をつくった | イ 京都で殺された | ウ 薩摩藩の出身である | エ 土佐藩の出身である |

(4) ①——の国名をア～エから選び、記号で答えなさい。

ア 隋 イ 唐 ウ 宋 エ 元

(5) ②——～④——は、現在のどの府県にあたりますか、ア～カから選び、記号で答えなさい。

ア 鹿児島県 イ 高知県 ウ 山口県 エ 大阪府 オ 京都府 カ 愛知県

6 右の表は、2010年の新聞記事(毎日新聞)から見出しをまとめたものです。

表中の①～⑩について、あとの問いに答えなさい。

1 ①について

(1) 2010年度予算案の一般会計総額は92兆2992億円です。歳出の増加にともない、過去最大となった44兆3030億円は、次のうちどれにあてはまるか、ア～エから選び、記号で答えなさい。

ア 公共事業費 イ 子ども手当
ウ 防衛関係費 エ 新規国債発行額

(2) 国の予算は次のうちどこで審議・議決されるか、ア～エから選び、記号で答えなさい。

ア 財務省 イ 公正取引委員会
ウ 日本銀行 エ 国会

(3) 子ども手当では、政党が選挙のときに具体的にかかげた約束にあったものです。この約束を何というか、ア～エから選び、記号で答えなさい。

ア スローガン イ マニフェスト ウ オンブズマン エ アセスメント

3月	10年度予算成立 _____	①
	足利事件の再審無罪 _____	②
6月	帰れる日を信じて _____	③
7月	民主大敗 ねじれ再び _____	④
	失業率悪化5.3% _____	⑤
8月	ビキニ環礁が世界遺産に _____	⑥
	核廃絶 世界が連帯 _____	⑦
	猛暑で野菜の値段が上がるのはなぜ? _____	⑧
	円高 首相「早期に対策」_____	⑨
	訪日客87万9000人 _____	⑩

受験番号

2 ②について

- (1) この事件のような無実の罪のことを何というか、ひらがな4文字で答えなさい。
 (2) この事件は、一・二審で無期懲役の判決を受け、最高裁判所で刑が確定しましたが、事実誤認を証明する新しい証拠が出たことで、一審の裁判所で再審が始まりました。何という種類の裁判所で再審がおこなわれましたか。
 (3) 通常、3回まで裁判を受けることができるしくみを何制といいますか。

3 ③について、エジプトにあるアフリカンスクールでは、戦争や災害のほか、人種・宗教・政治的意見の違いなどを理由に迫害され、他の国からやって来た人々の子どもが学んでいます。このような避難している人々のことを漢字2文字で答えなさい。

4 ④について、民主党は衆議院では多数派でも、今回の第22回参議院選挙で、野党より人数が少なくなりました。

- (1) 選挙結果を示す右の表に、ア・イの人数を入れなさい。
 (2) 2010年の次にある参議院選挙は、何年におこなわれますか。
 (3) 参議院選挙の被選挙権は、満何歳以上ですか。

政党名	公示前人数	改選数	当選数	参議院新勢力
自 民	71	38	51	ア
民 主	116	54	44	イ
∴	∴	∴	∴	∴

5 ⑤について、2010年6月の日本の完全失業者数は334万人でした。失業率は何に対する仕事がない人の割合か、ア～エから選び、記号で答えなさい。

ア 総人口 イ 働きたいと思っている人 ウ 働いている人 エ 満18歳以上の人口

6 ⑥について

- (1) 世界遺産の登録を決めた委員会は、国連教育科学文化機関(ユネスコ)の中にあります。この専門機関は、国連のどの主要機関に属しますか、ア～エから選び、記号で答えなさい。

ア 安全保障理事会 イ 国際司法裁判所 ウ 総会 エ 経済社会理事会

- (2) 東西の冷戦下、この一帯で核実験をくり返し、日本の漁船第五福竜丸や乗組員にも水爆の「死の灰」を浴びる被害を与えたのは、どこの国ですか。

7 ⑦について、次の記事を読んで、あとの問いに答えなさい。

ヒロシマは 日、人類史上初の原爆投下から 回目の原爆の日を迎えた。…市長は平和宣言で被爆国である日本の政府に対し、1 非核三原則の法制化や 2 「核の傘」からの離脱実現を求め、核廃絶の先頭に立つよう訴えた。国連トップとして初めて平和記念式に参列した…事務総長も「 の方々が生きている間に、核兵器のない世界を実現しよう」と呼びかけた。

- (1) ・ にあてはまる数字を答えなさい。
 (2) にあてはまる原爆の被害を受けた人々をあらわすことばを、漢字3文字で答えなさい。
 (3) 1—について、3つの原則を答えなさい。
 (4) 2—について、日本はどこの国の「核の傘」の下にあると言われるのですか。

8 ⑧について、キャベツやレタス、ジャガイモなどは、猛暑で生育が停滞し、出荷量が減りました。次の文を読んで、あとの問いに答えなさい。

商品ごとに商品が売り買いされる場が、市場です。需要量が 量を上回っている場合には価格が がり、逆の場合には価格が反対になります。両方の量を一致させる価格は 価格のなかでもとくに均衡価格といわれ、人々はこの価格で売買を続けます。

- (1) ～ にあてはまる語句を漢字で答えなさい。
 (2) — 部の語の読みかたをひらがなで答えなさい。

9 ⑨について、円高は、たとえば1ドル=90円が「A 95円」になったとき、「B 85円」になったときのどちらをいうか、A～Bの記号で答えなさい。また円高のとき、営業利益を得るのは「C 輸出産業」か「D 輸入産業」のどちらですか、C～Dの記号で答えなさい。

10 ⑩について、7月に日本を訪れた外国人旅行者の数が、円高の影響もあまり受けなくて、過去最高となりました。どの国からの人々が急増しましたか、ア～エから選び、記号で答えなさい。

ア アメリカ合衆国 イ インド ウ 中国 エ ブラジル

受験番号	
------	--

1

A	B	C	D	E
ヒマラヤ 山脈	タクラマカン 砂漠	ゴビ 砂漠	黄河	長江 (揚子江)

1点×5

2

ア	イ	ウ	エ
お	い	あ	う

1点×4

①	②	③
エ	ウ	ア

1点×3

経済特区

2点

2

A	B	C	D
ウ	ア	イ	エ

1点×4

太平洋ベルト

2点

自動車

2点

4

ウ	産業の空洞化
---	--------

2点

3

①	②	③	④
ウ	オ	ア	イ

1点×4

4

あ	い	う	え
コロンブス	(徳川) 家光	ワシントン	ハリス

2点×4

(2)

①	②	③	④	⑤
南蛮 貿易	宗教改革	1549 年	ア	権利
				人物
関	税	自	主	権
				イ

2点×6

(3)

C	D
エ	カ
イ	オ

1点×4 (順不同)

5

A	B	C	D
公地公民	御家人	(太閤) 検地	大政奉還

1点×4

(2)

あ	い	う	え
イ	ウ	キ	オ

1点×4

(3)

1	2	3	4
ア	エ	イ	ウ

1点×4

(4)

ア

1点

(5)

②	③	④
ウ	オ	ア

1点×3

6

(1)	(2)	(3)
エ	エ	イ

1点×3

(1)	(2)	(3)
えんざい	地方 裁判所	三審 制

1点×3

3

難民

2点

4

(1)	(2)	(3)
ア	イ	2013 年
84	106	30 歳以上

1点×4

5

イ

1点

6

(1)	(2)
エ	アメリカ

1点×2

7

(1)	(2)
ア	イ
6	65

1点×2

(1)	(2)
被爆者	

2点

7

(3)	(4)
核兵器を もたず ・ つくらず ・ もちこませず	アメリカ

1点×3

8

(1)	(2)
ア	イ
ウ	しじょう
供給	上 市場

1点×4

9

円高	産業
B	D

1点×2

10

ウ

1点