

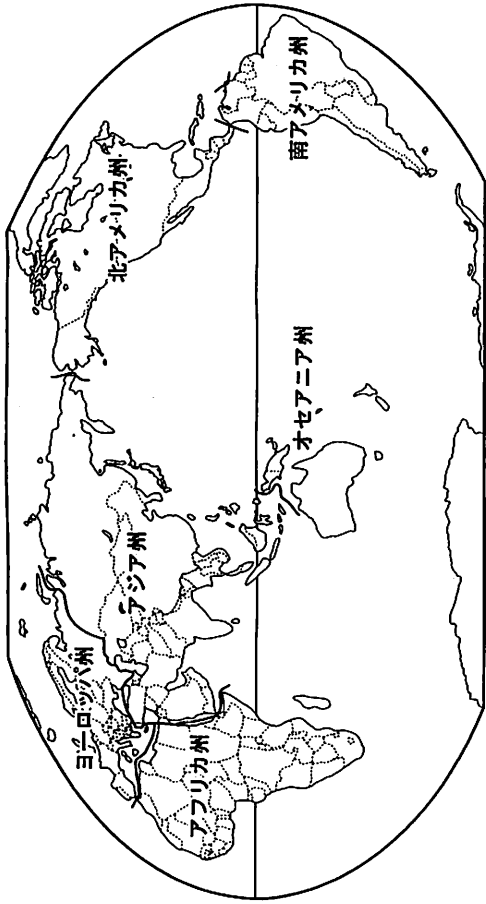
京都産業大学附属高等学校
平成23年度 入学試験問題

社 会

注意事項

1. 試験開始の合図があるまでこの問題を開いてはいけません。
2. 問題は14ページ、解答用紙は1枚です。
3. 試験開始の合図で、解答用紙と問題に受験番号、氏名、中学校名を
はつきり記入しなさい。
4. 解答時間は50分です。

1 次の地図を見て、世界の地理に関するあとの問いに答えなさい。



問1 ヨーロッパ州に関して、次の表はEUのあゆみを示しています。表中の空欄にあてはまる語句の組合せとして正しいものを次のア～エの中から1つ選び、記号で答えなさい。

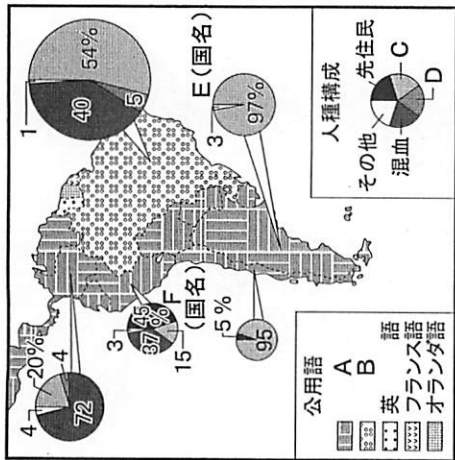
年	できごと
1948	[A] 三国関税同盟発足
1952	ECS発足
1958	ECC発足
"	EURATOM発足
1967	EC発足
1993	マーストリヒト条約により [C] (EU) が発足。
2002	共通通貨 [D] 流通開始。経済統合。

- | | | | |
|---|-------|------|----------|
| A | B | C | D |
| ア | バルト | フランス | ヨーロッパ共同体 |
| イ | バルト | イギリス | ヨーロッパ連合 |
| ウ | ベネルクス | フランス | ヨーロッパ連合 |
| エ | ベネルクス | イギリス | ヨーロッパ共同体 |
| | | | マルク |
| | | | ユーロ |
| | | | ユーロ |
| | | | マルク |

受験番号	氏名	中学校名	中学校
------	----	------	-----



問2 次の図は南アメリカ州における人種構成と公用語の関係が表現されています。図中のA～Fにあてはまる語句の組合せとして正しいものを次のア～エの中から1つ選び、記号で答えなさい。



(2007年) (『世界年鑑 2008』ほかより)


- | A | B | C | D | E | F |
|---|-------|-------|----|--------|-------|
| ア | スペイン | ポルトガル | 白人 | アルゼンチン | ペルー |
| イ | スペイン | ポルトガル | 黒人 | アルゼンチン | エクアドル |
| ウ | ポルトガル | スペイン | 白人 | パラグアイ | ペルー |
| エ | ポルトガル | スペイン | 黒人 | パラグアイ | エクアドル |

問3 次の文章は、アフリカ州に関する説明文です。文中の空欄にあてはまる語句を答えなさい。

アフリカ州は(1)砂漠により、大きく北アフリカと南アフリカの二つに分けることができる。北アフリカには(2)教を信仰している人々が多く暮らしており、文化的には西アジアや南ヨーロッパ地域とのつながりも深い。南アフリカの南端には、アフリカ州で最も経済が発達した国である(3)がある。この国の代表的な港湾都市である(4)は、高層ビルが林立し、世界各地と定期航路で結ばれていることで知られている。

問4 次のA～Cの写真は、アジア州にある3つの国の宗教に関するものです。それぞれの国に関するものですか。その組合せとして正しいものを次のア～エの中から1つ選び、記号で答えなさい。また、A～Cの写真はそれぞれ何という宗教に関するものですか。その組合せとして正しいものを次のオ～クの中から1つ選び、記号で答えなさい。

写真A



写真B



写真C



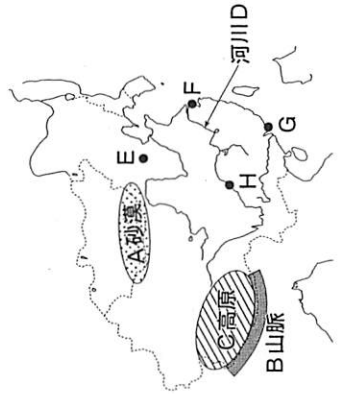
<国>

- | Aの国 | Bの国 | Cの国 |
|-----|---------|-------|
| ア | ネパール | インド |
| イ | ネパール | パキスタン |
| ウ | サウジアラビア | パキスタン |
| エ | サウジアラビア | インド |

<宗教>

- | Aの宗教 | Bの宗教 | Cの宗教 |
|------|--------|--------|
| オ | ヒンドゥー教 | 仏教 |
| カ | イスラム教 | 仏教 |
| キ | キリスト教 | イスラム教 |
| ク | ユダヤ教 | ヒンドゥー教 |

問5 次の図は、アジア州に位置する中国周辺を示しています。図中のA～Dの地形に関する名称の組合せとして正しいものを次のア～エの中から1つ選び、記号で答えなさい。また、E～Hの都市名の組合せとして正しいものを次のオ～クの中から1つ選び、記号で答えなさい。



<地形に関する名称>

- | | | | |
|----------|-------|------|----|
| A | B | C | D |
| ア ゴビ | テンシヤン | モンゴル | 黄河 |
| イ ゴビ | ヒマラヤ | チベット | 長江 |
| ウ タクラマカン | テンシヤン | チベット | 長江 |
| エ タクラマカン | ヒマラヤ | モンゴル | 黄河 |

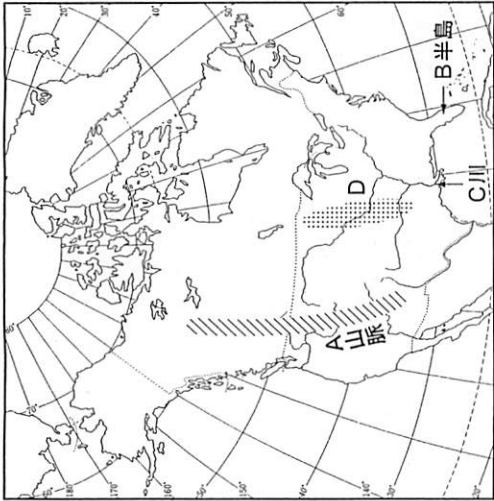
<都市名>

- | | | | |
|------|----|----|----|
| E | F | G | H |
| オ 南京 | 上海 | 西安 | 鞍山 |
| カ 南京 | 天津 | 西安 | 浦東 |
| キ 北京 | 天津 | 香港 | 撫順 |
| ク 北京 | 上海 | 香港 | 重慶 |

問6 北アメリカ州に関する説明として正しいものを次のア～エの中から1つ選び、記号で答えなさい。

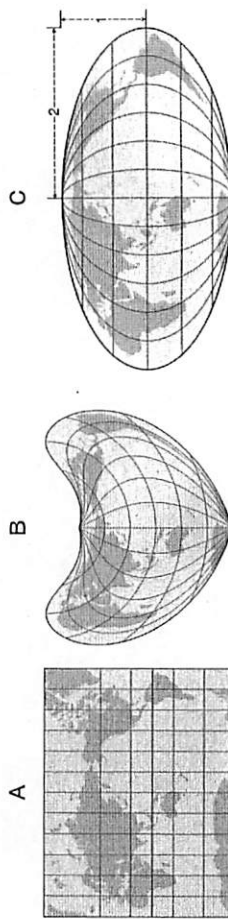
- ア 主としてヨーロッパ系の白人やネイティブアメリカンの人々が暮らしており、ヒスパニックの人たはごく少数しかない。
- イ アメリカ合衆国ではアグリビジネスが発達しており、穀物メジャーが穀物の国際貿易で大きな影響力を持つ。
- ウ メキシコ湾岸では石炭や鉄鉱石が古くから産出するが、原油の生産はほとんど見うけられない。
- エ グレートプレーンズではセンターピボットの方式を用いて大きな河川から水をひき、大規模なかんがい農業をおこなっている。

問7 次の図は北アメリカ州の地形を示しています。図中のA～Dにあてはまるそれぞれの名称を答えなさい。



(注) Dはこの付近の草原の名称。

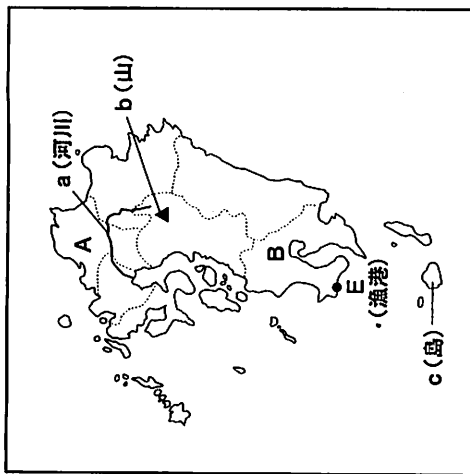
問8 次の世界地図A～Cの図法名の組合せとして正しいものをア～エの中から1つ選び、記号で答えなさい。



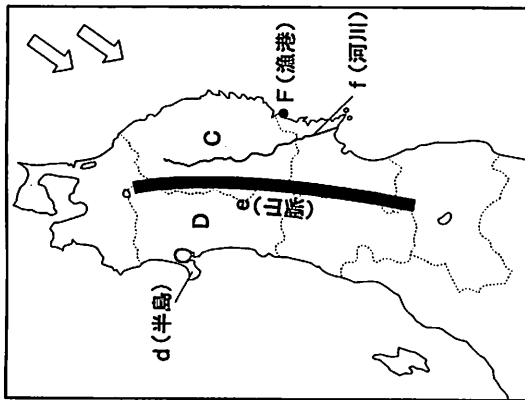
- | | | |
|----------|---------|---------|
| A | B | C |
| アメルカトル図法 | ボンヌ図法 | メルワイデ図法 |
| イメルカトル図法 | メルワイデ図法 | ボンヌ図法 |
| ウ正距方位図法 | メルワイデ図法 | ボンヌ図法 |
| エ正距方位図法 | ボンヌ図法 | メルワイデ図法 |

2 地図Ⅰ・Ⅱを見て、日本の地理に関するあとの問いに答えなさい。

<地図Ⅰ>九州地方



<地図Ⅱ>東北地方



問1 地図Ⅰ中に示したa～cにあてはまる名称の組合せとして正しいものを次のア～エの中から1つ選び、記号で答えなさい。

- | | | |
|-----|-----|-----|
| a | b | c |
| 筑後川 | 阿蘇山 | 屋久島 |
| 仁淀川 | 阿蘇山 | 種子島 |
| 筑後川 | 雲仙岳 | 種子島 |
| 仁淀川 | 雲仙岳 | 屋久島 |

問2 地図Ⅰ中のA県に関する説明として正しいものを次のア～エの中から1つ選び、記号で答えなさい。

ア 九州地方の政治・経済・文化の中心地であり、県内には九州地方唯一の政令指定都市で、九州の中核都市ともいえる北九州市がある。

イ 博多人形や久留米餅などの伝統産業が盛んである。県内に広がる筑紫平野では農業が盛んで、近年はいちごの栽培が広がっている。

ウ 有田焼や唐津焼などの伝統産業が盛んである。県内の有明海沿岸地域では海苔の養殖が盛んにおこなわれている。

エ かつて村おこしの一村一品運動が展開されたことで知られている。県内には別府や湯布院などの観光地があり、現在では観光業が主要産業となっている。

問3 地図Ⅰ中のB県に関する①～③の問いに答えなさい。

① 大隅半島とつながっている、現在でも噴火を繰り返している火山を何といますか。

② この県内に広がっている火山灰の厚く積もった台地を何といますか。

③ 次の地形図は、この県内のある地域を示している。地形図中に○で囲んだ施設は何を示していますか。漢字6字で答えなさい。

<地形図>



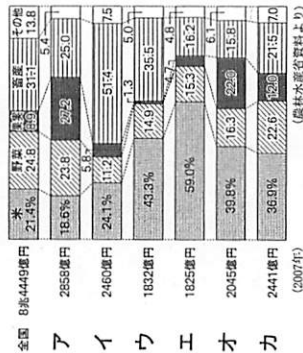
問4 地図Ⅱ中に示したd～fにあてはまる名称の組合せとして正しいものを次のア～エの中から1つ選び、記号で答えなさい。

d e f

- ア 男鹿半島 出羽山地 北上川
- イ 牡鹿半島 出羽山地 阿賀野川
- ウ 牡鹿半島 奥羽山脈 阿賀野川
- エ 男鹿半島 奥羽山脈 北上川

問5 次のグラフは東北地方各県の農業生産を示しています。地図Ⅱ中のC県・D県にあてはまるものどれですか。次のア～カの中から正しいものを選び、それぞれ記号で答えなさい。

＜東北地方の農業生産＞



問6 地図Ⅱ中に示した矢印は、初夏に東北地方の太平洋側に吹く風を示しています。名称を答えなさい。また、この風は東北地方の農業にどのような被害を与えますか。漢字2字で答えなさい。

問7 地図Ⅰ・地図Ⅱ中に示した漁港E・Fの名称を語群より選び、答えなさい。また、その説明として正しいものを次のア～エの中から1つ選び、それぞれ記号で答えなさい。

〔語群〕 根室 大船渡 枕崎 室戸 境 水見 小浜 焼津

- ア かつお漁の速洋漁業の基地で、かつお節の生産が盛んな漁港である。
- イ 付近に缶詰工場がたくさん立地する、ずわいがに(越前がに)漁の盛んな漁港である。
- ウ まぐろ漁の速洋漁業の基地として知られ、ほたて貝の養殖も盛んな漁港である。
- エ 沖合は好漁場として知られるが、近年は養殖漁業や栽培漁業が盛んな漁港である。

3 次のA～Cの文章を読んで、あとの問いに答えなさい。

A 鎌倉時代には、将軍が家来を御家人としてその土地の所有権を認め、その代わりに幕府への忠誠を義務づけた。将軍と御家人とは、(1)と(2)との関係で結ばれ、御家人は幕府を支える重要な柱となった。鎌倉には中央機関として、政治を受け持つ(3)、御家人の統制や軍事を受け持つ(4)、訴えや裁判を受け持つ(5)などの機関がおかれた。一方、地方には各国に(6)を、公領や荘園に(7)をおいた。(6)はその国の軍事・警察を、(7)は荘園の年貢取り立てや警察の仕事をおこなった。源頼朝の死後、幕府の実権は妻の北条政子とその父である時政の手に移った。北条氏は代々(8)として①幕府の実権をにぎった。

B 後醍醐天皇につきしたがって鎌倉幕府を滅ぼした②足利尊氏が天皇にそむき京都に幕府を開くと、後醍醐天皇は京都を逃れて南朝を立て、以後約60年間に、③南北朝の争乱の時代となった。この争乱の間に、(6)は力を強めて(6)大名に成長していった。1392年に、3代将軍④足利義満は南北朝の統一をはかった。さらに義満は、鎌倉時代以来の武家と公家の二つの政府が並び立つ状態から、幕府に政治の権限を集中させることに成功した。室町幕府では有力(6)大名が(9)の役職について将軍を助けて政治をおこなった。

C 1603年、⑤徳川家康が征夷大将軍に任命されて江戸幕府を開いた。幕府の組織としては、将軍のもとに老中・若年寄・寺社奉行・京都所司代などがおかれ、これらの役職には関ヶ原の戦い以前から徳川家の家臣であった(10)大名がついた。老中の上には(11)がおかれることもあった。また、老中のもとには大目付や町奉行・勘定奉行などがおかれ、旗本がこれらの要職についていた。権力の集中を防ぐため、月番制や合議制がとられた。幕府は3代将軍徳川家光のころまでに、⑥将軍と大名が主従関係を結び、全国を幕領(天領)と大名領にわけて支配する体制をつくりあげた。

問1 文中の空欄(1)～(11)にあてはまる適切な語句を入れなさい。

問2 下線部①について、承久の乱後、北条泰時が権力を握り、武家社会のならわしをまとめました。これを何といいますか。

問3 下線部②について、彼は幕府の再興を宣言し、武家政治の方針を示しました。これを何といいますか。

問4 下線部③について、南朝はどこにおかれましたか。

問5 下線部④について、彼が京都の北山に建てた山荘を何といいますか。

問6 下線部⑤について、彼は近隣の国々との外交に取り組みましたが、同時に大名や大商人に海外渡航を許可し、貿易をすすめました。この貿易を何といいますか。

問7 下線部⑥について、この支配体制を何といいますか。

