

京都産業大学附属中学校 平成23年度 入学試験問題

社会A

注意事項

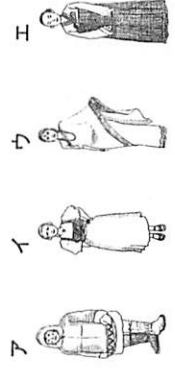
1. 試験開始の合図があるまでこの問題を開いてはいけません。
2. 問題は9ページ、解答用紙は1枚です。
3. 試験開始の合図で、解答用紙と問題に受験番号、氏名、小学校名をはっきり記入しなさい。
4. 解答時間は50分です。

受験番号	氏名	小学校名	小学校
------	----	------	-----



1 次のA～Cの文章は、世界のある国について説明したものです。それぞれの文章を読んで、あとの問いに答えなさい。

- A：この国の主食は日本と同じく米で、ごはんこむぎと汁物しじゆのほか、その日のおかずにはナムルやキムチも食べられます。民族衣装はハンボックといい、女性は①チマ・チョゴリ、男性はバジ・チョゴリといいます。文字はハングルといい、15世紀のなかばに伝わりました。2002年には、日本と共同でサッカーのワールドカップを開催しました。
- B：この国は、日本の約25倍の面積がある広い国で、言葉や習慣の異なる56の民族がくららしています。人口も13億人を超え、世界第一位です。経済の成長がいちじるしく、昨年は、上海で国際博覧会（万国博覧会）がひらかれました。日本とは古くから交流があります。
- C：この国にはさまざまな国から移住してきた人たちがくららしています。食事も世界各地の料理を楽しむことができ、逆に世界中で親しまれてきたハンバーガーなどはこの国でうまれました。世界最大の工業国であり、農業国でもあります。②日本との貿易もさかんです。

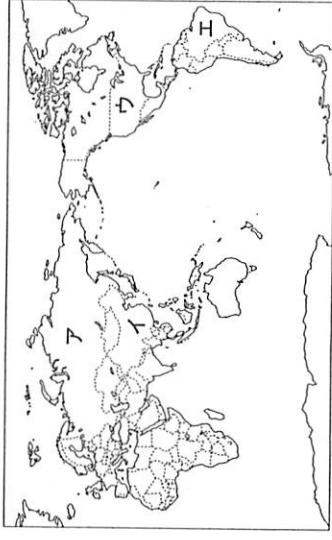


問1 A～Cの国の名前を正式名称で答えなさい。


問2 下線部①「チマ・チョゴリ」として正しいものを次のア～エの中から1つ選び、記号で答えなさい。

問3 下線部②「この国（Bの国）」

の場所として正しいものを次のア～エの中から1つ選び、記号で答えなさい。



＜Cの国からの輸入＞ ＜Cの国への輸出＞



問4 下線部③「日本との貿易」について、次のグラフの空欄にあてはまる適切な語句を答えなさい。

日本とCの国との貿易（2003年通商白書）

2 次の図は、熊本の地形図です。地形図を見て、あとの問いに答えなさい。



問1 この地形図の縮尺として正しいものを次のア～エの中から1つ選び、記号で答えなさい。

- ア 1万分の1
- イ 2万5000分の1
- ウ 5万分の1
- エ 20万分の1

問2 この地形図にある「かみくまもと」駅と「熊本城跡」との距離は、約4cmあります。実際の距離は、約何kmありますか。

問3 地形図中に○印を付けた地図記号①～④の意味の組合せとして正しいものを次のア～エの中から1つ選び、記号で答えなさい。

- | | | | | |
|---|-----|-----|-----|-------|
| ア | ① | ② | ③ | ④ |
| ア | 発電所 | 警察署 | 裁判所 | 町・村役場 |
| イ | 発電所 | 税務署 | 官公署 | 市役所 |
| ウ | 工場 | 警察署 | 官公署 | 町・村役場 |
| エ | 工場 | 税務署 | 裁判所 | 市役所 |

問4 この地形図から読み取ることができる内容として正しくないものを次のア～エの中から1つ選び、記号で答えなさい。

- ア 「熊本城跡」から見たときに、「加藤清正像」は北西の方向にある。
- イ 「熊本城跡」の東側の堀には、坪井川が活用されている。
- ウ 「熊本城跡」の南西には、神社が集中して建てられている。
- エ 「熊本城跡」の西に病院や学校がある。

問5 熊本県の場所として正しいものを次のア～エの中から1つ選び、記号で答えなさい。



