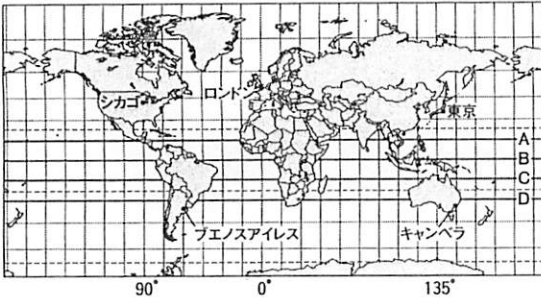
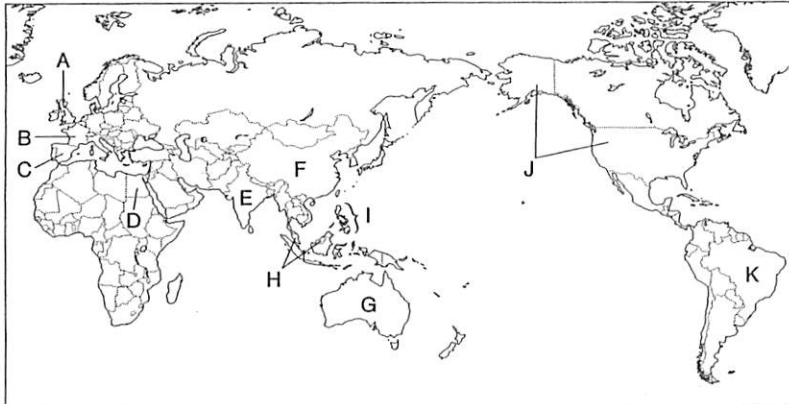


1 次の図を見て、下の各問いに答えなさい。



- 問1. A～Dのうち、赤道を選び記号で答えなさい。
 問2. 図中の都市のうち、1日が一番早く始まるのはどの都市ですか。
 問3. 日本を4月7日正午に出発した航空機は、10時間かけてシカゴに到着しました。この航空機がシカゴに着いたのは何月何日の午前または午後の何時ですか。

2 次の図を見て、下の各問いに答えなさい。

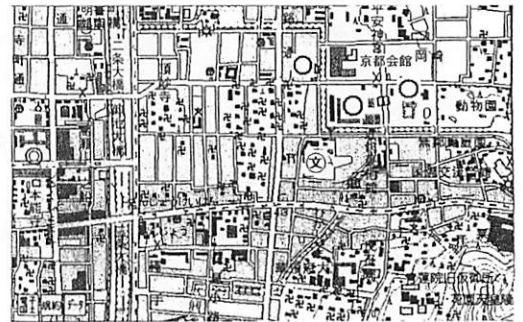


- 問1. 次の1～4の文にあてはまる国を图中からそれぞれ1つずつ選び、記号で答えなさい。
 1. 16世紀のスペインの皇太子フェリペの名前から名付けられた国。
 2. 漢字1文字であらわすと「豪」とあらわされる国。
 3. すずの生産や天然ゴムのプランテーションがさかんであったが、近年ルックイーストという経済政策をとり、外国企業の誘致を積極的に行ったことで、工業国としてめざましく発展している国。
 4. EU加盟国の中で最大の面積を持ち、年間の観光客数が世界で最も多い。小麦やチーズ、ワインなどをたくさん生産し輸出する世界的な農業国。

問2. 图中Dの国の国境は何を利用した国境線ですか。次のア～エから1つ選び、記号で答えなさい。
 ア. 山脈と川 イ. 湖 ウ. 経線と緯線 エ. 民族と民族の境目

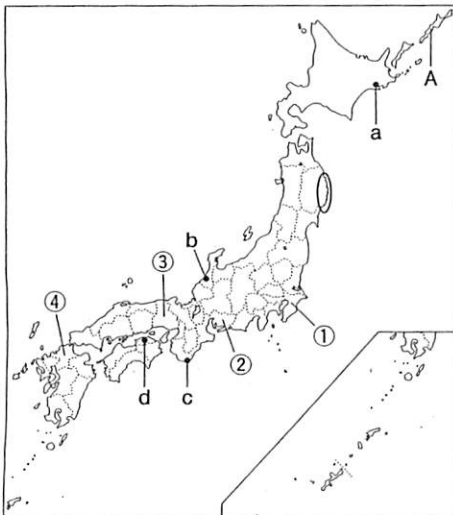
3 右の地形図を見て、下の各問いに答えなさい。

- 問1. 図中の⊗から見て京都市役所はどの方向にありますか。八方位で答えなさい。
 問2. 図中の○の所にあてはまる地図記号を、次のア～エから1つ選び記号で答えなさい。
 ア. ⊗ イ. 凸 ウ. ∟ エ. 血
 問3. 二条大橋から京都会館まで、地形図上の直線距離で約4cmはなれています。実際の距離を答えなさい。ただし、単位はkmで答えなさい。

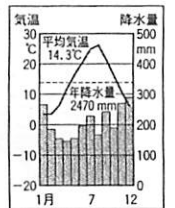


(1:25000)

4 次の図を見て、下の各問いに答えなさい。



- 問1. 右の降水量と気温のグラフはどの都市のものでしょうか。あてはまる都市を图中a～dから1つ選び、記号で答えなさい。
 問2. ○で囲まれた地域で見られる漁業の特色として最もあてはまるものを次のア～エから1つ選び、記号で答えなさい。
 ア. 天然の良港に恵まれ、沖合漁業や遠洋漁業の拠点として発達したが、海面漁業が衰退した今、波の静かな湾内で、かきやわかめの養殖漁業が盛んに行われている。
 イ. 遠洋漁業の拠点となる港があり、まぐろやかつおの水揚げ量が多く、日本一の水揚げ量をほこる。
 ウ. 遠浅の海岸を利用して地引き網による伝統的な漁業が行われている。
 エ. 波が静かなことを利用して、古くから真珠の養殖が盛んに行われてきた。
 問3. 次の文にあてはまる都道府県を①～④から選び、記号で答えなさい。
 全国一の工業製品出荷額を有する都道府県で、中でも機械の生産額の割合は全体の60%を超えている。農業では冬キャベツやメロンの生産額が高く、大都市へ向けて出荷されている。
 問4. Aはわが国最北端の島です。この島名を漢字で答えなさい。



(理科年表平成19年)

5 弥生・奈良・平安・鎌倉・室町・安土桃山・江戸時代のいずれかに関する次のA～Gの文を読んで、下の各問いに答えなさい。

- A. 農民たちは、村ごとに惣とよばれる自治的な組織をつくり、かんがい水路の建設や管理、林野の利用や管理などについて村のおきてを定めた。村の自治が進むと荘園領主や守護大名への抵抗を強めた。
- B. 藤原氏は、朝廷の高い地位をほとんど独占し、国司からはたくさんの贈り物を送られ、多くの荘園をもった。
- C. 朝廷は開墾を奨励し、^①法を定めて、新しく開墾した土地であれば、いつまでも私有してよいことにした。
- D. ^②豊臣秀吉は、ものさしやますを統一し、田畑の広さや収穫高を調べ、耕地ごとに農民を登録した。そして、その農民に生産高に応じた年貢を納めさせた。
- E. 幕府や藩は、用水路をつくったり、干潟や沼地を干拓するなど新田開発に力を注ぎ、年貢を増やすことに努めた。
- F. 大陸から稲作が伝えられると、人々は、水田の近くにむらをつくって住み、たて穴住居の近くに高床の倉庫をつくって、収穫した稲の穂をたくわえた。
- G. 武士は、領地を一族の間で分割相続した。また、女性も領地をつぐ権利を持ち、女性の地頭も存在した。

- 問1. Aの時代に見られない農業技術を次のア～エから1つ選び、記号で答えなさい。
ア. 牛馬を使った農耕 イ. 水車によるかんがい ウ. 二毛作による耕作 エ. 千歯こきによる脱穀
- 問2. Bの時代に建てられたものを次のア～エから1つ選び、記号で答えなさい。
ア. 妙喜庵茶室 イ. 中尊寺金色堂 ウ. 姫路城 エ. 慈照寺東求堂
- 問3. Cの下線部①について、この法の名前を答えなさい。
- 問4. Dの下線部②が、農民や寺院から武器を取り上げた政策を何といいますか。漢字2文字で答えなさい。
- 問5. Eの時代に、諸藩が、全国から集めた年貢米や商品作物を選びこむために、大阪などにおいていた施設を次のア～エから1つ選び、記号で答えなさい。
ア. 台場 イ. 蔵屋敷 ウ. 唐人屋敷 エ. 出島
- 問6. Eの時代におこった一揆を次のア～エから1つ選び、記号で答えなさい。
ア. 山城国一揆 イ. 正長の土一揆 ウ. 島原・天草一揆 エ. 加賀一向一揆
- 問7. Fの時代に使用されていたものとして正しくないものを次のア～エから1つ選び、記号で答えなさい。
ア. 銅鐸 イ. 富本銭 ウ. 銅劍 エ. 石包丁
- 問8. Gの時代に領地などの争いに関する裁判を公平にさばくためにつくられた法律を次のア～エから1つ選び、記号で答えなさい。
ア. 徳政令 イ. 楽市楽座令 ウ. 公事方御定書 エ. 御成敗式目
- 問9. A～Gを時代の古い順に並べかえた時、2番目と5番目にあたるものを、それぞれ記号で答えなさい。

6 次の略年表を見て、下の各問いに答えなさい。

年	できごと
1872	学制が発布される……………①
1886	学校令が制定され、義務教育が4年と定められる…②
1890	③が出される
1907	義務教育が6年に延長される……………④
1928	ラジオが学校に設置される……………⑤
1941	尋常高等小学校が国民学校になる……………⑥
1947	教育基本法が制定される……………⑦

- 問1. ①以前に発布されたものを次のア～エから1つ選び、記号で答えなさい。
ア. 大日本帝国憲法 イ. 徴兵令
ウ. 地租改正条例 エ. 五箇条の御誓文
- 問2. ①と②の間でおこったできごととして正しくないものを次のア～エから1つ選び、記号で答えなさい。
ア. 江華島事件 イ. 西南戦争
ウ. 三国干渉 エ. 琉球処分
- 問3. ②以降に設立された教育機関とその設立者の組み合わせとして、正しいものを次のア～エから1つ選び、記号で答えなさい。
ア. 松下村塾——吉田松陰 イ. 女子英学塾——津田梅子 ウ. 東京大学——福沢諭吉 エ. 昌平坂学問所——松平定信
- 問4. ③には、忠君愛国の精神を育てるために出された文書の名が入ります。あてはまるものを次のア～エから1つ選び、記号で答えなさい。
ア. 教育勅語 イ. 学問のすすめ ウ. 五榜の揭示 エ. 民撰議院設立建白書
- 問5. ②と④の間に結ばれた国際条約として、正しいものを次のア～エから1つ選び、記号で答えなさい。
ア. 日米修好通商条約 イ. 日米安全保障条約 ウ. 日英通商航海条約 エ. 日中平和友好条約
- 問6. ④と⑤の間に高まった社会的な運動として正しいものを次のア～エから1つ選び、記号で答えなさい。
ア. 護憲運動 イ. 原水爆禁止運動 ウ. 尊王攘夷運動 エ. 自由民権運動
- 問7. ⑤のころにラジオとならんで普及した大衆娯楽として正しくないものを次のア～エから1つ選び、記号で答えなさい。
ア. 映画 イ. 学生野球 ウ. テレビ エ. 歌謡曲
- 問8. ⑥～⑦の間の状況として正しくないものを次のア～エから1つ選び、記号で答えなさい。
ア. 安保闘争 イ. 集団疎開 ウ. 学徒出陣 エ. 勤労働員
- 問9. ⑦以降のできごととして正しいものを次のア～カから2つ選び、記号で答えなさい。
ア. 中華人民共和国が成立する イ. 国際連合が成立する ウ. 関東大震災がおこる
エ. 大政翼賛会が成立する オ. 警察予備隊が発足する カ. 国家総動員法が制定される

7 次文を読んで、下の各問いに答えなさい。

社会で生活するわたしたちの希望をみだしながら、社会の秩序を守り、安心して生活を維持していくはたらきを政治といいます。政治にはルールに反する行為をとりしめし、利害を調整し、命令し、強制する力が必要です。この力を(1)といいます。

(1)は、ヨーロッパの絶対王政のころのように、権力者の思いのままに使われることがありました。そこで、^①思想家たちは、国家が人々の合意によって作られたものであり、(1)は人が生まれながらにして持つ権利を侵害してはならないと考え、(1)も(2)に従わなければならないと主張しました。

その後、^②こうした考えはアメリカやフランスで文書の形ではっきりと打ち出されていきました。

問1.(1)・(2)にあてはまる語句を次のア～オから1つずつ選び、それぞれ記号で答えなさい。

ア. 国王 イ. 法 ウ. 人権 エ. 自由 オ. 政治権力

問2. 下線部①について、次のア・イの人物名をそれぞれ答えなさい。

ア. 『社会契約論』を著して、人民主権を主張したフランスの思想家。

イ. 『法の精神』を著して、権力分立を主張したフランスの思想家。

問3. 下線部②について、次の文は何という宣言の一部ですか。

われわれは、自明の真理として、すべての人は平等につくられ、造物主によって、一定のうばいがたい天賦の権利を付与され、そのなかに生命・自由および幸福追求のふくまれることを信ずる。また、これらの権利を確保するために人類のあいだに政府が組織されたこと、そしてその正当な権力は、被治者の同意に由来するものであることを信ずる。(一部要約)

8 次のア～エの文を読み、下の各問いに答えなさい。

ア. インフレーションの危険があるときには、政府は増税をし、日本銀行は公定歩合を引き上げ、景気を抑制しようとする。

イ. インフレーションの危険があるときには、政府は増税をし、日本銀行は銀行に国債を売却して、景気を抑制しようとする。

ウ. 不況になると、政府は公共投資を増やし、日本銀行は国債を銀行に売却し、景気を刺激しようとする。

エ. 不況になると、政府は公共投資を増やし、日本銀行は銀行の保有している国債を買い上げ、景気を刺激しようとする。

問1. ア～エのうち、正しくないものを1つ選び、記号で答えなさい。

問2. 行きすぎた経済の動きをおさえ、安定した経済成長を実現するための^①政府のはたらき、^②日本銀行のはたらきをそれぞれ何といいますか。

9 高度経済成長期の日本経済について述べた文として正しいものを次のア～エから1つ選び、記号で答えなさい。

ア. 家庭用電気製品が普及し、消費生活は向上したが、他方で四大公害など大規模公害も発生した。

イ. ものよりも情報・知識・文化・サービスなどへの需要が高まった。

ウ. 市場経済が世界に広がり、貿易がいつそうさかんにになり、資金・人・技術・情報などの国境を越えた移動がさかになった。

エ. 急激な円高で輸出が不利になり、円高の影響の少ない外国に生産拠点を移す企業が増えた。

10 少数の大企業によって市場が支配されている場合についてのア～エの文を読んで、下の各問いに答えなさい。

ア. 価格や品質より、デザインなどの面で競争することがふつうになる。

イ. 価格競争が弱まり、少数の企業が足並みをそろえて価格や生産量を決めることになりがちである。

ウ. 供給が過剰になったり、生産費が安くなったりすると、直ちに価格に反映されやすい。

エ. 競争者が新しく生産を始めることが妨害されやすい。

問1. ア～エのうち、正しくないものを1つ選び、記号で答えなさい。

問2. 少数の大企業によって市場が支配され、その結果、消費者が不利益をこうむることを防ぐために定められた法律を答えなさい。

11 為替相場の影響による経済現象について述べたものとして正しくないものを、次のア～エから1つ選び、記号で答えなさい。

ア. 1ドル100円が80円になると、外国で売られている日本製の自動車は、価格が高くなるので、売れにくくなる。

イ. 1ドル100円が80円になると、日本では外国産のトウモロコシを安く買えるので、消費者は得をする。

ウ. 1ドル100円が120円になると、外国で売られている日本製のカメラは、価格が安くなるので、売れやすくなる。

エ. 1ドル100円が120円になると、外国製のブランド品の価格が下がるので、消費者は得をする。

12 次の文を読み、下の各問いに答えなさい。

今日、世界各地で、経済、環境、安全保障などで、同じ問題を抱えている国家あるいは特定の地域でまとまりをつくって、そこで、協調や協力を強めようとする動きが顕著になってきています。このような動きは、地域主義とよばれています。ヨーロッパでは、現在、EUによって、各国はたがいの結びつきを強めています。その他、世界には、^①アジア太平洋経済協力会議、南米南部共同市場など、多くの地域統合が見られます。

1990年代になって、地域的な自由貿易協定を結ぶ動きが、世界各地で広がりました。二国間や多国間で結ばれる自由貿易協定は加盟国間で関税などをなくして貿易を活発にしようとするものです。2007年現在、190件をこえる自由貿易協定が結ばれています。アジアでも自由貿易協定を結ぶ動きが広がっており、^②ASEAN加盟10カ国が貿易自由化を進めることで、域内経済の活性化をはかろうとしています。

問1. 下線部①の英語の略称を次のア～エから1つ選び、記号で答えなさい。

ア. MERCOSUR イ. OPEC ウ. NIES エ. APEC

問2. 下線部②の英語の略称をアルファベット3文字で答えなさい。

問3. 下線部③を日本語で答えなさい。

社会

入学試験問題答案用紙

1	問 1		問 2		問 3	__月__日 午 __ __ 時
---	--------	--	--------	--	--------	------------------

2	問 1	1	2	3	4	問 2	
---	--------	---	---	---	---	--------	--

3	問 1		問 2		問 3		km
---	--------	--	--------	--	--------	--	----

4	問 1		問 2		問 3		問 4	
---	--------	--	--------	--	--------	--	--------	--

5	問 1		問 2		問 3		問 4			
	問 5		問 6		問 7		問 8		問 9	2 番目

6	問 1		問 2		問 3		問 4		問 5	
	問 6		問 7		問 8		問 9			

7	問 1	(1)	(2)	問 2	ア	イ
	問 3					

8	問 1		問 2	①	②

9	
---	--

10	問 1		問 2	
----	--------	--	--------	--

11	
----	--

12	問 1		問 2		問 3	
----	--------	--	--------	--	--------	--

受験番号		氏名		得点	
------	--	----	--	----	--

社会

入学試験問題解答

1	問 1	B	問 2	キャンベラ	問 3	4月7日午前7時
---	--------	---	--------	-------	--------	----------

2	問 1	1 I	2 G	3 H	4 B	問 2	ウ
---	--------	--------	--------	--------	--------	--------	---

3	問 1	西	問 2	エ	問 3	1 km
---	--------	---	--------	---	--------	------

4	問 1	b	問 2	ア	問 3	②	問 4	択捉島
---	--------	---	--------	---	--------	---	--------	-----

5	問 1	エ	問 2	イ	問 3	墾田永年私財法		問 4	刀狩	
	問 5	イ	問 6	ウ	問 7	イ	問 8	エ	問 9	2番目 C

6	問 1	エ	問 2	ウ	問 3	イ	問 4	ア	問 5	ウ
	問 6	ア	問 7	ウ	問 8	ア	問 9	ア	オ (順不同)	

7	問 1	(1) オ	(2) イ	問 2	ア ルソー	イ モンテスキュー
	問 3	アメリカ独立宣言				

8	問 1	エ	問 2	① 財政政策	② 金融政策
---	--------	---	--------	-----------	-----------

9	ア	10	問 1	ウ	問 2	独占禁止法
---	---	----	--------	---	--------	-------

11	エ
----	---

12	問 1	エ	問 2	FTA	問 3	東南アジア諸国連合
----	--------	---	--------	-----	--------	-----------

全問各2点

受験番号		氏名		得点	
------	--	----	--	----	--