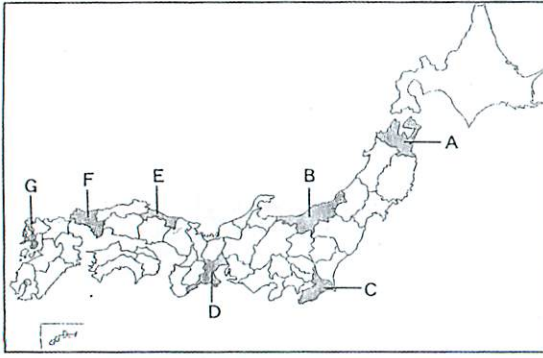


社 会

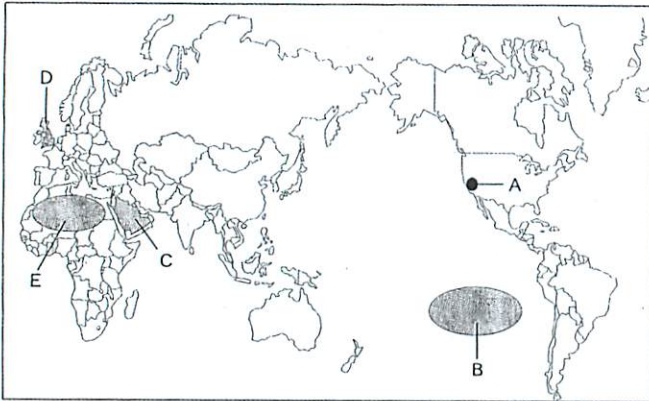
I 次の問1～問7の文中の下線部①～③は、すべて正しいか、あるいは誤っているものが1つある。すべて正しければ④に、誤っているものがあればその番号をマークせよ。なお、問題文中のA～Gの県は、下の略地図上のA～Gの県をあらわす。



- 問1 ①ミカンの産地として知られているAの県は、隣の県と接する地域に②白山山地があり、また県の中央部には③十和田湖がある。
- 問2 日本で最長の河川である①信濃川が流れているBの県は、②北陸工業地域があり、③サトウキビの産地としても知られている。
- 問3 ①京葉工業団地の一角をなすCの県は、国内でいちばん離発着の多い②羽田国際空港があり、③アクアラインとよばれる海底トンネルで、対岸の県と結ばれている。
- 問4 県の中部に①伊勢神宮があるDの県は、四日市では②石油化学工業、英虞湾では③真珠の養殖が行われている。
- 問5 日本最大の①砂丘をもつEの県は、②梨や③らっきょうの栽培が盛んである。
- 問6 ①米の生産が日本一であるFの県は、②カルスト台地とよばれる特色のある地形や、③フグの養殖でも知られている。
- 問7 ①造船業が盛んなGの県は、安土・桃山時代に②キリシタン大名がいたことや、江戸時代には③アメリカ人を住ませた出島があることも知られている。

- 1 -


II 次の略地図を見て、問1～問5に答えよ。



- 問1 Aの都市へ旅行に行こうとして、飛行機の時刻表を調べていたら、往路と復路で所要時間がちがうことに気づいた。このちがいの説明として正しいものを、下の①～④から1つ選べ。
- ① 偏西風の影響で、往路の方が復路より時間がかかる。
 - ② 偏西風の影響で、復路の方が往路より時間がかかる。
 - ③ 貿易風の影響で、往路の方が復路より時間がかかる。
 - ④ 貿易風の影響で、復路の方が往路より時間がかかる。
- 問2 Bの海域でおこることについて正しいものを、下の①～④から1つ選べ。
- ① この海域の水温が高くなるのが原因でおこる異常気象を、フェーン現象という。
 - ② この海域の水温が高くなるのが原因でおこる異常気象を、ヒートアイランド現象という。
 - ③ この海域の水温が低くなるのが原因でおこる異常気象を、ラニーニャ現象という。
 - ④ この海域の水温が低くなるのが原因でおこる異常気象を、エルニーニョ現象という。

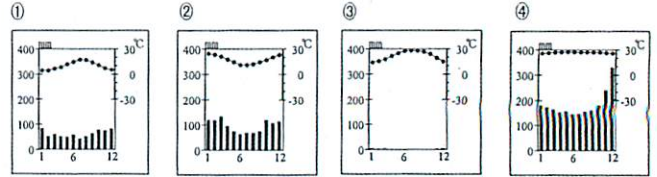
- 2 -

問3 Cの国の多くの国民が信仰している宗教に関係のあるものを、下の①～④から1つ選べ。



問4 Dの国の首都で観測される雨温図を、下の①～④から1つ選べ。

(雨温図は、2010年、気象庁発表のデータから作成)



問5 Eの地域の説明として、正しいものを、下の①～④から1つ選べ。

- ① この地域に山脈が広がっている。
- ② この地域に穀倉地帯が広がっている。
- ③ この地域に工業地域が広がっている。
- ④ この地域に砂漠が広がっている。

- 3 -

III 次のA～Cの文を読んで、問1～問6に答えよ。

A 日本でも8世紀に入ると、唐の制度にならって律令の整備がすすまれ、全国を支配するしくみが細かく定められた。公地公民制を原則とする律令制度のもとでは、6年ごとに戸籍がつくれ、①戸籍にもとづいて口分田が支給され、租調庸などの税のほか、成人男性には兵役の義務も課せられ、宮城の警備にあたり、②北九州の防衛に送られる者もいた。

問1 下線部①の説明として正しいものを、下の①～④から1つ選べ。

- ① この方法は永年墾田私財法といわれ、6歳以上の男子のみに口分田が与えられた。
- ② この方法は永年墾田私財法といわれ、20歳以上の男子のみに口分田が与えられた。
- ③ この方法は班田収授法といわれ、6歳になるとすべての民衆に口分田が与えられた。
- ④ この方法は班田収授法といわれ、20歳になるとすべての民衆に口分田が与えられた。

問2 下線部②の役割にあたった人を何というか。漢字2字で答えよ。

B 江戸時代になると、①豊臣秀吉によって定められた身分制度が、『士・農・工・商』の4つの身分に分けられ、幕府は統制を強めていった。武士の身分の中でも1万石以上の領地を与えられたものを大名といい、大名は親藩・譜代・外様に分けられ、たがいに監視をさせた。農民に対しては、②村ごとに年貢を納入させたり、犯罪の防止などのために共同で責任を負わせる制度を作った。

問3 下線部②の説明として正しいものを、下の①～④から1つ選べ。

- ① バテレン追放令をだして、兵農分離をおすすめた。
- ② 刀狩りをおこなって、兵農分離をおすすめた。
- ③ 朝鮮出兵をおこなって、兵農分離をおすすめた。
- ④ 楽市・楽座をおこなって、兵農分離をおすすめた。

問4 下線部③の制度を、下の①～④から1つ選べ。

- ① 荘園制
- ② 惣村制
- ③ 守護・地頭の制
- ④ 五人組の制

- 4 -

C 明治新政府は、新しい政治の方針を『五箇条のご誓文』で明らかにし、首都を東京にうつした。新政府が成立したのちも、徳川幕府時代の大名はそのまま残っていたが、1869年、大名に①土地と人民を明治政府に返させ、中央集権を強化していった。税制も改革がおこなわれ、1873年には②地租改正を実施し、政府の財政を安定させていった。

問5 下線部③の政策を、下の①～④から1つ選べ。

- ① 大政奉還 ② 版籍奉還 ③ 富国強兵 ④ 殖産興業

問6 下線部①の説明として正しいものを、下の①～④から1つ選べ。

- ① 土地の所有者に対して地券を交付し、現金で税を納入させた。
 ② 土地の所有者に対して地券を交付し、稲などの現物で税を納入させた。
 ③ 田畑の耕作者に対して地券を交付し、現金で税を納入させた。
 ④ 田畑の耕作者に対して地券を交付し、稲などの現物で税を納入させた。

IV 次の年表を見て、問1～問6に答えよ。

西暦	主なできごと
1894	日清戦争が始まる
1895	①三国干渉がおこなわれる
1900	義和団事件がおこる
1904	日露戦争が始まる
1911	②辛亥革命がおこる
1914	③第一次世界大戦が始まる
1931	④満州事変がおこる
1932	⑤五・一五事件がおこる
1936	⑥二・二六事件がおこる
1937	日中戦争が始まる

問1 下線部①に参加していない国を、下の①～④から1つ選べ。

- ① ロシア ② ドイツ ③ フランス ④ アメリカ

問2 下線部②で中心となった人物を、下の①～④から1つ選べ。

- ① 李鴻章 ② 孫文 ③ 蔣介石 ④ 毛沢東

問3 下線部③に日本が参戦した理由を、下の①～④から1つ選べ。

- ① 三国同盟 ② 日米修好通商条約 ③ 日英同盟 ④ 三国防共協定

問4 下線部④を調査した機関を、漢字4字で書け。

問5 下線部⑤によって暗殺された首相を、下の①～④から1つ選べ。

- ① 原敬 ② 加藤高明 ③ 犬養毅 ④ 若槻礼次郎

問6 下線部⑥による影響を、下の①～④から1つ選べ。

- ① 軍部の政治的影響力が強まった。
 ② 政党の政治的影響力が強まった。
 ③ 労働組合の政治的影響力が強まった。
 ④ 帝国議会の政治的影響力が強まった。

V 次の問1～問4の文中の下線部①～④は、すべて正しいか、あるいは誤っているものが1つある。すべて正しければ⑤に、誤っているものがあればその番号をマークせよ。

問1 約50万年前に出現した①原人は、すでに火を使い、言葉もかなり話したと考えられている。約20万年前に出現した私たちの直接的な祖先である新人は、②骨角器の使用や、洞くつ壁画などの高度な文化を生みだした。その後、新人は農耕・牧畜をはじめ磨製石器を使うようになった。磨製石器を使う時代を③旧石器時代と呼ぶ。

問2 古代中国の殷では④甲骨文字が用いられ、王が占いを重んじて人々を支配していたことがわかる。初めて中国を統一した⑤秦の始皇帝は、家臣を地方の役人に任じて国を治め、文字や貨幣を統一した。始皇帝の後、中国を再び統一した⑥漢では儒教が盛んになり、シルクロードを通じてローマ帝国と交易をした。

問3 朝鮮半島では、4世紀に高句麗が⑦楽浪郡を滅ぼし、同じころ、百済と新羅が小国の統一を進めた。7世紀になると、新羅は⑧隋と結んで高句麗と百済を滅ぼし、その後は新羅が朝鮮半島をほぼ統一した。新羅の後に朝鮮半島を統一したのは高麗であったが、13世紀には⑨フビライ=ハンの軍勢とともに日本に攻めてきた。

問4 ヨーロッパでは⑩ルネサンスの時代に羅針盤が改良され、16世紀前半にはスペインが派遣した⑪バスコ=ダ=ガマの一行が、世界一周を成しとげた。16世紀なかばに、布教活動に力を入れていた⑫イエズス会のフランシスコ=ザビエルが鹿児島に来たことは、航海技術の進歩や航路の開拓と大いに関係があった。

VI 次の文を読んで、問1～問7に答えよ。

イギリスは、東インド会社をつくって17世紀にはインド産の綿織物を大量に輸入しはじめたが、イギリス国内でも良質の綿糸・綿布をつくるために技術革新が続いた。①蒸気機関が動力として使われるようになると生産力は急速に向上し、どの産業も発達してイギリスは **ア** と呼ばれるようになった。その結果、資本家が大きな経済力をもつようになったが、労働者はみずからの生活を守るために組合を結成し、私有財産を認めない理想の共同体をめざす **イ** の考え方もいちちはやく芽ばえた。

19世紀には②アメリカやフランスにも産業革命がおこったが、イギリスはすでに欧米の先頭に立ってアジアに進出しており、進出先の地域でたびたび衝突をおこした。すなわち、中国では、1842年に③アヘンの輸出をめぐって戦争になった。また、インドではイスラム教徒が建国した **ウ** 帝国に勢力を伸ばして綿製品などを売りつけ、やがて政治的にも支配力を強めていったので、1857年には **エ** がおこった。

このように、イギリスはアジアの植民地化を進めていながら帝国主義国家として成長し、第一次世界大戦では戦勝国となった。しかし戦後は多額の債務をかかえ、1929年の④世界恐慌で、イギリス経済はさらなる追い打ちをかけられることとなった。

問1 文中の空欄 **ア** に入る適切な語を、漢字かな交じりの5字で答えよ。

問2 文中の空欄 **イ** と **ウ** に入る語の組み合わせとして正しいものを、下の①～④から1つから選べ。

- ① イ：資本主義 ウ：オスマン ② イ：社会主義 ウ：オスマン
 ③ イ：資本主義 ウ：ムガル ④ イ：社会主義 ウ：ムガル

問3 文中の空欄 **エ** に入るできごとを、下の①～④から1つ選べ。

- ① 太平天国の乱 ② スーパーヒー (セボイ) の乱
 ③ ボストン茶会事件 ④ ノルマントン号事件

問4 下線部④を改良して実用化した人物を、下の①～④から1つ選べ。

- ① ベリー ② ビゴ ③ ビスマルク ④ ワット

問5 下線部⑨について、19世紀のアメリカの説明として正しいものを、下の①～④から1つ選べ。

- ① 独立宣言が発布され、イギリスから独立した。
- ② 権利の章典によって、議会政治がはじまった。
- ③ 南北戦争中に、リンカーンが奴隷解放宣言を出した。
- ④ ナポレオンが人権宣言を出し、王政を廃止した。

問6 下線部⑩の戦争の講和条約の説明として誤っているものを、下の①～④から1つ選べ。

- ① 清はイギリスに台湾をゆずった。
- ② 清は上海など5港を開くことになった。
- ③ イギリスは清に領事裁判権を認めさせた。
- ④ この条約は南京条約とよばれる。

問7 下線部⑪の対策で、イギリスがとったブロック経済の説明として正しいものを、下の①～④から1つ選べ。

- ① 政府が公共事業をおこし、生産を調整して失業者を救った。
- ② 関税を高くして、自国の植民地から他国の商品をしめ出した。
- ③ 言論や思想の自由をうばい、軍備の増強をおこなった。
- ④ 重工業の発展と農業の集団化によって、計画経済をすすめた。

Ⅶ 次の問1～問6に答えよ。

問1 企業間で価格の協定を結ばないようにする法律を、下の①～④から1つ選べ。

- ① 金融商品取引法 ② 独占禁止法 ③ 関税法 ④ 労働関係調整法

問2 日本銀行が一般の銀行に貸し出すときの利率を、下の①～④から1つ選べ。

- ① 公定歩合 ② 融資 ③ 配当 ④ 管理通貨

問3 社会資本にあてはまらないものを、下の①～④から1つ選べ。

- ① 港湾 ② 学校 ③ 遊園地 ④ 図書館

問4 累進課税制度の説明として正しいものを、下の①～④から1つ選べ。

- ① 所得が多い人ほど、高い税率が適用される。
- ② 年齢が高い人ほど、高い税率が適用される。
- ③ 勤務年数によって、一定の税率が適用される。
- ④ 職種によって、一定の税率が適用される。

問5 平和や環境問題などについて活動している非政府組織の略称を、下の①～④から1つ選べ。

- ① UNESCO ② NGO ③ ODA ④ PKO

問6 労働三権に含まれるものを、下の①～④から1つ選べ。

- ① 特許権 ② 黙秘権 ③ 争議権 ④ 著作権

Ⅶ 次の文を読んで、問1～問7に答えよ。

現在の日本は、⑥三権分立の考え方にもとづき、政治制度が整えられている。⑥日本国憲法において、立法権は⑥国会、行政権は⑥内閣、司法権は⑥裁判所とそれぞれの独立した機関によって担当されている。

政治の分野においては、日本の政治は政党を中心に運営される政党政治であり、1955年以来、いわゆる55年体制がとられてきたが、⑦1990年代前半の総選挙により大きくかわることとなった。2000年代にはいと一時政治は安定していたが、2009年には、政権交代がおこり、⑧昨年の参議院選挙の結果、「ねじれ国会」となった。

問1 下線部⑨を説くモンテスキューの著書を、下の①～④から1つ選べ。

- ① 市民政府二論 ② 法の精神 ③ 社会契約論 ④ 学問のすすめ

問2 下線部⑩で定められた社会権にあてはまるもの、下の①～④から1つ選べ。

- ① 請願権 ② 参政権 ③ 裁判を受ける権利 ④ 教育を受ける権利

問3 下線部⑪で衆議院の優越事項にあてはまらないものを、下の①～④から1つ選べ。

- ① 憲法改正の発議 ② 法律案の議決
- ③ 条約の承認 ④ 内閣総理大臣の指名

問4 下線部⑫で内閣総理大臣の選ばれ方で正しいものを、下の①～④から1つ選べ。

- ① 内閣総理大臣は、国会議員の中から内閣が指名して天皇が任命する。
- ② 内閣総理大臣は、国会議員の中から内閣が指名して国会が任命する。
- ③ 内閣総理大臣は、国会議員の中から国会が指名して天皇が任命する。
- ④ 内閣総理大臣は、国会議員の中から国会が指名して内閣が任命する。

問5 下線部⑬で、高等裁判所の所在する都市を、下の①～⑥から1つ選べ。

- ① 京都 ② 大阪 ③ 神戸 ④ 大津 ⑤ 和歌山 ⑥ 奈良

問6 下線部⑭の結果、日本の政治はどのようになったか、下の①～④から1つ選べ。

- ① 自由民主党を中心とした連立政権が成立した。
- ② 自由民主党以外の政党による連立政権が成立した。
- ③ 自由民主党による単独政権が成立した。
- ④ 自由民主党以外の政党による単独政権が成立した。

問7 下線部⑮で一番多くの議席を獲得した政党を、下の①～④から1つ選べ。

- ① 自由民主党 ② 日本社会党 ③ 共産党 ④ 民主党