

平成23年度 京都明徳高等学校

入学試験社会科学問題

注 意

- (1) 問題と解答用紙が別になっていきますから、注意しなさい。
- (2) まず、解答用紙に受験番号、氏名を書きなさい。
- (3) 下敷きの使用は認めません。
- (4) 開始の合図で始めなさい。
- (5) 答は全部、解答用紙に記入しなさい。
- (6) 解答時間は45分です。終了の合図と同時に問題を閉じて表紙を上にして置きなさい。
- (7) 問題用紙を机の左側、解答用紙を右側に置き、ともに提出しなさい。

1 次の文章を読み、各問いに答えなさい。

(1) 年代後半から約20年間、日本経済は、二度にわたる (2) も乗り越え、諸外国にも類をみないほど①急速な経済成長をとげ、豊かな国へと変貌していきまされた。その象徴として、3大人気商品となった「②三種の神器」や「③C」などがあげられます。

この経済成長は、人々の生活も大きく変化させました。例えば、(3) の誕生があげられます。最近では、インターネットで買い物をする (4) もかなり普及してきました。このような社会は「A」と呼ばれます。

また、栄養水準の上昇や、公衆衛生・医療技術が改善され、日本人の④平均寿命は世界有数の高い水準になりました。大ぜいの人々の暮らしが、(5) 中心から (6) 中心へと変わっていきまされた。今の日本は、出生数の減少による (7) と平均寿命が延びたことにより、「B」社会の時代になりました。

近年の大きな社会変化の一つとして、(8) の進展もあげられます。日本に長く暮らしている韓・朝・朝鮮の人々や、ラテンアメリカやアジア出身の人も増えています。国際化は私たちの身の周りで起こっているのです。そこで、今よりいっそう⑤共生社会の実現に向けて努力する必要があります。ますます国際社会の中で、(9) という世界を一体化する動きも進み、世界各地の結びつきは、ますます速く、深くなっています。今日では、貧しい国々の開発に協力する民間の団体で、非営利で活動する⑥非政府組織や、援助のための資金などを集めようとする⑦非営利組織などの活動も活発になってい

ます。

2004年に発行された『世界の国一覽表』によると、日本は (10) に次いで世界で2番目の⑧国民総所得を保っています。現代社会の豊かさを、どのような政策を通して新しい社会の実現に役立てるかが、現代に生きる私たちの大きな課題として求められています。

問1 文章中の (1) ~ (10) にもっとも適する語句や数字を下の語群より選び、記号で答えなさい。

- <語群>
- | | | | |
|----------|--------|-------|----------------|
| あ、イギリス | い、1950 | う、核家族 | え、グローバル化 |
| お、アメリカ | か、1980 | き、大家族 | く、多文化社会 |
| け、コンピュータ | こ、石油危機 | さ、少子化 | し、オンライン・ショッピング |

問2 文章中の「A」にもっとも適する語句を答えなさい。

問3 文章中の「B」にもっとも適する語句を答えなさい。

問4 下線部⑩に関して、この急速な経済成長を何と云うか答えなさい。

問5 下線部⑨に関して、「三種の神器」に当てはまる家電製品を下の語群より三つ選び、記号で答えなさい。

- <語群>
- | | | | |
|---------|-------|-------|----------|
| あ、洗濯機 | い、冷蔵庫 | う、炊飯器 | え、カラーテレビ |
| お、電子レンジ | か、乾燥機 | き、ラジオ | く、白黒テレビ |

問6 下線部⑩に関して、「3C」に当てはまる家電製品を下の語群より三つ選び、記号で答えなさい。

- <語群>
- | | | | |
|--------|-------|---------------|----------|
| あ、携帯電話 | い、冷蔵庫 | う、デジタルカメラ | え、カラーテレビ |
| お、クーラー | か、自動車 | き、パーソナルコンピュータ | く、白黒テレビ |

問7 下線部⑩に関して、2006年現在の日本人の男性・女性の平均寿命としてもっとも近いものを下よりそれぞれ選び、記号で答えなさい。

- あ、約79歳 い、約82歳 う、約86歳 え、約90歳

問8 下線部⑩に関して、共生社会の説明として正しい文章を下より一つ選び、記号で答えなさい。

- あ、バリアを取り除き、すべての人が安全・快適に過ごせる社会
い、世界各地とすぐにやりとりができ、いろいろな情報を即座に得ることができる社会
う、一人ひとりを大切にし、ともに助け合っていく社会

問9 下線部⑩に関して、非政府組織をアルファベットで表すとどうなりますか。三文字で答えなさい。

問10 下線部⑩に関して、非営利組織をアルファベットで表すとどうなりますか。三文字で答えなさい。

問11 下線部⑩に関して、国民総所得をアルファベットで表すとどうなりますか。三文字で答えなさい。

2 次の文章を読み、各問いに答えなさい。

A. 710年、都は唐の(1)にならった新しいアへ移されました。アは道路によってごぼんの目のように区切られており、藤原京や飛鳥地方から寺院が移されただけでなく、また、皇族・貴族や役人・庶民にまで宅地が割りあてられて人口10万ほどの都市となりました。官營の市場が二つおかれ、唐にならって(2)という貨幣も発行され、都の人々のくらしを支えました。

地方は国や郡などに分けられ、国には都の貴族を国司として派遣し、郡には地方の豪族を郡司に任じて、人々を治めさせました。また、九州には(3)をおいて、九州諸国をまとめさせ、唐や新羅との外交の窓口の役割も果たしました。こうして天皇を頂点に、皇族・貴族や役人が全国およそ600万人の人々を治める統一國家のしくみが整えられました。

B. 8世紀後半になると、有力な貴族や僧の争いがおきて政治が乱れました。そこで(4)は、都を山城の長岡京に移し、794年にはさらにイに移して政治の改革に乗り出しました。

(4)は、国司の不正をきびしくとりしまり、税や労役を軽くしました。この時代、朝廷は支配を東北地方にまで広げようとし、抵抗を続ける蝦夷に対して、(5)を征夷大將軍に任じて大軍を送り、ようやくこれをしずめました。

この時代は、藤原氏が娘を天皇のきさきにし、その子を次の天皇に立てて勢力を拡大しました。11世紀前半の(6)とその子孫通のところが最も栄えています。

C. 1180年、伊豆にいた源頼朝や、木曾の源義仲などが兵をあげ、源平の内乱となりました。頼朝が派遣した弟の義経は、平氏を追って西に進み、1185年、(7)の戦いで平氏をほろぼしました。内乱のあいだ、鎌倉で指揮をとっていた頼朝は、集まってきた武士と主従関係を結んで(8)とし、政治のしくみを整えました。頼朝と対立して姿を隠した義経をとらえることを口実に、頼朝は朝廷にせまって国ごとに(9)を、荘園や公領に(10)をおくことを認めさせ、(8)をこの役につけました。また、義経をかくまうたことを理由に、奥州藤原氏を攻めほろぼしました。1192年、頼朝は武士の総大将として征夷大將軍に任じられ、鎌倉に武士の政府が生まれました。これを①鎌倉幕府といいます。

D. (11)に攻められ、織田信長が自殺したあと、家臣の豊臣秀吉は、山崎の戦いで(11)をたおし、次いで四国・九州、さらに関東・東北地方も支配下におき、1590年に全国統一をなしました。その間、(12)の地位につき、天皇の伝統的な権威をも利用して政治を行いました。秀吉は、全国各地に役人を派遣して、決まったものさしで田畑の面積をはかり、土地のよしあしや耕作者を調べさせました。収穫高も同じ大きさのままではかれ石高で示されました。秀吉が行ったこの検地をウ検地といいます。

E. 徳川家康は、秀吉によって東海地方から関東地方へ領地を移された後、開拓と治水に力を入れて、江戸の町づくりを進めました。秀吉の死後、1600年に石田三成らを(13)の戦いで破り、全国を支配する武家の頂点に立ち、②江戸幕府を開きました。

幕府は、全国のおよそ4分の1の土地と京都・大阪・長崎などの重要都市や港を幕府領とし、それ以外の土地を家臣である武士に与えました。1万石以上の領地をあたえられた武士を(14)といい、(14)の領地と支配のしくみを(15)といいます。

問1 文章中の(1)～(15)にもっとも適する語句を下の語群より選び、記号で答えなさい。

<語群>

あ. 桓武天皇	い. 明智光秀	う. 坂上田村麻呂	え. 藤原道長	お. 御家人
か. 大名	き. 堀ノ浦	く. 地頭	け. 長安	こ. 開白
さ. 和同開珎	し. 守護	す. 太宰府	せ. 関ヶ原	そ. 藩

問2 ア～ウにあてはまる語句を漢字で答えなさい。

問3 下線部①・②はそれぞれ現在のどの都道府県にありましたが、都道府県名を答えなさい。

3 次の文章を読み、各問いに答えなさい。

20世紀のはじめ、欧米列強は各地で植民地の拡大をねらっていました。ドイツとオーストリア・イタリアは(1)を結び、これに対抗してロシアとフランス・イギリスの(2)が対立していました。特にトルコの支配がおそろえた(3)は、こうした列強の利害と民族・宗教の対立から紛争が絶えず、「ヨーロッパの火薬庫」とよばれていました。

1914年、オーストリアの皇太子夫妻が、サラエボで(4)人の青年に暗殺されました。これに基づき、オーストリアは(4)に宣戦し、続いてドイツ・オーストリア・トルコからなる(1)側と(2)側についていた国々(連合国側)とに分かれて第一次世界大戦が始まりました。日本は(5)を理由に参戦し、1917年にはアメリカ合衆国も連合国側に加わりました。

日本は、ドイツが支配していた青島をふくむ(6)半島やドイツ領の南洋諸島を占領し、1915年、中国政府に「ア」を提出し、その大部分を認めさせましたが、これは中国の主権をおかすものでした。

この戦争は予想をこえて及びき、飛行機・(7)潜水艦・毒ガスなどの新兵器が使われ、また、各国では食料を配給制にしたり、女性や青少年までも軍需工場で働かせるなど総力戦の体制をつくりました。1918年になると(1)側が敗北を重ね、ドイツ国内でも革命がおこったため休戦となりました。1919年、連合国は(8)講和会議をひらいて、アメリカの(9)大統領が唱えていた原則のもと、ドイツと(10)条約を結びました。また、従来から①民族自決を唱えていた(9)大統領の提案にもとづき、世界平和と国際協調をうたう「イ」の設立も決まりました。

問1 文章中の(1)～(10)にもっとも適する語句を下の語群より選び、記号で答えなさい。

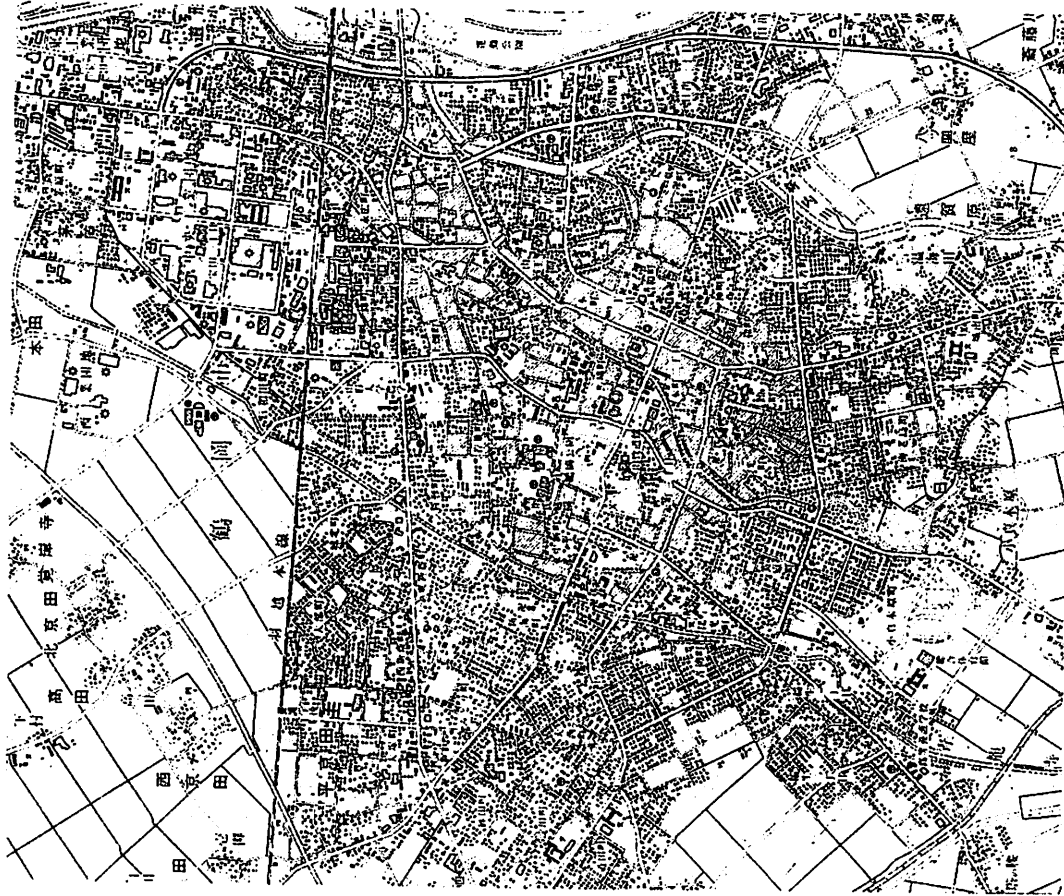
- <語群>
- | | | | |
|--------|---------|---------|----------|
| あ、セルビア | い、戦車 | う、ウイルソン | え、バルカン半島 |
| お、パリ | か、ベルサイユ | き、日英同盟 | く、三国同盟 |
| け、三国協商 | こ、山東 | | |

問2 「ア」・「イ」にもっとも適する語句を答えなさい。

問3 下線部①の説明として正しいものを下より一つ選び、記号で答えなさい。

- あ、帝国主義諸国が、植民地を拡大するために他民族を支配下におくということ。
 い、民族がそれぞれ、自由に宗教を決定できるとのこと。
 う、民族はそれぞれ、政治的に独立し、みずからの政府を決定する権利を持つということ。
 え、戦争に勝った国(民族)が、負けた国(民族)の政治のあり方を自由に決定できるとのこと。

4 下の地形図を見て、各問いに答えなさい。



(国土地理院発行 「縮尺」1:25,000)

問1 地形図中にある①・②の記号はそれぞれ何を表す地図記号が答えなさい。

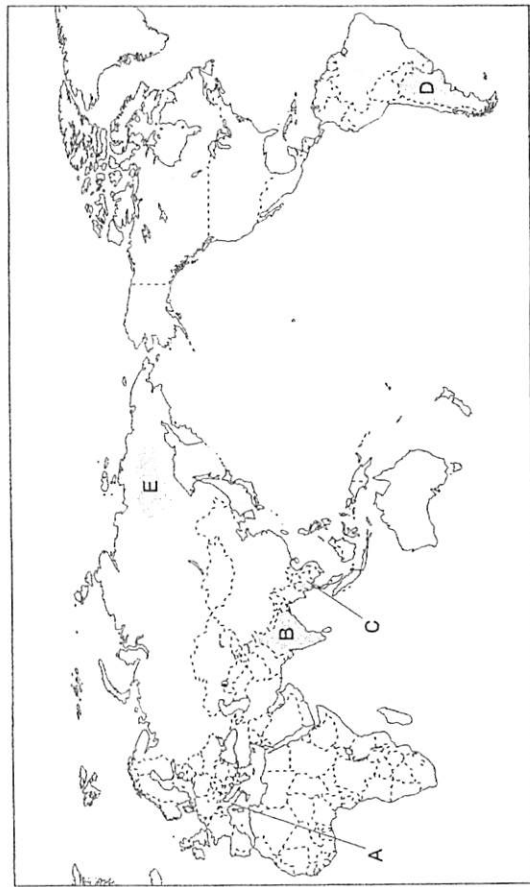
- ① Y ② 田

- 問2 地形図中の東側を流れる河川の特徴として正しいものを下より一つ選び、記号で答えなさい。
- あ、新内川は南西から北東にゆるく蛇行して流れている。
 - い、新内川は北東から南西へゆるく蛇行して流れている。
 - う、新内川は南から北へゆるく蛇行して流れている。
 - え、新内川は北西から南東に直線的に流れている。

- 問3 地形図の説明として誤っているものを下より一つ選び、記号で答えなさい。
- あ、鶴岡市の町の北部をJ R 羽越本線が東西方向に走る。
 - い、鶴岡市の町の西北部の郊外に果樹園がひろがる。
 - う、J R 羽越本線の南側に鶴岡公園や市役所を中心とした町がひろがる。
 - え、J R 羽越本線のつるおか駅の北側は工業団地がひろがる。

- 問4 地形図中の集落の説明として最も正しいものを下より一つ選び、記号で答えなさい。
- あ、町の西部の淀川町周辺には寺が集中している。
 - い、町の中心部の本町から家中新町まで格子状の街路網が形成されている。
 - う、鶴岡公園の西にある河川は堀と考えられ、まっすぐ北へ向かっている。
 - え、鶴岡公園の周辺は裁判所や高等学校などの公共の施設が多い。

- 問5 下の世界地図を見て、各問いに答えなさい。



- 問1 地図中のA～Dの国名を下よりそれぞれ選び、記号で答えなさい。

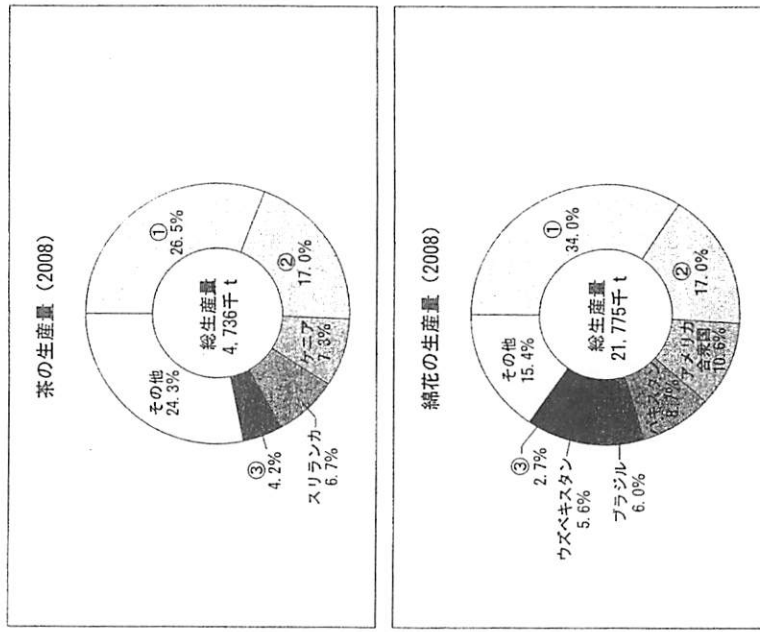
- あ、アルゼンチン
- い、イタリア
- う、インド
- え、タイ

- 問2 地図中のB・Cの国で多数を占める宗教を下よりそれぞれ選び、記号で答えなさい。
- あ、キリスト教
 - い、イスラム教
 - う、仏教
 - え、ヒンドゥー教

- 問3 地図中のDの国を流れる河川名を下より一つ選び、記号で答えなさい。
- あ、オピ川
 - い、メコン川
 - う、ナイル川
 - え、ラブラタ川

- 問4 地図中のEの高原名を下より一つ選び、記号で答えなさい。
- あ、エチオピア高原
 - い、東シベリア高原
 - う、デカン高原
 - え、ラブラドル高原

- 問5 下の円グラフは2008年の茶と綿花の生産量をそれぞれ国別に示したものです。このうちインドを示しているのは①～③のどれか、記号で答えなさい。(2つのグラフの①～③は同じ国を示す。)



(『世界国勢図会 2010/11年版』より作成)