

平成 24 年 度
高等学校 入学選考試験問題 (A日程)

社 会

- 注意
1. 問題用紙および解答用紙にそれぞれ受験番号、氏名を記入しなさい。
 2. 各問題の答えは解答用紙に記入しなさい。
 3. 試験場を退出する際には、問題用紙は表紙を上、解答用紙は裏がえしにして、机の上に置きなさい。
 4. 問題用紙をとりじてあるホッチキスの針をはずさないようにしなさい。

受験番号	氏名
------	----

① 次の図は、日本の著名な人物〔一遍（鎌倉新仏教）・雪舟（室町東山文化）・松尾芭蕉（江戸元禄文化）・正岡子規（明治文化）〕の足跡です。この図を見て、各問に答えなさい。



A 一遍

問1. 図中の（ a ）の山は、一遍が巡拝し、他力念願の確信を深めた場所です。空海が眠る真言宗の総本山の山とはどこですか。

問2. 一遍は諸国を念仏遊行し、1289年に亡くなりました。死後に製作されたのが次の『一遍上人絵伝』です。その作品の説明として誤っているものを次のア～エより一つ選び、記号で答えなさい。

- ア. 一遍の教えを広めている姿を描いている。
- イ. この時代の社会・風俗研究の好材料である。
- ウ. この資料は時宗の総本山・神奈川県藤沢の清浄光寺に保存されている。
- エ. 墨の濃淡だけで立体感や色感を表現している。



問3. 一遍の教義として正しいものを次のア～エより一つ選び、記号で答えなさい。

- ア. 法華経のみが唯一の釈迦の教えで、他宗を激しく攻撃した。
- イ. 公案（禅問答）を通して悟りにいたるとし、幕府の保護を受けた。
- ウ. 貞観打坐（ただひたすらに座禅を組むこと）で悟りにいたるとした。
- エ. 念仏を記した算を配り、踊り念仏をおこなった。

問4. 一遍が活躍していた時代の執権は北条時宗です。その時代の出来事として正しいものを次のア～エより一つ選び、記号で答えなさい。

- ア. 承久の乱
- イ. 御成敗式目の制定
- ウ. 弘安の役
- エ. 永仁の徳政令

問5. 一遍が活躍していた時期にあった出来事として正しいものを次のア～エより一つ選び、記号で答えなさい。

- ア. マルコ・ポーロが元の都・大都を訪れた。
- イ. 宗教改革が始まった。
- ウ. イタリアでルネサンスが最盛期を迎えた。
- エ. アンコール=ワットの建設が始まった。

B 雪舟



問6. 図中の（ b ）の町は、雪舟が活動の拠点とした大内氏の城下町です。その町名として正しいものを次のア～エより一つ選び、記号で答えなさい。

- ア. 博多
- イ. 萩
- ウ. 山口
- エ. 堺

問7. 雪舟は1467年に絵の修行のために中国に渡りました。当時の中国の王朝名を答えなさい。

問8. 雪舟が1469年中国から帰国した後、出身の相国寺のある京都を去りました。その原因となった戦乱は何ですか。

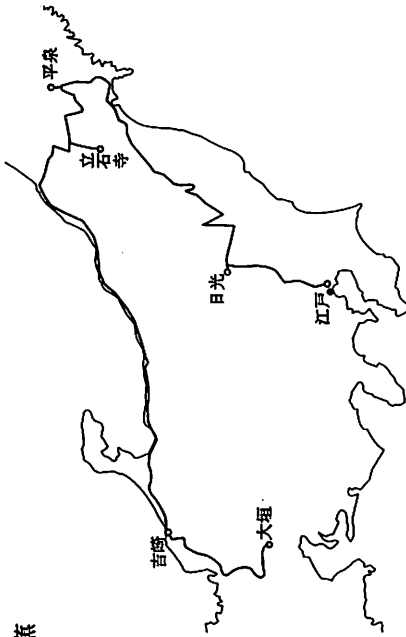
問9. 雪舟が活躍した時代の文化を「東山文化」といいます。その文化の特徴の説明として正しいものを次のア～エより一つ選び、記号で答えなさい。

- ア. 3代将軍義満の時代である。
- イ. 幽玄・侘びなど、精神性を基調とする。
- ウ. 新鮮味あふれ、豪華・壮大である。
- エ. 宋の文化の影響を受けている。

問10. 雪舟が活躍していた時代にあった出来事として正しいものを次のア～エより一つ選び、記号で答えなさい。

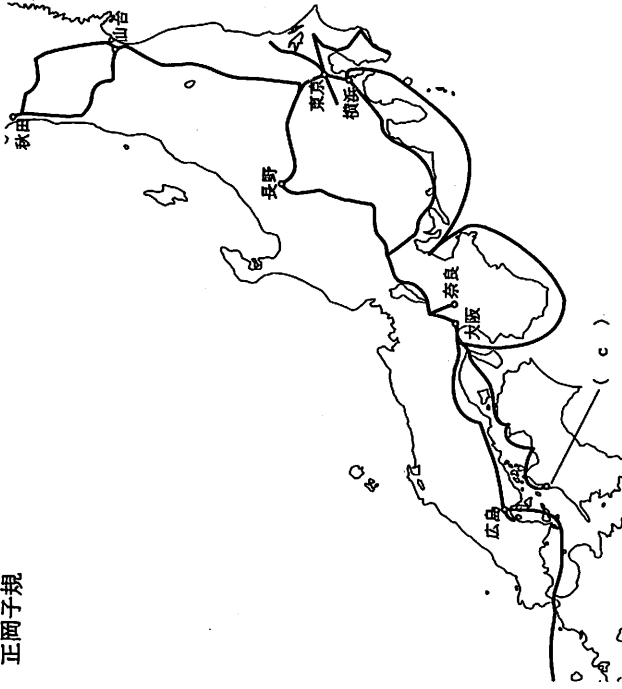
- ア. コロンブスが西インド諸島に到達した。
- イ. イギリス東インド会社が設立された。
- ウ. イギリスの名誉革命が始まった。
- エ. 産業革命が始まった。

C 松尾芭蕉



- 問11. 図中の日光で詠んだ俳句が「あらたふと 青葉若葉の 日の光」です。「日の光」とは、ここに祀られている「権現様の威光」を表しています。「権現様」といわれた、徳川将軍とは誰ですか。
- 問12. 図中の平泉で詠んだ俳句が「五月雨の 降りのこしてや 光堂」です。この俳句中の「光堂」とは何という建築物のことですか。
- 問13. 図中の立石寺で詠んだ俳句が「蘭さや 岩にしみ入る 鐘の声」です。立石寺は平安時代に最澄の弟子であった慈覚大師(円仁)が創建した寺院です。この寺院は何宗ですか。
- 問14. 【奥の細道】が刊行されたのは、松尾芭蕉の死後の1702年でした。この年におこった出来事として正しいものを次のア～エより一つ選び、記号で答えなさい。
- ア. 島原・天草一揆 イ. 赤穂事件
ウ. 目安箱の設置 エ. 大塩平八郎の乱
- 問15. 松尾芭蕉が活躍した元禄文化の特徴として正しいものを次のア～エより一つ選び、記号で答えなさい。
- ア. 禅の精神に基づき、現代の日本文化の基調となる。
イ. 新興の大名家や豪商が担い手で、仏教色が薄れ南蛮文化の影響を受けた。
ウ. 上方(京都・大阪)の豪商・町人が担い手で、現世を表現した。
エ. 江戸の町人が担い手で、文化の庶民化と地方化が見られる。

D 正岡子規



- 問16. 図中の(c)は正岡子規が生まれた城下町です。「(c)」や「秋より高き 天守閣」と詠んだ、その場所として正しいものを次のア～エより一つ選び、記号で答えなさい。
- ア. 松山 イ. 高松 ウ. 徳島 エ. 高知
- 問17. 正岡子規の東大時代の同窓だった明治の文豪は、後に正岡子規の故郷に英語教師として赴任し、名作『坊っちゃん』を著わします。その文豪とは誰ですか。
- 問18. 1895年5月、正岡子規は日清戦争の従軍記者として帰国した後、体調不良で入院しました。その時期、国内世論は反ロシア感情が高まっています。その理由を簡潔に説明しなさい。
- 問19. 図中の奈良で正岡子規は「柿食えば 鐘が鳴るなり (d)」と詠みました。(d)にあてはまる寺院名を答えなさい。
- 問20. 正岡子規は1902年(明治35年)34歳で死去しました。この年にあった出来事として正しいものを次のア～エより一つ選び、記号で答えなさい。
- ア. 領事裁判権の撤廃 イ. 日英同盟締結
ウ. 大逆事件 エ. 関税自主権の獲得

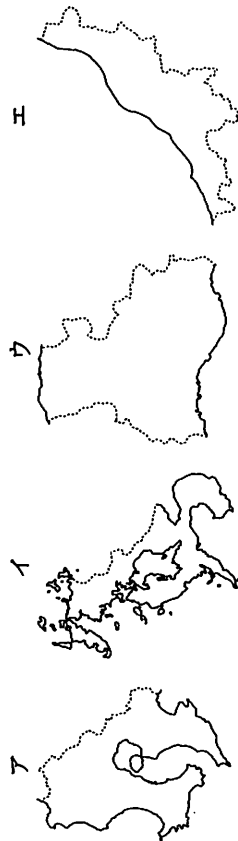
以下②・③の問の統計はすべて東日本大震災以前のものである。

② 次の日本地図について、各問いに答えなさい。

問1. 次のA～Dの日本国内に位置する島について各問いに答えなさい。



(1) A～Dの島は次のア～エの都道府県にそれぞれ属しています。Aの島が属する都道府県として正しいものを次のア～エより一つ選び、記号で答えなさい。ただし地図中ア～エの島の一部は省略されています。



(2) Bの島には本州四国連絡橋が通過しています。この島を通過する連絡橋はどここの都市間を通過しますか。都市間の名称として正しいものを次のア～エより一つ選び、記号で答えなさい。

- ア. 神戸ー鳴門
- イ. 児島ー坂出
- ウ. 尾道ー今治
- エ. 下関ー門司

(3) Cの島が属する都道府県Xはある農産物の生産が有名です。次の表を参照し、Xで生産されている農産物として正しいものを次のア～エより一つ選び、記号で答えなさい。

ある農産物の収穫量 (2010年産)

X	北海道	秋田	福島	山形	茨城	その他
7.3	7.1	5.8	5.3	4.8	4.8	64.9

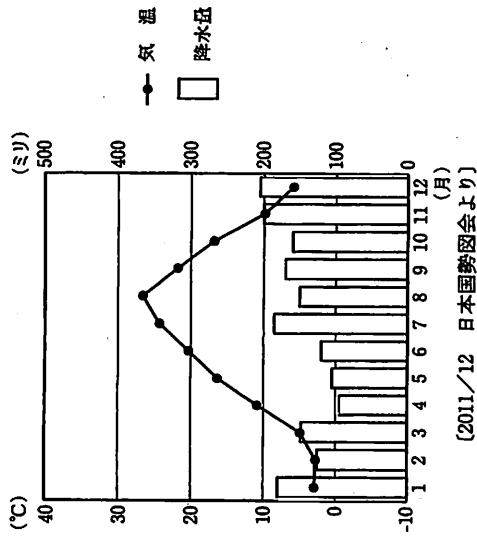
[2011/12 日本国勢協会より、表示は%]

- ア. タマネギ
- イ. ジャガイモ
- ウ. 米
- エ. 小麦

(4) Dの島はユネスコにより世界自然遺産に登録されています。世界自然遺産のない都道府県を次のア～エより一つ選び、記号で答えなさい。

- ア. 北海道
- イ. 秋田県
- ウ. 東京都
- エ. 宮崎県

(5) 次の雨温図を県庁所在地のものとする都道府県に属する島として正しいものを次のア～エより一つ選び、記号で答えなさい。



- ア. A
- イ. B
- ウ. C
- エ. D

問2. 次の表を見て、各問いに答えなさい。

面積の大きい都道府県	
1	北海道 83457
2	A 15279
3	福島県 13783
4	長野県 13562
5	新潟県 12584

(km²)

人口の多い都道府県	
1	C 1316
2	神奈川県 905
3	大阪府 886
4	愛知県 741
5	埼玉県 720

(万人)

面積の小さい都道府県	
1	B 1877
2	大阪府 1898
3	C 2188
4	沖縄県 2276
5	神奈川県 2416

(km²)

人口の少ない都道府県	
1	鳥取県 59
2	島根県 72
3	D 77
4	徳島県 79
5	福井県 81

(万人)

*北海道は北方領土を含む。

[2011/12 日本国勢調査より]

(1) Aの都道府県で有名な伝統工業の品物として正しいものを次のア～エより一つ選び、記号で答えなさい。

- ア. 南部鉄器 イ. 津軽塗り
ウ. 大館曲げわっぱ エ. 鳴子こけし

(2) 次のBの都道府県の県章は、平和のシンボルである県花・県木「オリーブ」の葉を表現し、向上発展を続けるすがたを象徴しています。この都道府県の名称として正しいものを次のア～エより一つ選び、記号で答えなさい。

- ア. 岡山県 イ. 大分県 ウ. 香川県 エ. 佐賀県

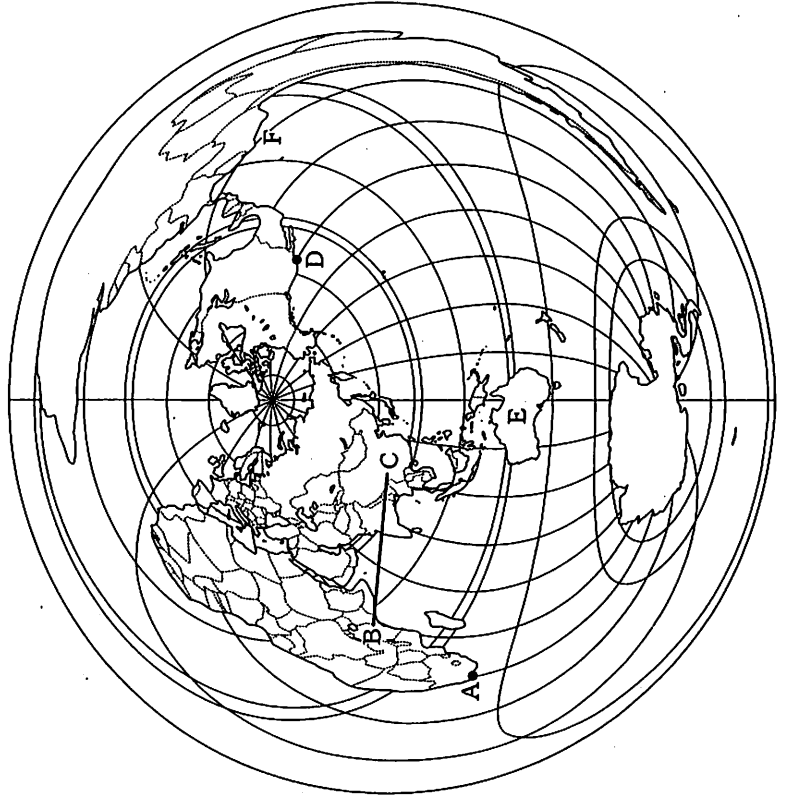
(3) Cの都道府県の工業の説明として正しいものを次のア～エより一つ選び、記号で答えなさい。

- ア. 高速道路や新幹線が開通したことで、消費地との時間距離が短くなり、沿線やインター付近に工業団地がつくられるようになった。
イ. かつての塩田跡地に造船業が発達し、戦後は重化学工業が立地している。
ウ. 他の地域と比べて情報通信業や印刷業の割合が高く、本社などが集中する。
エ. 温暖な気候を利用した農業がさかんであったため、大規模な工業地域は発達していない。

(4) Dの都道府県の自然についての説明として正しいものを次のア～エより一つ選び、記号で答えなさい。

- ア. 四国山地を源流とする四万十川は四国一の長さであり、有数の清流である。
イ. 秩父山地や丘陵に囲まれており、特に熊谷市では2007年に40.9℃の気温を記録した。
ウ. 北西部に赤石山脈がせり出し、北東部の県境に富士山がのぞいている。
エ. 西部には濃尾平野が広がり、大きな河川の氾濫を防ぐため堤防が築かれている。

(3) 次の地図は正距方位図法といい、地図の中心から見た距離と方位が正しく反映されています。この地図をみて、各問いに答えなさい。



問1. 東京から見たAの都市の方位として正しいものを次のア～エより一つ選び、記号で答えなさい。

- ア. 北北西 イ. 東北東 ウ. 西南西 エ. 南南西

問2. 直線B-Cを通過する地形の組み合わせとして正しいものを次のア～エより一つ選び、記号で答えなさい。

- ア. キリマンジャロ山、デカン高原、チベット高原
 イ. モンブラン山、ロッキエー山脈、チベット高原
 ウ. キリマンジャロ山、サハラ砂漠、プレーリー
 エ. モンブラン山、ギアナ高地、デカン高原

問3. Fの海域では近年海水温の上昇現象が見られ、世界各地の干ばつや洪水、気温の乱れなどの異常気象を引き起こしていると考えられています。この現象を何といいますか。正しいものを次のア～エより一つ選び、記号で答えなさい。

- ア. エルニーニョ現象 イ. フェーン現象
 ウ. ヒートアイランド現象 エ. スプロール現象

問4. Dの都市は西経120度に位置しています。日本からDの都市まで飛行機で所要時間が10時間かかります。日本を飛び立った飛行機が現地時間1月15日午前6時にDに到着したとすれば、何時に日本を発発していますか。日本時間の出発時間として正しいものを次のア～エより一つ選び、記号で答えなさい。なお、サマータイムは考慮しないものとする。

- ア. 1月14日午前3時 イ. 1月14日午後8時
 ウ. 1月15日午後1時 エ. 1月15日午後4時

問5. この地図に描かれている内容について誤っているものを次のア～エより一つ選び、記号で答えなさい。

- ア. 図の中心から離れるほど、この図法で描かれた大陸の形にゆがみが生じる。
 イ. 日本とイギリスの距離よりも日本と南アメリカ共和国の距離の方が長い。
 ウ. ブラジルやアルゼンチンは日本から遠く離れた場所にあることがわかる。
 エ. 日本から真東に向かうと北米大陸を通過する。

問6. Eの国と日本の貿易について以下の表を参照し、aとbにあてはまる用語の組み合わせとして正しいものを次のア～エより一つ選び、記号で答えなさい。

Eへの輸出		Eからの輸入	
a	49.4	石炭	34.7
機械類	20.2	b	19.0
石油製品	7.7	液化天然ガス	17.8
タイヤ・チューブ	3.3	肉類	4.0
鉄鋼	3.3	アルミニウム	3.2
その他	15.7	その他	21.3

[2011/12 日本国勢協会より、表示は%]

- ア. a : 自動車 b : 原油
 イ. a : 自動車 b : 鉄鉱石
 ウ. a : 航空機 b : 魚介類
 エ. a : 航空機 b : 集積回路

問7. つぎの「サラリーマン日記」を読んで、各問いに答えなさい。

7月30日（土）

今日は、出張で青森市を訪れた。①ねぶた祭り直前であるのとインターハイが行われているせい、町の中に活気がある。青森に在る限りは、東日本大震災のあった東北という感じではなく、元氣な北の町という感じだ。

ここに来るまでに、被災地を訪ねてきた。いまだ②仮設住宅にも入れず避難所生活を余儀なくされている住民の方々、がれきが残り復興までは相当に時間と費用がかかると言うことが理解できるくらいに破壊された町を目の当たりにして私は言葉を失い、ただただお見舞いを申し上げるしかなかった。政府は活気ある東北の町を早く取り戻すために、あらゆる施策を導入して全力で復興に取り組みしてほしいと思う。

震災から4カ月余りがたち政府もいくつかの復興に向けての対策を考えようだが、マスメディアで見える限りは、③所得税や法人税の増税、④消費税の増税、復興税の新設など、国民の負担により復興していく方法が多く挙げられている。同じ日本人としてある程度の負担はやむを得ないと思うのだが、日本の⑤景気がそれほどよいとは言えない中、国民や企業が増税に対してどれだけ耐えられるのだろうか。震災の影響に加えて⑥円高が加速し、日本国内よりも海外でモノづくりをしたほうがいいと考える企業がさらに増加し、⑦海外に工場などを移転してしまおうのではないかと心配だ。

さて、青森からの帰路は日本が誇る高速鉄道「新幹線」を利用することにした。震災の影響でスピードこそ落ちているが、新型列車「はやぶさ」は320キロ運転が始まると、⑧東京-新青森間を3時間5分で結ぶ速さだ。東京で「のぞみ」に乗り換えて京都まで、約6時間陸路の旅を楽しもうと思う。「鉄道好き」にはたまらない1日になりそうだ。

問1. 下線部①について、「青森ねぶた祭り」は東北三大祭りの1つといわれています。あと2つの祭りの組み合わせとして正しいものを次のア～エより一つ選び、記号で答えなさい。

- ア. 天神祭と神田祭 イ. 竿燈祭りと七夕祭り
ウ. 天神祭と七夕祭り エ. 祇園祭と竿燈祭り

問2. 下線部②について、「仮設住宅の提供」は次のどれにあたりますか。正しいものを次のア～エより一つ選び、記号で答えなさい。

- ア. 公的扶助 イ. 公衆衛生 ウ. 社会福祉 エ. 社会保険

問3. 下線部③について、所得税と法人税を説明する次の文章の空欄にあてはまる語句の組み合わせとして正しいものを次のア～エより一つ選び、記号で答えなさい。

所得税は、所得が多くなるに従って高い税率があたりつけられている（ A ）というしくみをとっています。このしくみは他に贈与税や（ B ）にも適用されています。法人税は所得税の一種ですが、会社や組合などの法人に掛けられる税金です。所得税も法人税も納税者と税負担者が同一の（ C ）で、納税先は（ D ）になります。

	A	B	C	D
ア	累進課税	固定資産税	直接税	地方
イ	二重課税	固定資産税	間接税	国
ウ	二重課税	相続税	間接税	地方
エ	累進課税	相続税	直接税	国

問4. 下線部④について、消費税の説明として正しいものを次のア～エより一つ選び、記号で答えなさい。

- ア. 消費税は1989年に竹下内閣のもとで導入された。しかし、世論の反発は大きく、当初は2%の税率でスタートした。
イ. 消費税は2005年に橋本内閣のもとで5%に引き上げられた。増税の理由は福祉政策や年金・医療の充実であった。
ウ. 消費税は所得の多少にかかわらず税率が同じため、逆進性が強いことから低所得者層には重い負担となる。
エ. 消費税は間接税で、国税として1%が国へ、特別地方消費税として4%が地方へ分配される。

問5. 下線部⑤について、景気が良くないときに政府が行う政策の説明として正しいものを次のア～エより一つ選び、記号で答えなさい。

- ア. 政府は増税を行い、市場における通貨量を減らすようにする。また公共事業を積極的に行う。
イ. 政府は増税を行い、市場における通貨量を減らすようにする。一方で給付金などを国民全体に支給する。
ウ. 政府は減税を行い、市場における通貨量を増やそうとする。また公共事業を積極的にを行い、給付金なども支給する。
エ. 政府は減税を行い、市場における通貨量を増やそうとする。また、公共事業は縮小していく。

問6. 下線部⑥について、円高の特徴や影響の説明として正しいものを次のア～エより一つ選び、記号で答えなさい。

- ア. 円高はすべての日本企業に悪影響を与え、企業の利益が大幅に減ることがある。そして、雇用不安など問題が発生しやすくなる。
イ. 円高は日本の輸出企業には悪影響をあたえ、輸入企業には好影響を与える。これはドル建てで売買を行っているからである。
ウ. 円高が進むと、輸入品の価格が上昇し、消費者は外国製品を買いにくくなる。
エ. 円高が進むと、国内経済は活発になり、企業も大きな利益を得ることとなる。特に輸出が活発になる。

