

平成24年度
高等学校入学者選抜学力検査問題

第 3 部

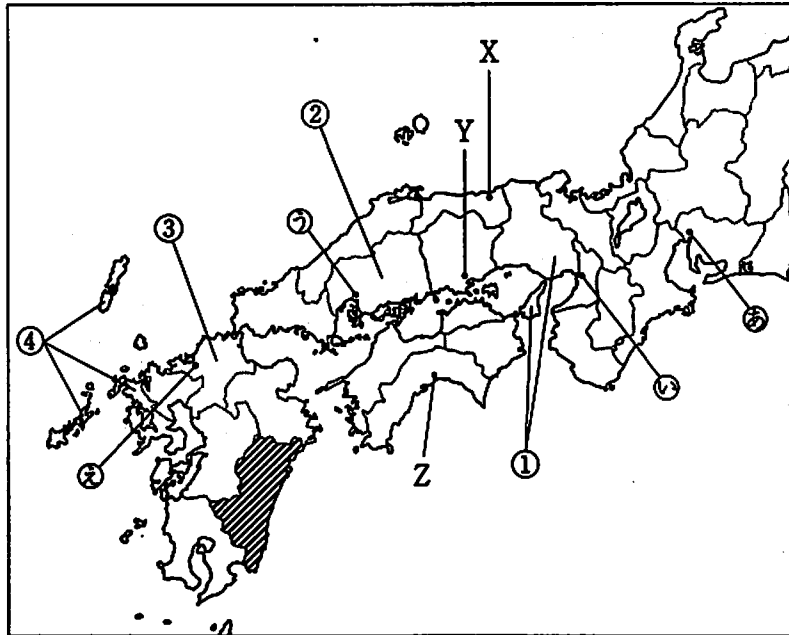
社 会

注 意

- 1 問題は、 から まであり、11ページまで印刷してあります。
- 2 答えは、すべて別紙の解答用紙に記入し、解答用紙だけ提出しなさい。
- 3 問いのうち、「……選びなさい。」と示されているものについては、問いで指示されている記号で答えなさい。

1 次の略地図を見て、問いに答えなさい。

略地図



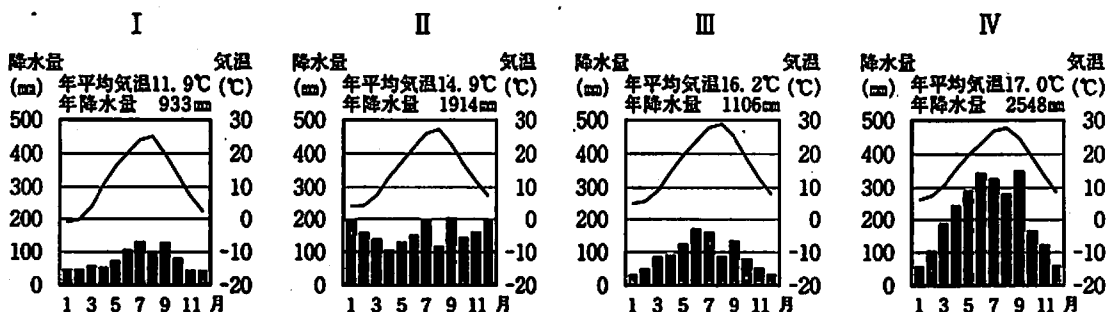
問1 次の(1), (2)に答えなさい。

- (1) 略地図の①～④の県のうち、近畿地方にある県を記号で書きなさい。また、その県の名を書きなさい。
- (2) 次のa～dの文は、それぞれ略地図の①～④のいずれかの県について述べたものです。a～dそれぞれに当てはまる県の組み合わせとして正しいものを、ア～エから1つ選びなさい。

- a 今治市と連絡橋で結ばれている都市がある。
 b 倭の奴国の王が漢の皇帝からさずかったとされる金印が発見された。
 c 1945年8月9日に原子爆弾が投下された都市がある。
 d 日本の標準時を決めている東経135度の経線が通っている都市がある。

- ア a-①, b-④, c-③, d-② イ a-①, b-③, c-④, d-②
 ウ a-②, b-④, c-③, d-① エ a-②, b-③, c-④, d-①

問2 次のI～IVのグラフは、それぞれ略地図のX～Zの都市を含むいずれかの日本の都市の気温と降水量を示しています。X～Zのそれぞれの都市に当てはまるグラフの組み合わせとして正しいものを、ア～エから1つ選びなさい。

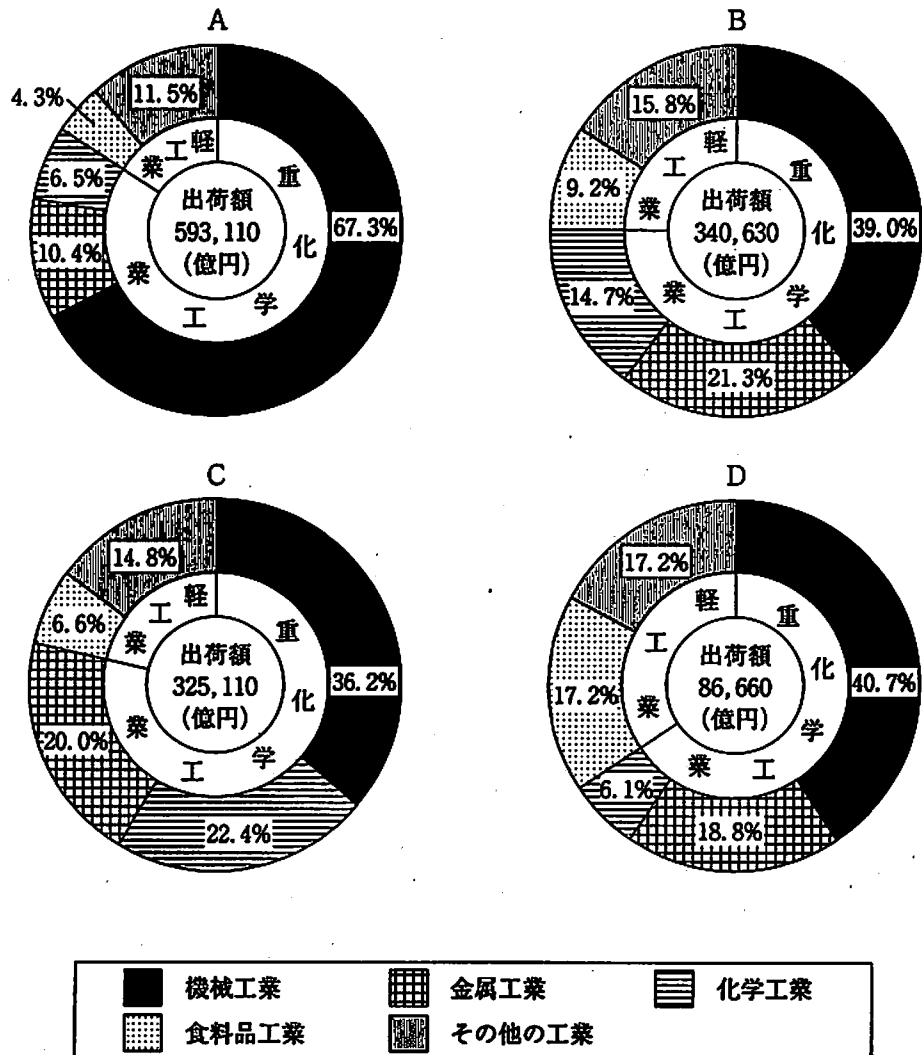


- ア X-I, Y-II, Z-IV イ X-II, Y-I, Z-III
 ウ X-I, Y-III, Z-II エ X-II, Y-III, Z-IV

問3 次のA～Dのグラフは、それぞれ略地図の①～④のいずれかの都市を含む工業地帯や工業地域の2007年における工業別の出荷額の割合を示したものです。これらのグラフを見て、次の(1)、(2)に答えなさい。

- (1) ①の都市を含む工業地帯のグラフを、A～Dから選びなさい。
 (2) Cのグラフの機械工業の出荷額は、Dのグラフの機械工業の出荷額のおおよそ何倍になりますか、ア～エから選びなさい。

ア 1.1倍 イ 2.3倍 ウ 3.3倍 エ 4.5倍



(日本国勢図会2010/11年版より作成)

問4 略地図の ▨ の県では、温暖な気候をいかした促成栽培が行われています。促成栽培を行う生産者の利点を、「出荷時期」と「価格」という2つのことばを使い、簡単に書きなさい。

2 次の略年表を見て、問いに答えなさい。

略年表

| 時代 | 西暦(年) | できごと |
|--------|-------|-------------------|
| ①奈良時代 | 743 | 聖武天皇が墾田永年私財法を出す |
| X 時代 | 1016 | ②藤原道長が摂政となる |
| 鎌倉時代 | 1274 | 元軍が博多湾沿岸に上陸する |
| 室町時代 | 1543 | ③ポルトガル人によって鉄砲が伝わる |
| 安土桃山時代 | | |
| 江戸時代 | 1841 | 水野忠邦が天保の改革を始める |

Y

問1 X に当てはまる時代の名を書きなさい。

問2 下線部①の文化に関して述べた文として正しいものを、ア～エから1つ選びなさい。

- ア かな文字を用いて「源氏物語」がつけられた。
- イ お伽草子とよばれる絵入りの物語がつけられた。
- ウ 地方の伝承や産物などを記した「風土記」がつけられた。
- エ こっけいなことをえがいた「東海道中膝栗毛」がつけられた。

問3 下線部②に関して述べた次の文の A に当てはまることばを、漢字2字で書きなさい。また、B に当てはまる人の名を書きなさい。

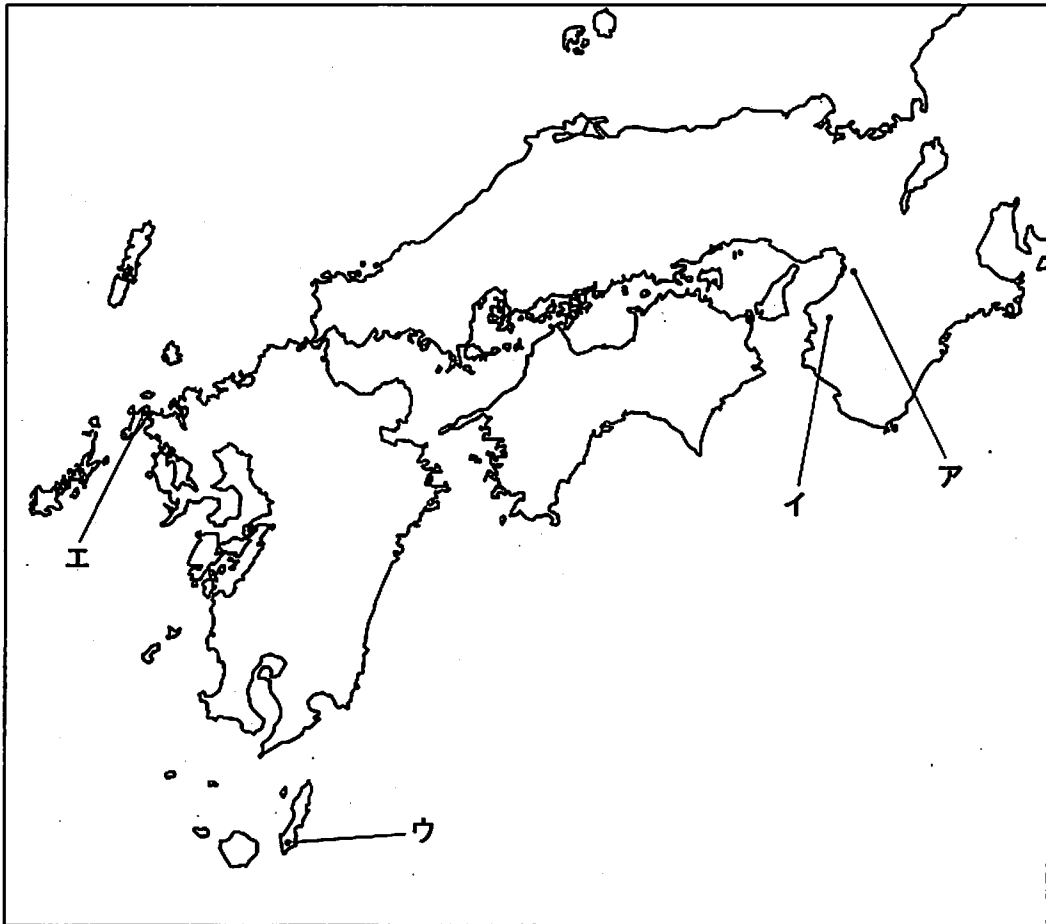
藤原氏は、自らの娘を天皇の^{きんぎょ}后とし、生まれた子を天皇に立てて、天皇が幼いときには摂政、成人したのちには A の職について、天皇にかわって政治を行った。このような政治は、11世紀前半の藤原道長と、その子である藤原 B のころに、全盛期をむかえた。

問4 下線部③に関して述べた次の文を読んで、(1)、(2)に答えなさい。

1543年、わが国に初めて鉄砲が伝えられた。鉄砲は、a 戦国大名らに新しい兵器として注目され、b 国友や堺などにいた刀鍛冶職人によって製造されるようになった。

- (1) 線aについて、室町幕府を滅ぼし、長篠の戦いで鉄砲を効果的に用いて、武田氏を破った人の名を漢字4字で書きなさい。
- (2) 線bについて、国友は現在のどの都道府県にありましたか、現在の都道府県の名を書きなさい。また、堺のおおよその位置を、次の略地図のア～エから選びなさい。

略地図



問5 Yの時期におきたできごとをア～オから3つ選び、年代の古い順に並べなさい。

- ア チンギス・ハンによって、モンゴルが統一された。
- イ 高麗がほろび、朝鮮国が建てられた。
- ウ 日米和親条約が結ばれた。
- エ フランス革命がおこった。
- オ 琉球王国が建てられた。

- 3 次の表は、直子さんが、家族のできごとと社会のできごとについて調べ、まとめたものの一部です。これを見て、問いに答えなさい。

表

| 西暦 (年) | 家族のできごと | 社会のできごと |
|--------|-----------|---|
| 1966 | 父が生まれる。 | ・日本の人口が1億人を突破する。 ・世界人権宣言に法的な拘束力をもたせ、人権を保障した <input type="text" value="A"/> が、国際連合において採択される。日本は1979年に <input type="text" value="A"/> に加入する。 |
| 1968 | 母が生まれる。 | ・日本の国民総生産(GNP)が資本主義国で第2位になる。 |
| 1988 | 父と母が就職する。 | ・土地や ^① 株式の価格が上昇し、バブル経済とよばれる ^② 好景気(好況)が続く。 |
| 1991 | 父と母が結婚する。 | ・バブルが崩壊する。 |
| 1996 | 私が生まれる。 | ・アトランタでオリンピックが開催される。 |
| 1999 | 弟が生まれる。 | ・ ^③ 男女共同参画社会基本法が制定される。 |

問1 に共通して当てはまることばを書きなさい。

問2 直子さんの父親が生まれてから結婚するまでにおきたできごととして、誤っているものを、ア～オから2つ選びなさい。

- ア 日本で石油危機がおきた。
- イ 沖縄が日本に復帰した。
- ウ 地球温暖化防止京都会議が開かれた。
- エ 東京オリンピックが開催された。
- オ 日本で消費税が初めて導入された。

問3 下線部①に関して述べた次の文の に共通して当てはまることばを、漢字2字で書きなさい。また、{ } に当てはまることばを、ア、イから選びなさい。

株式を購入した人は とよばれ、会社の利益(利潤)の一部を{ア 利子
イ 配当}として受け取ったり、 総会で決算の承認や役員を選出などを行ったりすることができる。

問4 下線部②について、次の文の { } (1)~(3)に当てはまることばを、それぞれア、イから選びなさい。

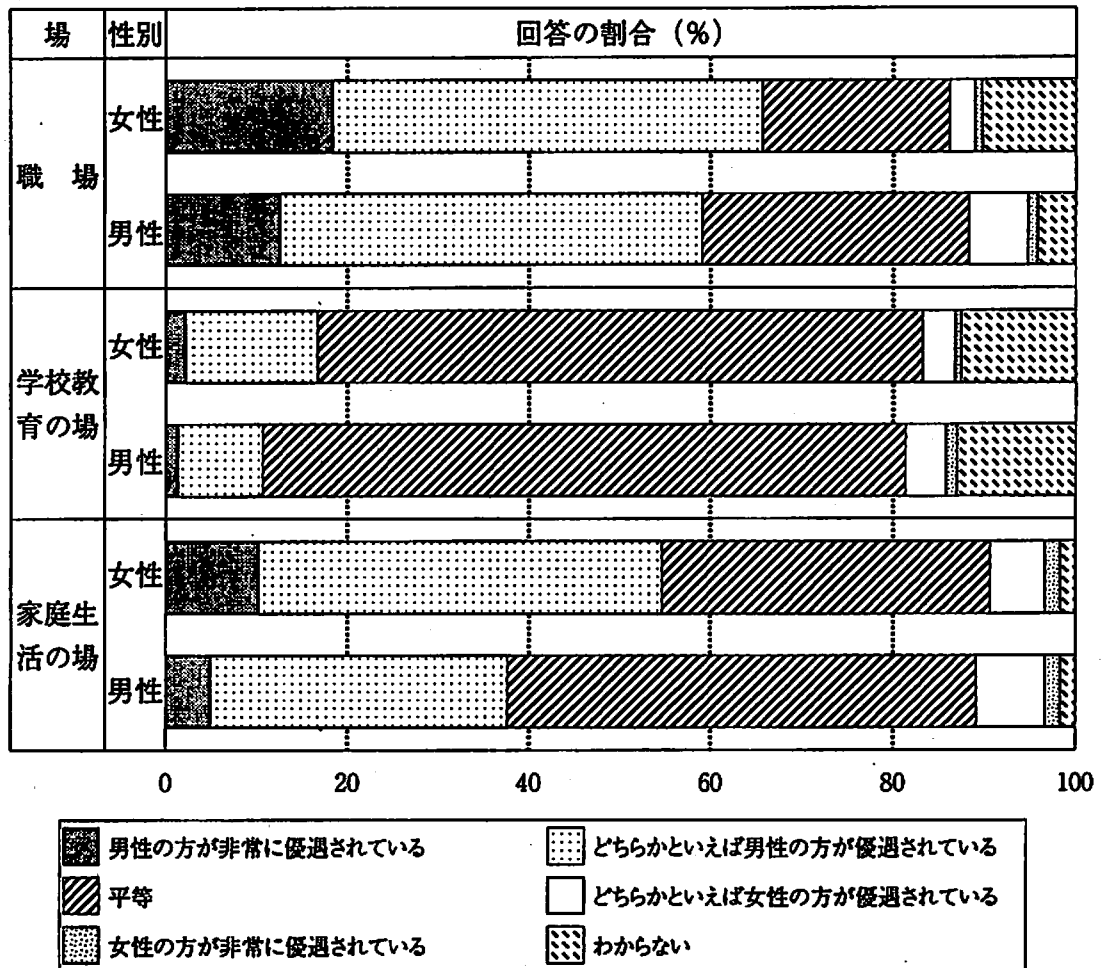
一般に、好景気的时候には、景気が行き過ぎて物価が(1) {ア 上昇 イ 下落} するインフレーションの状態になる危険があるため、政府は、公共事業への支出(公共支出)を(2) {ア 増加 イ 減少} させたり、(3) {ア 増税 イ 減税} を行ったりして景気をおさえようとする。

問5 下線部③に関して述べた次の文の〔 〕(1), (2)に当てはまることばを、それぞれア～ウから選びなさい。

次のグラフは、男女共同参画社会に関する世論調査で、「男女の地位が、『職場』、『学校教育の場』、『家庭生活の場』のそれぞれにおいて、平等になっていると思うか」という質問に対する回答の割合を男女別に示したものである。「平等」と回答した割合で、女性と男性の差が最も大きいのは、(1)〔ア 職場 イ 学校教育の場 ウ 家庭生活の場〕である。

また、「男性の方が非常に優遇されている」と回答した割合と「どちらかといえば男性の方が優遇されている」と回答した割合の合計が、女性と男性ともに最も高いのは、(2)〔ア 職場 イ 学校教育の場 ウ 家庭生活の場〕である。

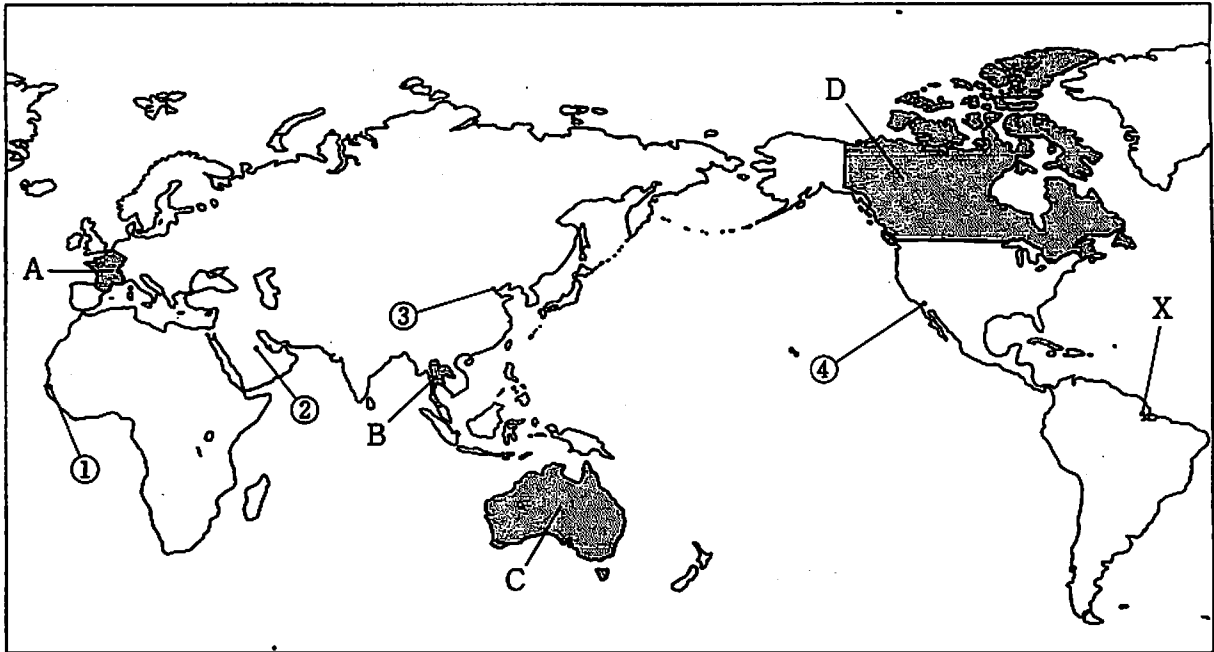
グラフ



(内閣府「男女共同参画社会に関する世論調査」(平成21年10月調査)より作成)

4 次の略地図を見て、問いに答えなさい。

略地図



問1 略地図のA～Dからいずれか1つの国を選び、次の(1), (2)に答えなさい。

- (1) あなたが選んだ国を、A～Dの記号で書きなさい。また、その国の首都の名を書きなさい。
- (2) 次の表1のア～エには、略地図のA～Dの国のいずれかが当てはまります。あなたが(1)で選んだ国に当てはまるものを、ア～エから選びなさい。

表1

| 項目 国 | 日本への輸出 | | 小麦の生産量 (千t) | 木材の生産量 (千m ³) | 石炭の生産量 (千t) |
|---------|------------------|------------------|----------------|------------------------------|----------------|
| | 食料品の輸出 額 (億円) | 輸出している おもな食料品 | | | |
| ア | 2,679 | 魚介類 | 1 | 28,315 | 8,023 |
| イ | 4,399 | 肉類 | 13,039 | 32,264 | 216,859 |
| ウ | 3,568 | 肉類 | 20,054 | 160,792 | 33,900 |
| エ | 1,984 | ワイン | 32,770 | 58,786 | 236 |

(世界国勢図会2009/10年版, 総務省統計局「世界の統計2011年版」, 財務省貿易統計2007年版より作成)

問2 略地図の①～④の都市を、札幌との時差が大きい順に並べなさい。ただし、サマータイム制度は考えないものとします。

問3 略地図のXの都市が属する気候帯の名を書きなさい。また、その気候帯にみられる特徴を述べた文として正しいものを、ア～エから1つ選びなさい。

- ア ツンドラが広がっている。
- イ 砂漠が広がっている。
- ウ タイガ (針葉樹の森林) が広がっている。
- エ マングローブ林が広がっている。

問4 次の表2は、世界の各州の面積を、グラフは、世界の人口に対する州別の人口の割合を示したものです。表2、グラフから読みとったことがらを述べた次の文の { } (1), (2)に当てはまることばを、それぞれア～ウから選びなさい。

各州の面積の合計に占める略地図のAの国を含む州の面積の割合は、おおよそ(1) {ア 13% イ 17% ウ 23%} である。

略地図のBの国を含む州とCの国を含む州の、2006年の人口密度を比較すると、Bの国を含む州は、Cの国を含む州のおおよそ(2) {ア 4倍 イ 33倍 ウ 121倍} である。

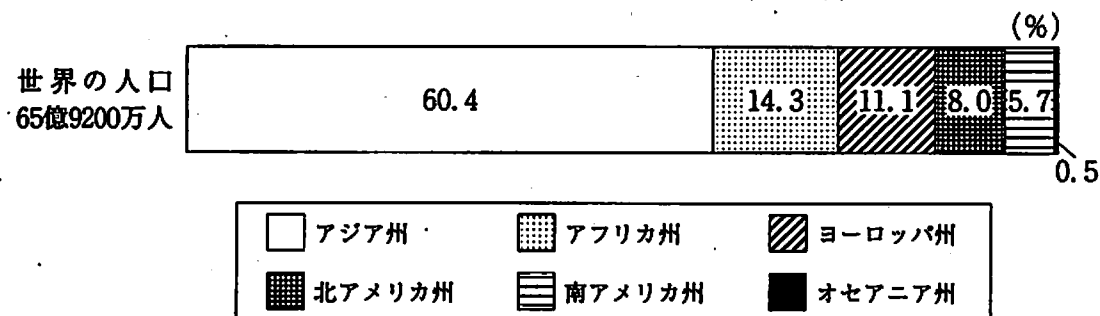
表2 世界の各州の面積 (2006年)

(万km²)

| アジア州 | アフリカ州 | ヨーロッパ州 | 北アメリカ州 | 南アメリカ州 | オセアニア州 | 合計 |
|-------|-------|--------|--------|--------|--------|--------|
| 3,190 | 3,030 | 2,300 | 2,450 | 1,780 | 860 | 13,610 |

(世界国勢図会2009/10年版より作成)

グラフ 世界の人口に対する州別の人口の割合 (2006年)



(総務省統計局「世界の統計2011年版」より作成)

5 次の資料A～Dを見て、問いに答えなさい。

資料A

サンフランシスコ平和条約の調印の様子

写真

この写真は、アメリカのサンフランシスコにおいて、わが国の内閣総理大臣（首相）である が、平和条約に調印している様子を写したものです。

資料B

大日本帝国憲法の発布式の様子

絵

この絵は、宮中正殿において、天皇が、内閣総理大臣（首相）である黒田清隆へ ①大日本帝国憲法を手わたしている様子をえがいたものです。

資料C

日ソ共同宣言の調印の様子

新聞記事

この新聞記事は、ソ連のモスクワにおいて、わが国の内閣総理大臣（首相）である鳩山一郎とソ連の代表が、②日ソ共同宣言に調印している様子を伝えたものです。

資料D

大政奉還の決意を伝えている様子

絵

この絵は、京都の二条城において、第15代将軍の徳川慶喜が、朝廷に政権を返還する決意を、幕臣らへ伝えている様子をえがいたものです。

問1 資料Aの に当てはまる内閣総理大臣（首相）の名を書きなさい。

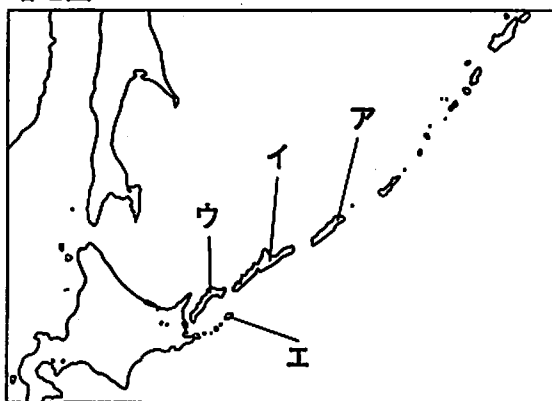
問2 資料Bの下線部①を作成するために、わが国の政府が参考にしたドイツ（プロイセン）の憲法にみられる政治制度の特徴を、「君主」ということばを使い、簡単に書きなさい。

問3 資料Cの下線部②に関して述べた次の文を読んで、(1)、(2)に答えなさい。

わが国は、日ソ共同宣言に調印して、ソ連との国交を回復した。しかし、日ソ間の領土問題は解決しなかった。日ソ間の領土問題は、ソ連からロシア連邦に引き継がれたが、現在も未解決である。わが国の政府が、ロシア連邦政府に対して返還を求めている、わが国固有の領土である北方領土は、 群島、 島、 島、択捉島からなっている。

- (1) ~ のそれぞれに当てはまることばを書きなさい。
(2) 下線部 の位置を、次の略地図のア~エから選びなさい。

略地図



問4 資料Dに関して、次の(1)、(2)に答えなさい。

- (1) 資料Dに示されているできごとの後におきたことについて述べた次の文の { }
(a)、(b)に当てはまることばを、それぞれア、イから選びなさい。

徳川慶喜は、新政府から官職と領地の返還を迫られ、新政府への参加をゆるされなかった。このことを不満とした旧幕府軍は、(a) {ア 下関 イ 鳥羽・伏見} で新政府軍と戦いを始めた。その後、新政府軍と各地で戦いをくりひろげ、函館での戦いを最後に新政府軍に降伏した。これらの戦いを(b) {ア 戊辰戦争 イ 西南戦争} という。

- (2) 資料Dに示されているできごとに、最も近い時期のわが国のできごとと、最も遠い時期のわが国のできごとを、それぞれア~エから選びなさい。

ア 教育基本法が制定され、小学校と中学校が義務教育となった。

イ 女性がバスの車掌や電話交換手の職業に初めて進出した。

ウ 新橋と横浜との間に鉄道が開通した。

エ ラジオ放送が始まった。

問5 資料A~Dを年代の古い順に並べなさい。

6

次の文を読んで、問いに答えなさい。

国の権力が一つの機関に集中すると、きわめて大きな力となり、それが濫用されると①国民の自由がおびやかされるおそれがある。そのため、わが国では、②国の政治のしくみとして、権力を立法、行政、司法の三権に分け、それぞれを③国会、内閣、④裁判所という独立した機関が担当している。また、⑤地方の政治のしくみにおいても、議会と首長のどちらか一方に権力が集中しないようにしている。

問1 下線部①に関して、次のa～dは、それぞれ「身体（生命・身体）の自由」、「精神（精神活動）の自由」、「経済活動の自由」のいずれかに当てはまります。当てはまるものの組み合わせとして正しいものを、ア～エから選びなさい。

- a 集会・結社・表現の自由 b 奴隷的拘束および苦役からの自由
c 思想および良心の自由 d 居住・移転および職業選択の自由

| | 身体（生命・身体）の自由 | 精神（精神活動）の自由 | 経済活動の自由 |
|---|--------------|-------------|---------|
| ア | a, b | c | d |
| イ | b | a, c | d |
| ウ | b, d | c | a |
| エ | c | a, d | b |

問2 下線部②について、わが国の議院内閣制のしくみを、「信任」と「責任」の2つのことばを使い、簡単に書きなさい。

問3 下線部③で制定された、ある法律に関して述べた次の文の , に当てはまる数字を、それぞれア～オから選びなさい。また、 に当てはまることばを書きなさい。

右の表から、1960年における65歳以上の割合は、おおよそ 人に1人、2000年における65歳以上の割合は、おおよそ 人に1人となっていることがわかる。このように高齢者の割合が高くなる中、入浴や排せつなどの が必要な人の増加に備えて、 保険法が制定された。

表 わが国の年齢別人口の割合(%)

| 年齢 | 1960 | 2000 |
|--------|------|------|
| 14歳以下 | 30 | 15 |
| 15～64歳 | 64 | 68 |
| 65歳以上 | 6 | 17 |

(総務省統計局「平成17年国勢調査報告」より作成)

ア 3 イ 6 ウ 7 エ 15 オ 17

問4 下線部④に関して述べた次の文の , に当てはまることばを、それぞれ漢字2字で書きなさい。

わが国の裁判において、第一審の判決に不服の場合、上級の裁判所に することができ、第二審の判決に不服の場合、さらに、上級の裁判所に することができる。このしくみを三審制という。

問5 下線部⑤に関して、神奈川県川崎市がわが国で初めて導入した、住民の苦情を処理したり、行政が適切に行われているかどうかを監視したりする制度の名を書きなさい。また、この制度を世界で最初に始めた国の名を書きなさい。

第3部 社会

正 答 表

| 問題番号 | 正 答 | 配点 | 通し番号 | 採点基準 |
|------|--|--------|--------|-----------------------------|
| 1 | 問1 (1) 記号 ① 県の名 兵庫(県) | 1 | ① | 完全解答 |
| | (2) エ | 2 | ② | |
| | 問2 エ | 2 | ③ | |
| | 問3 (1) A (2) ウ | 1 1 | ④ ⑤ | |
| 問4 | (正答例) 出荷時期を早めて、 高い価格で売ることが できる。 | 3 | ⑥ | 内容や表現が不 十分な場合は1 点とする。 |
| 2 | 問1 平 安 | 1 | ⑦ | |
| | 問2 ウ | 2 | ⑧ | |
| | 問3 A 関 白 B 頼 通 | 2 | ⑨ | Aは漢字指定 完全解答 |
| | 問4 (1) 織田信長 (2) 滋賀県 ア | 2 2 | ⑩ ⑪ | 漢字指定 「滋賀」も可。 完全解答 |
| | 問5 古い → 新しい イ オ エ | 2 | ⑫ | 完全解答 |
| 3 | 問1 国際人権規約 | 2 | ⑬ | |
| | 問2 ウ エ | 2 2 | ⑭ ⑮ | 完全解答 順 不 同 |
| | 問3 株 主 イ | 2 | ⑯ | 漢字指定 完全解答 |
| | 問4 (1) ア (2) イ (3) ア | 2 2 | ⑰ ⑱ | 完全解答 |
| | 問5 (1) ウ (2) ア | 2 2 | ⑲ ⑳ | 完全解答 |

| 問題番号 | 正 答 | 配点 | 通し番号 | 採点基準 |
|------|---|-------------|-------------|--|
| 4 | 問1 (1) 選んだ国の 首都の名 (2) A パ リ エ B バンコク ア C キャンベラ イ D オタワ ウ | 2 | ⑳ | 完全解答 左記の組み合 わせのうち、 1つが書かれ ていれば可。 |
| | 問2 大きい → 小さい ④ ① ② ③ | 2 | ㉑ | 完全解答 |
| | 問3 熱 帯 記号 エ | 2 | ㉒ | 完全解答 |
| | 問4 (1) イ (2) イ | 1 1 | ㉓ ㉔ | |
| 5 | 問1 吉田茂 | 1 | ㉕ | |
| | 問2 (正答例) 君主が強い権限を もっていること。 | 2 | ㉖ | |
| | 問3 (1) a 歯 舞 b 色 丹 c 国 後 (2) イ | 2 1 | ㉗ ㉘ | 完全解答 b, cは順不同 |
| | 問4 (1) (a) イ (b) ア (2) ウ ア | 1 1 1 | ㉙ ㉚ ㉛ | 完全解答 完全解答 |
| | 問5 古い → 新しい D B A C | 2 | ㉜ | 完全解答 |
| 6 | 問1 イ | 2 | ㉝ | |
| | 問2 (正答例) 内閣が、国会の信任 にもとづいて成立 し、国会に対して責 任を負うしくみ。 | 3 | ㉞ | 内容や表現が不 十分な場合は1 点とする。 |
| | 問3 a オ b イ c 介 護 | 1 1 1 | ㉟ ㊱ ㊲ | 完全解答 |
| | 問4 a 控 訴 b 上 告 | 2 | ㊳ | 完全解答 漢字指定 |
| | 問5 職の名 オンブズマン(制 度) 目の名 スウェーデン | 2 | ㊴ | 「オンブズ(制 度)」も可。 完全解答 |
| 計 | | 60 | | |

- (注) 1 「漢字で書きなさい。」と指示しているところ以外は、かなを用いて記入しても正答とする。
 2 1の問4, 6の問2以外は、中間点を認めない。
 3 その他正答表に示された事項以外のものについては、学校の判断による。