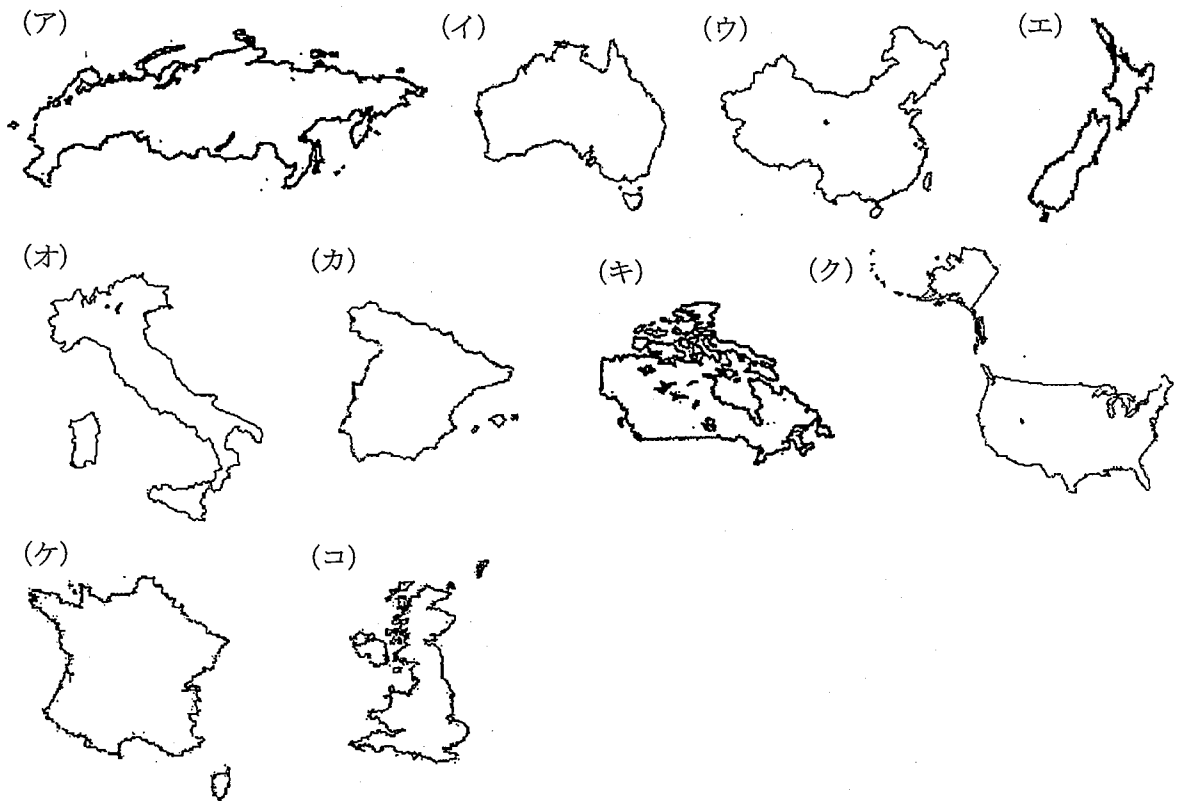


I. 今年の7月末から8月中旬にかけて、夏季オリンピックとしては記念すべき第30回のロンドン大会が開催されます。この第30回大会開催に向けて、当初は世界で9都市が立候補していましたが、ロンドン・パリ・マドリード・ニューヨーク・モスクワの5都市に選ばれ、最終的にロンドンに決定されました。

次期オリンピックが開催されるロンドンをはじめ、選考に残った他の4都市に関するあとの各問いに答えなさい。

問1 〈1〉ロンドン、〈2〉パリ、〈3〉マドリード、〈4〉ニューヨーク、〈5〉モスクワの都市がある国の形を次の中からそれぞれ選び、記号で答えなさい。[縮尺は同一ではありません。]



問2 ロンドンには、経度をはかる基準となる経線が通っています。〈i〉この経度0度の経線の別名を漢字5字で答えなさい。また、〈ii〉アフリカ大陸において、この経線が通る国を次の中から選び、記号で答えなさい。

(ア) ガーナ (イ) ケニア (ウ) ナイジェリア (エ) 南アフリカ共和国

問3 7月27日のオリンピック開会式を見るために、7月24日午後11時に関西国際空港を出発し、11時間かかってアラブ首長国連邦のドバイに到着しました。このドバイで乗り継ぎをおこない、3時間後に再び離陸して、8時間後にロンドンに到着しました。飛行機がロンドンに到着したのは、現地時間で何日の何時ですか。[午前・午後も明らかにしなさい。]

問4 ロンドンを首都とする国はかつて「世界の工場」とよばれていましたが、近年ではその地位は、他の国に対して使われています。その国は、ブラジルやインドとともに経済成長が著しく、現在では世界第2位の経済大国になっています。この国の正式名称を答えなさい。

問5 パリを首都とする国について述べた文として正しいものを選び、記号で答えなさい。

- (ア) チューリップなどの園芸農業が盛んな国である。
- (イ) EU加盟国だがユーロを導入せず、ポンドを通貨として使っている。
- (ウ) 外国人労働者が多く、特にトルコからの労働者が多い国である。
- (エ) 食料や飼料用の作物の栽培と牧畜を組み合わせた農業が盛んな国である。

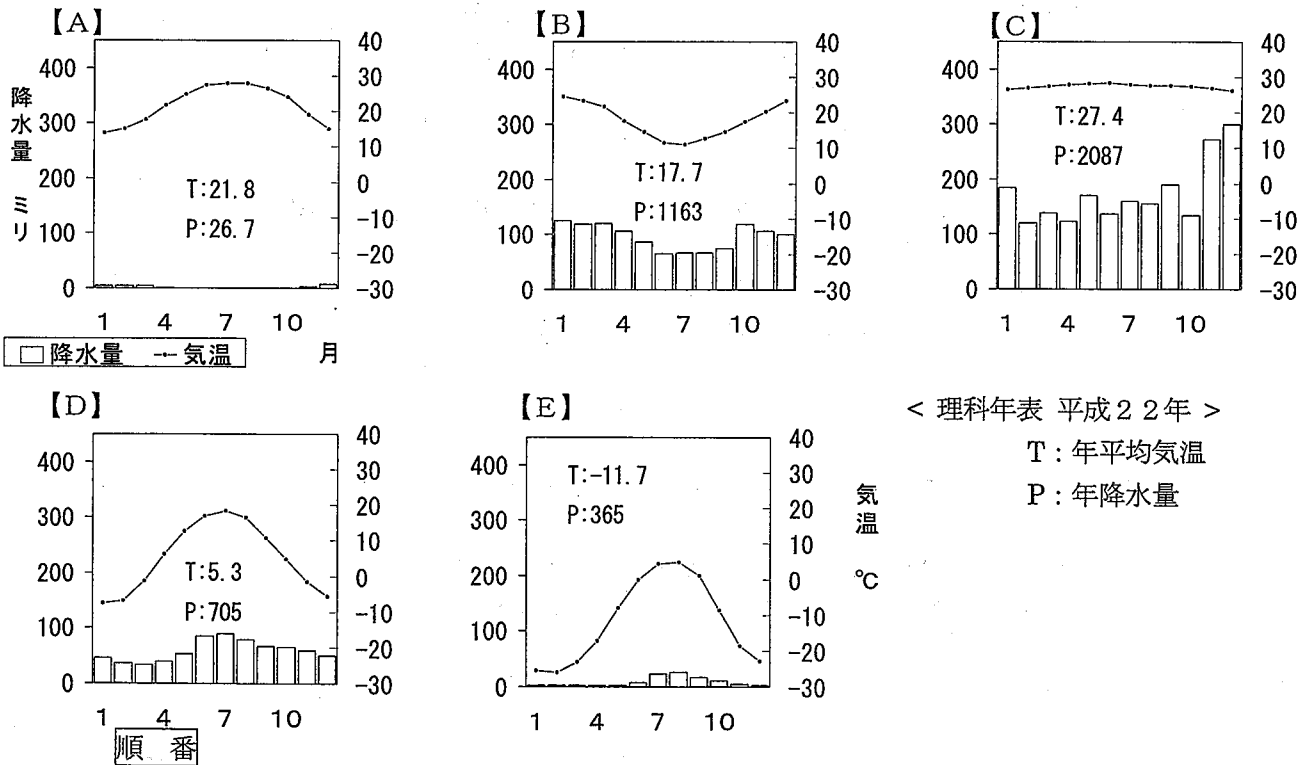
問6 マドリッドとほぼ同緯度にある日本の県を次の中から選び、記号で答えなさい。

- (ア) 愛知県 (イ) 青森県 (ウ) 栃木県 (エ) 福岡県

問7 1929年にニューヨークの株式市場の大暴落から始まった世界恐慌に対して、ロンドンやパリを首都とする国では植民地との結びつきを強化して対応を行いました。〈i〉この世界恐慌への経済政策を何といいますか。また、〈ii〉ロンドンを首都とする国がかつて植民地として支配したことのない国を次の中から選び、記号で答えなさい。

- (ア) オーストラリア (イ) カナダ (ウ) ベトナム (エ) 南アフリカ共和国

問8 モスクワは世界の気候帯では亜寒帯[冷帯]に属します。世界の気候帯に属する代表的な都市の雨温図を表すと下のようになります。下の雨温図が表す気候帯の総面積を大きい順に並べるとどうなりますか。あとの順番 (ア) ~ (エ) から選び、記号で答えなさい。



< 理科年表 平成22年 >

T: 年平均気温

P: 年降水量

- (ア) 【A】 → 【B】 → 【D】 → 【C】 → 【E】
- (イ) 【A】 → 【D】 → 【C】 → 【E】 → 【B】
- (ウ) 【D】 → 【A】 → 【E】 → 【C】 → 【B】
- (エ) 【D】 → 【B】 → 【A】 → 【C】 → 【E】

問9 ロンドンやニューヨークは、金融センターとして銀行や証券会社・保険会社など金融業において中心的な役割をもつ都市です。この金融センターとしての重要度は毎年2~3回発表され、

変動がありますが、ロンドンやニューヨークは不動の上位を保っています。近年ではこれらに続く都市として、ホンコンやシンガポールがあげられます。この2都市はかつて、アジアで急速に工業化が進み、経済発展が進んだ地域として有名です。この地域を総称して何といいますか、アルファベットで答えなさい。

問 10 今回のロンドンオリンピックは、同じ都市での開催としてはオリンピック史上最多の3回目となります。前回は1948年の第14回大会でした。この1948年に、世界では新たに複数の国が成立しました。その国にあてはまらないものを次の中から選び、記号で答えなさい。

(ア) イスラエル (イ) タイ (ウ) 大韓民国 (エ) 朝鮮民主主義人民共和国

II. 昨年日本では9月に内閣総理大臣が代わりました。また今年は4年に一度のアメリカ合衆国の大統領選挙の年にあたります。フランスや、ロシア、中国などでも行政機関の長を決める選挙が行われます。日本やアメリカの政治や選挙のしくみなどについて、一緒に考えてみましょう。

問 1 日本やアメリカの政治のしくみについて述べた次のA・Bの文の正誤の組み合わせとして正しいものを選び、記号で答えなさい。

A. 日本では議院内閣制が採用され、国民から直接選挙によって内閣総理大臣が選出される。

B. アメリカでは大統領制が採用され、大統領は連邦議会議員によって選出される。

(ア) A—正 B—正 (イ) A—正 B—誤

(ウ) A—誤 B—正 (エ) A—誤 B—誤

問 2 日本の国会議員の定数や任期について述べた次のA・Bの文の正誤の組み合わせとして正しいものを選び、記号で答えなさい。

A. 衆議院議員の定数は参議院議員の定数より多い。

B. 参議院議員の任期は衆議院議員の任期より長い。

(ア) A—正 B—正 (イ) A—正 B—誤

(ウ) A—誤 B—正 (エ) A—誤 B—誤

問 3 日本の選挙制度について述べた次のA・Bの文の正誤の組み合わせとして正しいものを選び、記号で答えなさい。

A. 衆議院議員選挙は小選挙区制と比例代表制を併用している。

B. 参議院議員選挙は比例代表制で全議員が選ばれる。

(ア) A—正 B—正 (イ) A—正 B—誤

(ウ) A—誤 B—正 (エ) A—誤 B—誤

問 4 日本の選挙の4つの原則は、「普通選挙」と「平等選挙」とあと2つは何ですか。組み合わせとして正しいものを次の中から選び、記号で答えなさい。

(ア) 「間接選挙」と「公開選挙」 (イ) 「間接選挙」と「秘密選挙」

(ウ) 「直接選挙」と「公開選挙」 (エ) 「直接選挙」と「秘密選挙」

問 5 近年は選挙権の年齢制限を引き下げることが検討されています。次の(a)(b)の文は現在の規定について述べたものです。〈 1 〉～〈 6 〉にあてはまる数字を答えなさい。同じ数字を2度以上使用しても構いません。

(a) 衆議院議員選挙の選挙権の年齢制限は〈 1 〉才以上、参議院議員の選挙権の年齢制限は〈 2 〉才以上である。また、衆議院議員の被選挙権の年齢制限は〈 3 〉才以上、参議院議員の被選挙権の年齢制限は〈 4 〉才以上である。

(b) 衆議院が解散されたときは、解散の日から〈 5 〉日以内に総選挙を行い、その選挙の日から〈 6 〉日以内に国会を召集しなければならない。

問6 次の文は天皇についての憲法の条文です。〈 1 〉～〈 4 〉にあてはまる語句を漢字2字で答えなさい。

「天皇の国事に関するすべての行為には、〈 1 〉の助言と承認を必要とし、〈1〉がその責任を負ふ」

《第3条》

「天皇は、〈 2 〉の〈 3 〉に基づいて、内閣総理大臣を〈 4 〉する。・・・」

《第6条》

問7 政治活動は政党を中心として行われています。そのために日本にもアメリカにもいくつかの政党があります。4年前に選出されたアメリカのオバマ大統領の所属する政党名を答えなさい。

Ⅲ. 昨年、中国で辛亥革命が勃発<sup>ほっぱつ</sup>してから百年後の節目の年でした。そこで、辛亥革命前後の日本と中国との関係や、近代以降の革命の歴史について、一緒に考えてみましょう。

辛亥革命以前の日本と中国（清王朝）は、1894年に①朝鮮半島で勃発した農民反乱をきっかけに日清戦争をおこしました。その結果日本が勝利し、両国間で〈 1 〉条約が結ばれました。清が日本に敗れたことを知った②ヨーロッパ列強諸国は、こぞって中国へ進出したため、中国は半植民地状態になってしまいました。

問1 下線部①について述べた次のA・Bの文の正誤の組み合わせとして正しいものを選び、記号で答えなさい。

A. 当時の朝鮮半島は、日朝修好条規がきっかけとなって、開国していた。

B. 反乱をおこした農民たちは、キリスト教思想に基づく宗教を信仰していた。

(ア) A—正 B—正 (イ) A—正 B—誤

(ウ) A—誤 B—正 (エ) A—誤 B—誤

問2 上の文章中の〈 1 〉にあてはまる条約名を次の中から選び、記号で答えなさい。

(ア) 下関 (イ) 南京 (ウ) 北京 (エ) ポーツマス

問3 〈 1 〉条約とその影響について述べた次の文のうち、誤っているものを選び、記号で答えなさい。

(ア) 清が朝鮮の独立を認めため、清の朝鮮に対する影響力は排除された。

(イ) 清が日本に台湾を割譲し、以後台湾は日本領となった。

(ウ) 日本は清から遼東半島を獲得したが、その後ロシア・イギリス・ドイツに迫られ、清に返還した。

(エ) 日本は清から巨額の賠償金を獲得し、その賠償金は日本の工業化の基金となった。

問4 下線部②について述べた次のA・Bの文の正誤の組み合わせとして正しいものを選び、記号で答えなさい。

A. ヨーロッパ諸国は、重要な港やその周辺地などを清から次々と租借していった。

B. 義和団が立ち上がり、外国勢力を追い払おうとしたが、失敗した。

(ア) A—正 B—正 (イ) A—正 B—誤

(ウ) A—誤 B—正 (エ) A—誤 B—誤

問5 この時期の日本は、明治時代に入って約30年が経過していました。その間におきた次のできごとについて、古い順に正しく並べてあるものを次の中から選び、記号で答えなさい。

【a】西南戦争の勃発

【b】大日本帝国憲法の発布

【c】徴兵令の制定

【d】廃藩置県の実施

(ア) 【c】→【d】→【a】→【b】 (イ) 【c】→【d】→【b】→【a】

(ウ) 【d】→【c】→【a】→【b】 (エ) 【d】→【c】→【b】→【a】

辛亥革命は、1911年に中国の現在の武漢での反乱をきっかけに勃発しました。その翌年、③約300年続いた④清は滅亡し、アジア初の共和国である中華民国の成立が宣言され、〈 2 〉が臨時大総統に選出されました。しかしその後、軍人の〈 3 〉が実権を握り、憲法や議会議会を無視して独裁政治を行ったため、中国では混乱が続きました。

問6 下線部③について、約300年前の日本でのできごととして、一番近い時期のものを選び、記号で答えなさい。

(ア) フランシスコ＝ザビエルがキリスト教を布教した。

(イ) 本能寺の変がおき、織田信長が討たれた。

(ウ) 徳川氏によって、豊臣氏が滅ぼされた。

(エ) 徳川吉宗によって、享保の改革が実施された。

問7 下線部④について、中華民国の建国は、紀元前3世紀に建国された秦王朝以来の皇帝による政治が終わりをつげたことを意味します。秦の建国から清の滅亡までの間に存在した中国の王朝が成立した順序について、正しく並べてあるものを次の中から選び、記号で答えなさい。

(ア) 漢→隋→唐→宋→元→明 (イ) 漢→唐→隋→元→宋→明

(ウ) 隋→漢→唐→宋→明→元 (エ) 隋→漢→宋→唐→明→元

問8 上の文章中の〈 2 〉〈 3 〉にあてはまる人物名の組み合わせとして正しいものを選び、記号で答えなさい。

(ア) 2—袁世凱 3—蔣介石 (イ) 2—袁世凱 3—孫文

(ウ) 2—孫文 3—袁世凱 (エ) 2—孫文 3—蔣介石

問9 〈 2 〉が、辛亥革命勃発以前に掲げた、近代国家建設のための基本理念を何といいますか。

辛亥革命後の日本と中国の関係もあまり良好とはいえません。⑤第一次世界大戦の最中の1915年には、日本が、⑥山東半島の權益を譲り受けることなどを記した要求を中華民国政府につきつけ、中国民衆の激しい反発を招きました。さらに第一次世界大戦後の⑦1919年に開催された講和会議で、山東半島の權益を日本が譲り受けることが決定されると、北京の学生たちは⑧講和条約の調印反対を叫んで立ち上がり、⑨大規模な民衆運動に発展しました。

問 10 下線部⑤勃発の直接原因となった、1914年におきた事件を答えなさい。

問 11 下線部⑥について述べた次の文のうち、正しいものを選び、記号で答えなさい。

- (ア) 第一次世界大戦前に、ドイツ・オーストリア・イタリアの三国協商とイギリス・フランス・ロシアの三国同盟の対立構図ができあがっていた。
- (イ) 第一次世界大戦前のバルカン半島では、諸民族の独立運動の動きを利用して、ドイツとフランスが勢力拡大をはかり、対立していた。
- (ウ) 第一次世界大戦では、飛行機・戦車・毒ガスなどの新兵器が投入された。
- (エ) 第一次世界大戦勃発と同時に、アメリカがドイツに宣戦した。

問 12 下線部⑦を何といいますか。

問 13 下線部⑧で提唱され、その翌年に設立された国際平和機構の名称を、漢字4字で答えなさい。

問 14 下線部⑨を何といいますか。

問 15 下線部⑩を何といいますか。

問 16 この時期の日本は大正時代である。大正時代におきたできごとについて述べた次の文のうち、正しいものを選び、記号で答えなさい。

- (ア) 政治学者の原敬が、民本主義をとらえた。
- (イ) 新潟県の漁村で主婦たちが米の安売りを要求し、米騒動に発展した。
- (ウ) 普通選挙法の制定と同じ年に、治安維持法が制定された。
- (エ) 五・一五事件が勃発し、犬養毅首相が暗殺された。

世界の歴史の中では、辛亥革命の他にも多くの重要な革命をあげることができます。辛亥革命以前では、まず⑩17世紀のイギリスで2度の市民革命がおきました。18世紀後半には、イギリスの所有していた北アメリカ大陸の植民地で独立戦争が勃発し、アメリカ合衆国が誕生しました。アメリカ独立戦争は、市民革命の性格も持っているので、アメリカ独立革命ともよばれています。そして、同じく18世紀末には、⑪フランス革命が勃発しました。また、辛亥革命以降では、1917年にロシアで〈 4 〉の指導の下で社会主義革命が勃発し、世界初の社会主義国家が誕生しました。

問 17 下線部⑩について述べた次のA・Bの文の正誤の組み合わせとして正しいものを選び、記号で答えなさい。

- A. 産業革命が主に重工業の分野を中心におこった。
  - B. アヘン戦争で清に勝利した。
- (ア) A—正 B—正      (イ) A—正 B—誤  
(ウ) A—誤 B—正      (エ) A—誤 B—誤

問 18 下線部⑪勃発直後に、人権の尊重と国民主権の考えを記したものが採択されました。それを何といいますか。

問 19 上の文章中の〈 4 〉にあてはまる人物名を次の中から選び、記号で答えなさい。

- (ア) ゴルバチョフ      (イ) スターリン      (ウ) ラクスマン      (エ) レーニン



I

問1 <1> コ <2> ケ <3> カ <4> ク <5> ア

問2 <i> 本 初 子 午 線 <ii> ア

問3 7月 25日 午前12時 午後12時 午後0時

問4 中華人民共和國

問5 エ

問6 イ

問7 <i> ブロック経済

<ii> ウ

問8 ウ

問9 アジア NIEs

問10 イ

II

問1 エ

問2 ア

問3 イ

問4 エ

問5 <1> 20 <2> 20 <3> 25 <4> 30 <5> 40 <6> 30

問6 <1> 内閣 <2> 国会 <3> 指名 <4> 任命

問7 民主党

III

問1 イ

問2 ア

問3 ウ

問4 ア

問5 ウ

問6 ウ

問7 ア

問8 ウ

問9 三民主義

問10 サラエボ事件

問11 ウ

問12 二十一カ条の要求

問13 国際連盟

問14 ベルサイユ条約

問15 五・四運動


問16 ウ

問17 エ

問18 人権宣言

問19 エ

・ 配点 各2点

・  は漢字指定問題