

2011年度 花園高等学校 第1回 入学試験問題 社会 〈特進〉

※ 解答はすべてマークシートの所定の位置にマークしなさい。

[1] 次の文章を読み、問1～問6に答えなさい。

2010年7月28日～8月20日にかけて“美ら海沖縄総体2010”が開催され、多くの高校生が沖縄県を訪れた。

沖縄県は、日本の(ア)西南端に位置し、多くの島々からなる県である。面積は約2,275 km²で、(1)、大阪府、東京都に次いで4番目に小さな県である。人口は約138万人で、県庁所在地の那覇市には約31万人が暮らしている。1年を通して気温が高く降水量が多い。暖かい気候を利用した花や果実・さとうきび・パイナップルなどの栽培がさかんである。“アグー”とよばれる沖縄在来種の(2)も飼育されており、郷土料理の食材として利用されている。また、豊かな自然を生かした観光産業もさかんで、多くの観光客が沖縄を訪れている。沖縄は、かつては(3)とよばれ、日本と中国との貿易の中継地として繁栄した。このため、本土とは異なる独特な文化が生まれ、首里城跡は(4)の世界文化遺産にも登録されている。

沖縄県には日本国内にあるアメリカ軍基地の(5)が集中しており、県の面積の約20%を占めている。そのため、アメリカ軍基地に関係した仕事や観光産業などで働く人々が多い。一方で、農業やリゾート開発によって海が汚染されて貴重なサンゴ礁が破壊されるなどの環境問題も生じている。

2011年度の全国高等学校総合体育大会(インターハイ)は(イ)東北地方で開催されることになっており、“2011熱戦再来 北東北総体”をスローガンに(ウ)青森県・岩手県・秋田県などで各競技が行われる。

問1 (1)～(5)にあてはまるものをそれぞれ①～④より1つ選びなさい。

- | | | | | | |
|-------|--------|--------|--------|--------|----------|
| (1) | ① 香川県 | ② 鳥取県 | ③ 奈良県 | ④ 神奈川県 | 【解答番号 1】 |
| (2) | ① 馬 | ② 豚 | ③ 牛 | ④ 羊 | 【解答番号 2】 |
| (3) | ① 壱岐 | ② 佐渡 | ③ 対馬 | ④ 琉球 | 【解答番号 3】 |
| (4) | ① ユネスコ | ② WHO | ③ ユニセフ | ④ WTO | 【解答番号 4】 |
| (5) | ① 約25% | ② 約50% | ③ 約75% | ④ 約90% | 【解答番号 5】 |

問2 下線部(ア)について、日本最西端の島を①～④より1つ選びなさい。

- ① 西表島 ② 石垣島 ③ 宮古島 ④ 与那国島 【解答番号 6】

問3 表1は、秋田・神奈川・島根・沖縄の年齢別人口割合(2009年10月1日現在)をあらわしたものである。沖縄をあらわしたものを表中の①～④より1つ選びなさい。

【解答番号 7】

表1

	年齢別人口 (%)		
	0～14歳	15～64歳	65歳以上
①	11.2	59.9	28.9
②	12.7	58.2	29.0
③	13.4	66.6	20.0
④	17.7	64.8	17.5
全国平均	13.3	63.9	22.7

『2010/11版 日本国勢図会』

問4 下線部(イ)について、東北地方の政治・経済・文化の中心都市を①～④より1つ選びなさい。

- ① 秋田市 ② 盛岡市 ③ 仙台市 ④ 八戸市 【解答番号 8】

問5 下線部(ウ)について、青森県の特産品として誤っているものを①～④より1つ選びなさい。

- ① りんご ② さくらんぼ ③ ほたて ④ にんにく 【解答番号 9】

問6 表2は、青森・岩手・秋田・宮城の産業別人口割合（2005年現在）をあらわしたものである。宮城をあらわしたものを表中の①～④より1つ選びなさい。

【解答番号 10】

表2

	産業別人口 (%)		
	第1次産業	第2次産業	第3次産業
①	6.2	23.5	70.3
②	11.1	26.7	62.2
③	13.7	25.9	60.4
④	14.0	21.4	64.6
全国平均	4.8	26.1	69.1

『2010/11版 日本国勢図会』

[2] 次の文章を読み、問1～問5に答えなさい。

アジア太平洋経済協力会議は、1989年、オーストラリアの提唱で始まった経済協力組織である。その理念は、アジア太平洋地域において「開かれた地域協力」を推進し、多様性に配慮しながら、各国の経済成長を持続させることであり、その実現を目指して多角的な自由貿易体制を強化していくこととされている。

問1 アジア太平洋経済協力会議をアルファベットであらわしたものを①～④より1つ選びなさい。

【解答番号 11】

- ① ASEAN ② OAPC ③ APEC ④ OECD

問2 アジア太平洋経済協力会議に参加している国として誤っているものを①～④より1つ選びなさい。

【解答番号 12】

- ① カナダ ② イギリス ③ メキシコ ④ ニュージーランド

問3 アジア太平洋経済協力会議に参加している国のなかで日本との時差が最も大きい国を①～④より1つ選びなさい。

【解答番号 13】

- ① ペルー ② 大韓民国 ③ ベトナム ④ フィリピン

問4 アメリカは日本にとって最大の輸出国である。日本からアメリカへのおもな輸出品として誤っているものを①～④より1つ選びなさい。

【解答番号 14】

- ① 機械類 ② 自動車 ③ 鉄鋼 ④ とうもろこし

問5 2010年8月、チリの鉱山で崩落事故が起こり、33名の鉱山作業員が地下の坑道内に閉じ込められた。この鉱山で産出される資源については、チリが世界最大の産出国で全体の約36.1%（2007年）を占めている。この資源を①～④より1つ選びなさい。

【解答番号 15】

- ① 金 ② ボーキサイト ③ 銅 ④ すず

[3] 昨年、6月から7月にかけて、サッカーの世界カップが南アフリカ共和国で開催された。南アフリカ共和国の歴史について、問1～問4に答えなさい。

問1 1924年、南アフリカ共和国で最も古い人類の化石が見つかった。直立二足歩行していたと考えられるこの人類を①～④より1つ選びなさい。

【解答番号 16】

- ① アウストラロピテクス ② 北京原人 ③ ネアンデルタール人 ④ クロマニヨン人

問2 ヨーロッパで大航海時代が始まった15世紀末、一人のポルトガル人船乗りが南アフリカ共和国の喜望峰をまわり、インドのカリカットに到達した。インド航路を開拓したとされるこの人物を①～④より1つ選びなさい。

【解答番号 17】

- ① コロンブス ② ヴァスコ＝ダ＝ガマ ③ マゼラン ④ コルテス

問3 南アフリカ共和国の一部は、かつて、ヨーロッパのある国の支配下に置かれケープ植民地とよばれていた。このヨーロッパの国は18世紀後半、世界で最初の産業革命が起こり、19世紀には市場と原料を求めてアジアやアフリカに植民地を広げた。この国を①～④より1つ選びなさい。

【解答番号 18】

- ① オランダ ② スペイン ③ イギリス ④ フランス

問4 次の文章を読み、(1)・(2)にあてはまるものをそれぞれ①～④より1つ選びなさい。

南アフリカ共和国では 20 世紀の半ばから後半にかけて、少数の白人が大多数の非白人を支配・差別する政策がとられた。この人種隔離政策を (1) いう。(1) に反対する運動により反逆罪として逮捕され、27 年間もの長きに渡り刑務所に収容された人物が (2) である。(2) は釈放後、アフリカ民族会議(ANC)の議長に就任し、当時のデクラーク大統領と共に (1) を撤廃する方向へと南アフリカを導き、1993 年デクラークとともにノーベル平和賞を受賞した。1994 年には黒人として初の大統領に就任した。全民族融和の象徴として知られ、今回のワールドカップの開会式にもビデオメッセージを送った。

(1) ① アパルトヘイト ② ルネサンス ③ レジスタンス ④ ホロコースト

【解答番号 19】

(2) ① キング牧師 ② マザー＝テレサ ③ スー＝チー ④ マンデラ

【解答番号 20】

[4] 次のA～Fの各資料について、問1～問15に答えなさい。



A

Aは、周囲に濠^{ほり}をめぐらした集落の遺跡の写真である。

問1 Aの資料について、このような集落について述べた文として正しいものを①～④より1つ選びなさい。

【解答番号 21】

- ① 財産を外敵から守るためにつくられた。
- ② 支配者の墓をつくるためにつくられた。
- ③ 交易のために交通の便の良いところにつくられた。
- ④ 狩猟のさいに獲物を捕らえるためにつくられた。

問2 Aの資料について、このような集落が各地に多くつくられた時代として正しいものを①～④より1つ選びなさい。

【解答番号 22】

- ① 旧石器時代
- ② 縄文時代
- ③ 弥生時代
- ④ 古墳時代



B

Bは、かな文字の発達を示したものである。

問3 Bの資料について、かな文字の発達によって、宮廷の女性による文学作品が多く生み出された。『源氏物語』の作者として正しいものを①～④より1つ選びなさい。


【解答番号 23】

- ① 光明皇后 ② 清少納言 ③ 小野小町 ④ 紫式部

問4 Bの資料について、かな文字が発達した時代、地方では武士が大きな力を持つようになった。10世紀前半に下総国を拠点に関東地方で反乱を起こし、朝廷に抵抗した人物として正しいものを①～④より1つ選びなさい。

【解答番号 24】

- ① 平清盛 ② 藤原純友 ③ 平将門 ④ 源義朝



C

Cは、室町時代に使用された貨幣である。

問5 Cの資料について、この貨幣がつくられた国として正しいものを①～④より1つ選びなさい。

【解答番号 25】

- ① 宋 ② 元 ③ 明 ④ 清

問6 Cの資料について、このような貨幣を扱った室町時代の金貸しの名称として正しいものを①～④より1つ選びなさい。


【解答番号 26】

- ① 借上 ② 酒屋 ③ 座 ④ 株仲間

問7 Cの資料について、このような貨幣が使用された時代の説明文として正しいものを①～④より1つ選びなさい。

【解答番号 27】

- ① 人々は、地方の特産物を税として都に運ばねばならなかった。
② 各地で月に6回の定期市が開催され、さまざまな商品が売買された。
③ 各地の年貢や特産物が大阪に集まり、大阪は「天下の台所」とよばれた。
④ 三井や住友など、鉱山や造船所などさまざまな事業に手を広げる財閥が出現した。



D

Dは、青木昆陽によって書かれた『甘藷記』の一部である。

問8 Dの資料について、この青木昆陽を登用したり、新田開発を奨励したり、諸大名から米を差し出させる上げ米などを実施して、幕府政治の改革をすすめた人物として正しいものを①～④より1つ選びなさい。

【解答番号 28】

- ① 水野忠邦 ② 松平定信 ③ 田沼意次 ④ 徳川吉宗

問9 Dの資料について、「甘藷」は飢饉用の食べ物として、青木昆陽によって栽培が広められた。この時期に起きた飢饉の名称として正しいものを①～④より1つ選びなさい。

【解答番号 29】

- ① 寛永の飢饉 ② 享保の飢饉 ③ 天明の飢饉 ④ 天保の飢饉



E

Eは、伊藤博文の写真である。

問 10 Eの資料について、この人物は 1871 年、不平等条約改正のための使節団の一員として欧米に派遣された。この使節団の代表として正しいものを①～④より 1つ選びなさい。

【解答番号 30】

- ① 岩倉具視 ② 西郷隆盛 ③ 板垣退助 ④ 大隈重信

問 11 Eの資料について、この人物は、大日本帝国憲法の作成の中心であった。この憲法がモデルとしたのは次のどの国の憲法か。①～④より 1つ選びなさい。


【解答番号 31】

- ① イギリス ② アメリカ ③ ロシア ④ ドイツ

問 12 Eの資料について、この人物は、満州のハルビンで朝鮮の独立運動家によって暗殺された。下の年表を見て、この人物が暗殺された時期として正しいものを①～④より 1つ選びなさい。

【解答番号 32】

年代	できごと
1889年	大日本帝国憲法が公布される ①
1894年	日清戦争が始まる ②
1904年	日露戦争が始まる ③
1910年	日本が韓国を併合する ④



F

Fは、サンフランシスコ平和条約の調印の様子である。

問 13 Fの資料について、この条約を調印した日本の首相として正しいものを①～④より 1つ選びなさい。

【解答番号 33】

- ① 吉田茂 ② 池田勇人 ③ 佐藤栄作 ④ 東条英機

問 14 Fの資料について、この条約は日本と連合国 48 カ国との間で締結された。この時に条約を締結せず、その後日本が個別に交渉して国交を回復した国として正しいものを①～④より 1つ選びなさい。

【解答番号 34】

- ① オランダ ② イギリス ③ ソ連 ④ フランス

問 15 Fの資料について、この条約と同時に調印され、アメリカ軍が日本に駐留することを取り決めたものとして正しいものを①～④より1つ選びなさい。

【解答番号 35】

- ① 五大改革指令 ② ヤルタ協定 ③ 大西洋憲章 ④ 日米安全保障条約

[5] 次の文章を読み、問1～問3に答えなさい。

日本国憲法は、前文で「日本国民は、正当に選挙された国会における代表者を通じて行動」すると述べて、間接民主制を採用している。では「国会における代表者」である国会議員は、どのようにして選出され、また、どのような地位を与えられているのであろうか。

国会議員は選挙によって選出される。衆議院議員総選挙は(1)年の任期満了、あるいは(ア)衆議院の解散のときに実施され、(2)によって定数180名を、(3)によって定数300名を分けて選出している。(4)年ごとに議員の半数を改選している参議院議員通常選挙においても、定数242名のうち、96名については(2)制によって選出されるが、参議院議員選挙では、政党名か候補者名を記入して投票する、(5)式(2)制を採用している。

選挙によって選出された国会議員は、衆議院と参議院にそれぞれ17ある(6)のいずれかに所属し、議案の発議権や表決権など、その所属する(6)の活動に参加する権限を有する。ただし、これらの権限については、制度上または実際上さまざまな制約があり、議員が単独で行使できないものも多い。例えば、議案の発議の中でも、法律案の発議については、一定以上の人数の議員の賛成が必要とされる。また、表決権についても、会派が国会内において一体で行動するために、所属議員に対して、党議拘束を加えることが普通である。

また国会議員は、その職責を十分に果たせるように、一般国民には認められない特権、すなわち、歳費受領権、不逮捕特権および免責特権が憲法上保障されている。さらに、各議院は議院規則制定権をもち、それに違反した議員は懲罰にかけられるが、議員を除名するためには(イ)出席議員の3分の2以上の多数による議決が必要とされている。

しかし、国会議員の活動は、こうした国会ないし議院内におけるものにとどまらず、地方からの陳情を受けることもあれば、週末などには地元選挙区に戻って講演会などを開催したりもしている。こういった活動は議員自身の支持基盤を強化し、次の選挙に備える意味合いもあるため非常に重要であると考えられている。

問1 (1)～(6)にあてはまるものをそれぞれ①～④より1つ選びなさい。

- (1) ① 2 ② 4 ③ 5 ④ 6

【解答番号 36】

- (2) ① 小選挙区 ② 中選挙区 ③ 比例代表 ④ 全国区

【解答番号 37】

- (3) ① 小選挙区制 ② 中選挙区制 ③ 比例代表制 ④ 大選挙区制

【解答番号 38】

- (4) ① 2 ② 3 ③ 4 ④ 6

【解答番号 39】

- (5) ① 拘束名簿 ② 非拘束名簿 ③ 制限連記 ④ 任意選択

【解答番号 40】

- (6) ① 法制局 ② 調査会 ③ 常任委員会 ④ 特別委員会

【解答番号 41】

問2 下線部(ア)の説明として誤っているものを①～④より1つ選びなさい。

【解答番号 42】

- ① 衆議院の解散は、日本国憲法第69条に基づいて行われる場合と、第7条に基づいて行われる場合がある。
② 日本国憲法下で、第69条に基づいて衆議院の解散が行われたのは、わずか4例である。
③ 日本国憲法の規定によれば、衆議院の解散中に、国会を召集する緊急の必要が生じたとき、内閣は参議院の緊急集会を求めることができる。
④ 衆議院が内閣不信任決議案を可決したとき、または信任決議案を否決したとき、内閣は総辞職しなければならないが、衆議院も解散しなければならない。

問3 下線部(イ)について、議員の除名の場合と同じく、出席議員の3分の2以上の多数による議決を必要とするものの組合せを①～⑥より1つ選びなさい。

【解答番号 43】

- (a) 憲法改正の発議 (b) 予算の議決 (c) 条約の承認 (d) 法律案の衆議院での再議決

選択肢

- ① (a)と(b) ② (a)と(c) ③ (a)と(d) ④ (b)と(c) ⑤ (b)と(d) ⑥ (c)と(d)

[6] 次の文章を読み、問1～問5に答えなさい。

(ア)資本主義経済では、市場を通じて財・サービスが取引される。市場では、価格が重要な指標となって取引が行われ、人の手によるなんらかの力が働かない競争が実現すれば、資源が適切に配分されると考えられている。こうした価格メカニズムを中心とした経済では、それぞれの産業においても、一国全体の経済においても、需要と供給が常に一致するとは限らない。そのため、かならず景気循環が起こり、各国はいつもその影響に悩まされてきた。第二次世界大戦後の日本をみてもやはり、そういった景気循環の波が繰り返し起こってきたことがわかる。(イ)景気が過熱したり、あるいは過度に後退することによって発生するさまざまな弊害をできるかぎり取り除くために、(ウ)金融政策や財政政策などによって景気を安定させる努力が続けられてきた。

しかし、そういった景気循環は、あくまでも景気の波の短期的な動きであり、長期的にみれば戦後の日本経済は飛躍的な成長を遂げたといえる。第二次世界大戦後の混乱期から奇跡的な復興を遂げ、1950年代半ばから(1)を実現し、(エ)石油危機による景気後退はあったものの、それを乗り越えて世界でも有数の経済大国に成長した。その後も、(2)と呼ばれる好景気を実現した。

ところが、1990年代に入って、株価や地価が暴落を始め、それによって(2)が崩壊し、その後の日本経済は「失われた(3)」と呼ばれるほど、長期にわたり深刻な事態に陥り続けた。一時期、景気は回復基調に転じ、それが長く続いた時期もあったが、海外の金融危機をきっかけとして再び深刻な不況期が続いている。

問1 (1)～(3)にあてはまるものをそれぞれ①～④より1つ選びなさい。

(1) ① 世界恐慌 ② 戦争景気 ③ 所得倍増計画 ④ 高度経済成長

【解答番号 44】

(2) ① いざなぎ景気 ② バブル経済 ③ マクロ経済 ④ 岩戸景気

【解答番号 45】

(3) ① 戦後 ② 国益 ③ 10年 ④ 1億ドル

【解答番号 46】

問2 下線部(ア)に関連して述べた文として誤っているものを①～④より1つ選びなさい。

【解答番号 47】

- ① マルクスは、イギリスの産業革命の初期に、資本主義経済の特徴を理論的に明らかにし、分業と自由競争の利点を主張した。
- ② 労働者は、労働力を商品として企業に売ることによって、自由な雇用関係に入るようになった。
- ③ 生産・供給の主体である企業は、労働者を雇用して事業活動を行い、最大限の利益追求を目指す。
- ④ 企業は自由に商品の生産・販売を行うことができ、消費者は自由に消費することが許されている。

問3 下線部(イ)について、景気後退によって一般に起こることが多い「物価の下落」のことを何というか。①～④より1つ選びなさい。

【解答番号 48】

- ① インフレーション ② デフレーション ③ スタグフレーション ④ アクティベーション

問4 下線部(ウ)に関連して述べた文として誤っているものを①～④より1つ選びなさい。

【解答番号 49】

- ① 日本銀行が利子率を上下させて民間企業に融資する量を調整する金融政策は公共歩合操作と呼ばれる。
- ② 市中銀行は、受け入れた預金のうち、一定割合を日本銀行に預けることになっている。
- ③ 日本銀行は、金融市場で国債や手形などの有価証券を売買することによって、直接的に通貨量を調整している。
- ④ 預金者の預金を保護するため、1971年に、政府と日本銀行と民間金融機関が共同で出資して預金保険機構が設立された。

問5 下線部(エ)について述べた文として正しいものを①～④より1つ選びなさい。

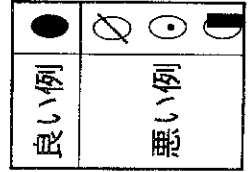
【解答番号 50】

- ① 第四次中東戦争によって中東地域の治安が悪化し、それによって原油の積み出しが困難になり、日本にも原油が入ってきにくくなった。
- ② 石油製品の生産量が急激に伸びたため、世界全体の石油の供給が間に合わず、経済に大きな影響を及ぼした。
- ③ 電力の需要が石油中心の火力発電から、ウラン中心の原子力発電へと急速に転換が進み、需要が減った石油産出国の景気後退が世界に波及した。
- ④ OPECによる原油価格の大幅引き上げが続き、インフレや物不足パニックが起こって日本経済は混乱し、戦後初のマイナス成長を経験した。

受験番号									
0	0	0	0	0	0	0	0	0	0
1	1	1	1	1	1	1	1	1	1
2	2	2	2	2	2	2	2	2	2
3	3	3	3	3	3	3	3	3	3
4	4	4	4	4	4	4	4	4	4
5	5	5	5	5	5	5	5	5	5
6	6	6	6	6	6	6	6	6	6
7	7	7	7	7	7	7	7	7	7
8	8	8	8	8	8	8	8	8	8
9	9	9	9	9	9	9	9	9	9

記入方法

1. 記入は必ずHBの黒鉛筆で、○の中を正確にぬりつぶして下さい。
2. 訂正する場合は、消しゴムできれいに消して下さい。
3. 解答用紙を汚したり、折り曲げたりしないで下さい。



解答番号	解答記入欄	解答番号	解答記入欄	解答番号	解答記入欄	解答番号	解答記入欄
1	① ② ③ ④ ⑤ ⑥ ⑦ ⑧ ⑨ ⑩	26	① ② ③ ④ ⑤ ⑥ ⑦ ⑧ ⑨ ⑩	51	① ② ③ ④ ⑤ ⑥ ⑦ ⑧ ⑨ ⑩	76	① ② ③ ④ ⑤ ⑥ ⑦ ⑧ ⑨ ⑩
2	① ② ③ ④ ⑤ ⑥ ⑦ ⑧ ⑨ ⑩	27	① ② ③ ④ ⑤ ⑥ ⑦ ⑧ ⑨ ⑩	52	① ② ③ ④ ⑤ ⑥ ⑦ ⑧ ⑨ ⑩	77	① ② ③ ④ ⑤ ⑥ ⑦ ⑧ ⑨ ⑩
3	① ② ③ ④ ⑤ ⑥ ⑦ ⑧ ⑨ ⑩	28	① ② ③ ④ ⑤ ⑥ ⑦ ⑧ ⑨ ⑩	53	① ② ③ ④ ⑤ ⑥ ⑦ ⑧ ⑨ ⑩	78	① ② ③ ④ ⑤ ⑥ ⑦ ⑧ ⑨ ⑩
4	① ② ③ ④ ⑤ ⑥ ⑦ ⑧ ⑨ ⑩	29	① ② ③ ④ ⑤ ⑥ ⑦ ⑧ ⑨ ⑩	54	① ② ③ ④ ⑤ ⑥ ⑦ ⑧ ⑨ ⑩	79	① ② ③ ④ ⑤ ⑥ ⑦ ⑧ ⑨ ⑩
5	① ② ③ ④ ⑤ ⑥ ⑦ ⑧ ⑨ ⑩	30	① ② ③ ④ ⑤ ⑥ ⑦ ⑧ ⑨ ⑩	55	① ② ③ ④ ⑤ ⑥ ⑦ ⑧ ⑨ ⑩	80	① ② ③ ④ ⑤ ⑥ ⑦ ⑧ ⑨ ⑩
6	① ② ③ ④ ⑤ ⑥ ⑦ ⑧ ⑨ ⑩	31	① ② ③ ④ ⑤ ⑥ ⑦ ⑧ ⑨ ⑩	56	① ② ③ ④ ⑤ ⑥ ⑦ ⑧ ⑨ ⑩	81	① ② ③ ④ ⑤ ⑥ ⑦ ⑧ ⑨ ⑩
7	① ② ③ ④ ⑤ ⑥ ⑦ ⑧ ⑨ ⑩	32	① ② ③ ④ ⑤ ⑥ ⑦ ⑧ ⑨ ⑩	57	① ② ③ ④ ⑤ ⑥ ⑦ ⑧ ⑨ ⑩	82	① ② ③ ④ ⑤ ⑥ ⑦ ⑧ ⑨ ⑩
8	① ② ③ ④ ⑤ ⑥ ⑦ ⑧ ⑨ ⑩	33	① ② ③ ④ ⑤ ⑥ ⑦ ⑧ ⑨ ⑩	58	① ② ③ ④ ⑤ ⑥ ⑦ ⑧ ⑨ ⑩	83	① ② ③ ④ ⑤ ⑥ ⑦ ⑧ ⑨ ⑩
9	① ② ③ ④ ⑤ ⑥ ⑦ ⑧ ⑨ ⑩	34	① ② ③ ④ ⑤ ⑥ ⑦ ⑧ ⑨ ⑩	59	① ② ③ ④ ⑤ ⑥ ⑦ ⑧ ⑨ ⑩	84	① ② ③ ④ ⑤ ⑥ ⑦ ⑧ ⑨ ⑩
10	① ② ③ ④ ⑤ ⑥ ⑦ ⑧ ⑨ ⑩	35	① ② ③ ④ ⑤ ⑥ ⑦ ⑧ ⑨ ⑩	60	① ② ③ ④ ⑤ ⑥ ⑦ ⑧ ⑨ ⑩	85	① ② ③ ④ ⑤ ⑥ ⑦ ⑧ ⑨ ⑩
11	① ② ③ ④ ⑤ ⑥ ⑦ ⑧ ⑨ ⑩	36	① ② ③ ④ ⑤ ⑥ ⑦ ⑧ ⑨ ⑩	61	① ② ③ ④ ⑤ ⑥ ⑦ ⑧ ⑨ ⑩	86	① ② ③ ④ ⑤ ⑥ ⑦ ⑧ ⑨ ⑩
12	① ② ③ ④ ⑤ ⑥ ⑦ ⑧ ⑨ ⑩	37	① ② ③ ④ ⑤ ⑥ ⑦ ⑧ ⑨ ⑩	62	① ② ③ ④ ⑤ ⑥ ⑦ ⑧ ⑨ ⑩	87	① ② ③ ④ ⑤ ⑥ ⑦ ⑧ ⑨ ⑩
13	① ② ③ ④ ⑤ ⑥ ⑦ ⑧ ⑨ ⑩	38	① ② ③ ④ ⑤ ⑥ ⑦ ⑧ ⑨ ⑩	63	① ② ③ ④ ⑤ ⑥ ⑦ ⑧ ⑨ ⑩	88	① ② ③ ④ ⑤ ⑥ ⑦ ⑧ ⑨ ⑩
14	① ② ③ ④ ⑤ ⑥ ⑦ ⑧ ⑨ ⑩	39	① ② ③ ④ ⑤ ⑥ ⑦ ⑧ ⑨ ⑩	64	① ② ③ ④ ⑤ ⑥ ⑦ ⑧ ⑨ ⑩	89	① ② ③ ④ ⑤ ⑥ ⑦ ⑧ ⑨ ⑩
15	① ② ③ ④ ⑤ ⑥ ⑦ ⑧ ⑨ ⑩	40	① ② ③ ④ ⑤ ⑥ ⑦ ⑧ ⑨ ⑩	65	① ② ③ ④ ⑤ ⑥ ⑦ ⑧ ⑨ ⑩	90	① ② ③ ④ ⑤ ⑥ ⑦ ⑧ ⑨ ⑩
16	① ② ③ ④ ⑤ ⑥ ⑦ ⑧ ⑨ ⑩	41	① ② ③ ④ ⑤ ⑥ ⑦ ⑧ ⑨ ⑩	66	① ② ③ ④ ⑤ ⑥ ⑦ ⑧ ⑨ ⑩	91	① ② ③ ④ ⑤ ⑥ ⑦ ⑧ ⑨ ⑩
17	① ② ③ ④ ⑤ ⑥ ⑦ ⑧ ⑨ ⑩	42	① ② ③ ④ ⑤ ⑥ ⑦ ⑧ ⑨ ⑩	67	① ② ③ ④ ⑤ ⑥ ⑦ ⑧ ⑨ ⑩	92	① ② ③ ④ ⑤ ⑥ ⑦ ⑧ ⑨ ⑩
18	① ② ③ ④ ⑤ ⑥ ⑦ ⑧ ⑨ ⑩	43	① ② ③ ④ ⑤ ⑥ ⑦ ⑧ ⑨ ⑩	68	① ② ③ ④ ⑤ ⑥ ⑦ ⑧ ⑨ ⑩	93	① ② ③ ④ ⑤ ⑥ ⑦ ⑧ ⑨ ⑩
19	① ② ③ ④ ⑤ ⑥ ⑦ ⑧ ⑨ ⑩	44	① ② ③ ④ ⑤ ⑥ ⑦ ⑧ ⑨ ⑩	69	① ② ③ ④ ⑤ ⑥ ⑦ ⑧ ⑨ ⑩	94	① ② ③ ④ ⑤ ⑥ ⑦ ⑧ ⑨ ⑩
20	① ② ③ ④ ⑤ ⑥ ⑦ ⑧ ⑨ ⑩	45	① ② ③ ④ ⑤ ⑥ ⑦ ⑧ ⑨ ⑩	70	① ② ③ ④ ⑤ ⑥ ⑦ ⑧ ⑨ ⑩	95	① ② ③ ④ ⑤ ⑥ ⑦ ⑧ ⑨ ⑩
21	① ② ③ ④ ⑤ ⑥ ⑦ ⑧ ⑨ ⑩	46	① ② ③ ④ ⑤ ⑥ ⑦ ⑧ ⑨ ⑩	71	① ② ③ ④ ⑤ ⑥ ⑦ ⑧ ⑨ ⑩	96	① ② ③ ④ ⑤ ⑥ ⑦ ⑧ ⑨ ⑩
22	① ② ③ ④ ⑤ ⑥ ⑦ ⑧ ⑨ ⑩	47	① ② ③ ④ ⑤ ⑥ ⑦ ⑧ ⑨ ⑩	72	① ② ③ ④ ⑤ ⑥ ⑦ ⑧ ⑨ ⑩	97	① ② ③ ④ ⑤ ⑥ ⑦ ⑧ ⑨ ⑩
23	① ② ③ ④ ⑤ ⑥ ⑦ ⑧ ⑨ ⑩	48	① ② ③ ④ ⑤ ⑥ ⑦ ⑧ ⑨ ⑩	73	① ② ③ ④ ⑤ ⑥ ⑦ ⑧ ⑨ ⑩	98	① ② ③ ④ ⑤ ⑥ ⑦ ⑧ ⑨ ⑩
24	① ② ③ ④ ⑤ ⑥ ⑦ ⑧ ⑨ ⑩	49	① ② ③ ④ ⑤ ⑥ ⑦ ⑧ ⑨ ⑩	74	① ② ③ ④ ⑤ ⑥ ⑦ ⑧ ⑨ ⑩	99	① ② ③ ④ ⑤ ⑥ ⑦ ⑧ ⑨ ⑩
25	① ② ③ ④ ⑤ ⑥ ⑦ ⑧ ⑨ ⑩	50	① ② ③ ④ ⑤ ⑥ ⑦ ⑧ ⑨ ⑩	75	① ② ③ ④ ⑤ ⑥ ⑦ ⑧ ⑨ ⑩	100	① ② ③ ④ ⑤ ⑥ ⑦ ⑧ ⑨ ⑩

2点 x 50

受験番号									
0	0	0	0	0	0	0	0	0	0
1	1	1	1	1	1	1	1	1	1
2	2	2	2	2	2	2	2	2	2
3	3	3	3	3	3	3	3	3	3
4	4	4	4	4	4	4	4	4	4
5	5	5	5	5	5	5	5	5	5
6	6	6	6	6	6	6	6	6	6
7	7	7	7	7	7	7	7	7	7
8	8	8	8	8	8	8	8	8	8
9	9	9	9	9	9	9	9	9	9

解答番号	解答記入欄	解答番号	解答記入欄	解答番号	解答記入欄	解答番号	解答記入欄
1	● 2 3 4 5 6 7 8 9 0	26	○ 3 4 5 6 7 8 9 0	51	○ 1 2 3 4 5 6 7 8 9 0	76	○ 1 2 3 4 5 6 7 8 9 0
2	○ 1 2 3 4 5 6 7 8 9 0	27	○ 1 2 3 4 5 6 7 8 9 0	52	○ 1 2 3 4 5 6 7 8 9 0	77	○ 1 2 3 4 5 6 7 8 9 0
3	○ 1 2 3 4 5 6 7 8 9 0	28	○ 1 2 3 4 5 6 7 8 9 0	53	○ 1 2 3 4 5 6 7 8 9 0	78	○ 1 2 3 4 5 6 7 8 9 0
4	○ 1 2 3 4 5 6 7 8 9 0	29	○ 1 2 3 4 5 6 7 8 9 0	54	○ 1 2 3 4 5 6 7 8 9 0	79	○ 1 2 3 4 5 6 7 8 9 0
5	○ 1 2 3 4 5 6 7 8 9 0	30	○ 1 2 3 4 5 6 7 8 9 0	55	○ 1 2 3 4 5 6 7 8 9 0	80	○ 1 2 3 4 5 6 7 8 9 0
6	○ 1 2 3 4 5 6 7 8 9 0	31	○ 1 2 3 4 5 6 7 8 9 0	56	○ 1 2 3 4 5 6 7 8 9 0	81	○ 1 2 3 4 5 6 7 8 9 0
7	○ 1 2 3 4 5 6 7 8 9 0	32	○ 1 2 3 4 5 6 7 8 9 0	57	○ 1 2 3 4 5 6 7 8 9 0	82	○ 1 2 3 4 5 6 7 8 9 0
8	○ 1 2 3 4 5 6 7 8 9 0	33	○ 1 2 3 4 5 6 7 8 9 0	58	○ 1 2 3 4 5 6 7 8 9 0	83	○ 1 2 3 4 5 6 7 8 9 0
9	○ 1 2 3 4 5 6 7 8 9 0	34	○ 1 2 3 4 5 6 7 8 9 0	59	○ 1 2 3 4 5 6 7 8 9 0	84	○ 1 2 3 4 5 6 7 8 9 0
10	○ 1 2 3 4 5 6 7 8 9 0	35	○ 1 2 3 4 5 6 7 8 9 0	60	○ 1 2 3 4 5 6 7 8 9 0	85	○ 1 2 3 4 5 6 7 8 9 0
11	○ 1 2 3 4 5 6 7 8 9 0	36	○ 1 2 3 4 5 6 7 8 9 0	61	○ 1 2 3 4 5 6 7 8 9 0	86	○ 1 2 3 4 5 6 7 8 9 0
12	○ 1 2 3 4 5 6 7 8 9 0	37	○ 1 2 3 4 5 6 7 8 9 0	62	○ 1 2 3 4 5 6 7 8 9 0	87	○ 1 2 3 4 5 6 7 8 9 0
13	○ 1 2 3 4 5 6 7 8 9 0	38	○ 1 2 3 4 5 6 7 8 9 0	63	○ 1 2 3 4 5 6 7 8 9 0	88	○ 1 2 3 4 5 6 7 8 9 0
14	○ 1 2 3 4 5 6 7 8 9 0	39	○ 1 2 3 4 5 6 7 8 9 0	64	○ 1 2 3 4 5 6 7 8 9 0	89	○ 1 2 3 4 5 6 7 8 9 0
15	○ 1 2 3 4 5 6 7 8 9 0	40	○ 1 2 3 4 5 6 7 8 9 0	65	○ 1 2 3 4 5 6 7 8 9 0	90	○ 1 2 3 4 5 6 7 8 9 0
16	○ 1 2 3 4 5 6 7 8 9 0	41	○ 1 2 3 4 5 6 7 8 9 0	66	○ 1 2 3 4 5 6 7 8 9 0	91	○ 1 2 3 4 5 6 7 8 9 0
17	○ 1 2 3 4 5 6 7 8 9 0	42	○ 1 2 3 4 5 6 7 8 9 0	67	○ 1 2 3 4 5 6 7 8 9 0	92	○ 1 2 3 4 5 6 7 8 9 0
18	○ 1 2 3 4 5 6 7 8 9 0	43	○ 1 2 3 4 5 6 7 8 9 0	68	○ 1 2 3 4 5 6 7 8 9 0	93	○ 1 2 3 4 5 6 7 8 9 0
19	○ 1 2 3 4 5 6 7 8 9 0	44	○ 1 2 3 4 5 6 7 8 9 0	69	○ 1 2 3 4 5 6 7 8 9 0	94	○ 1 2 3 4 5 6 7 8 9 0
20	○ 1 2 3 4 5 6 7 8 9 0	45	○ 1 2 3 4 5 6 7 8 9 0	70	○ 1 2 3 4 5 6 7 8 9 0	95	○ 1 2 3 4 5 6 7 8 9 0
21	○ 1 2 3 4 5 6 7 8 9 0	46	○ 1 2 3 4 5 6 7 8 9 0	71	○ 1 2 3 4 5 6 7 8 9 0	96	○ 1 2 3 4 5 6 7 8 9 0
22	○ 1 2 3 4 5 6 7 8 9 0	47	○ 1 2 3 4 5 6 7 8 9 0	72	○ 1 2 3 4 5 6 7 8 9 0	97	○ 1 2 3 4 5 6 7 8 9 0
23	○ 1 2 3 4 5 6 7 8 9 0	48	○ 1 2 3 4 5 6 7 8 9 0	73	○ 1 2 3 4 5 6 7 8 9 0	98	○ 1 2 3 4 5 6 7 8 9 0
24	○ 1 2 3 4 5 6 7 8 9 0	49	○ 1 2 3 4 5 6 7 8 9 0	74	○ 1 2 3 4 5 6 7 8 9 0	99	○ 1 2 3 4 5 6 7 8 9 0
25	○ 1 2 3 4 5 6 7 8 9 0	50	○ 1 2 3 4 5 6 7 8 9 0	75	○ 1 2 3 4 5 6 7 8 9 0	100	○ 1 2 3 4 5 6 7 8 9 0

記入方法

- 記入は必ずHBの黒鉛筆で、○の中を正確にぬりつぶして下さい。
- 訂正する場合は、消しゴムできれいに消して下さい。
- 解答用紙を汚したり、折り曲げたりしないで下さい。

良い例	●
悪い例	○